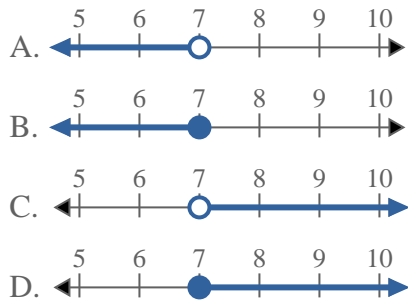
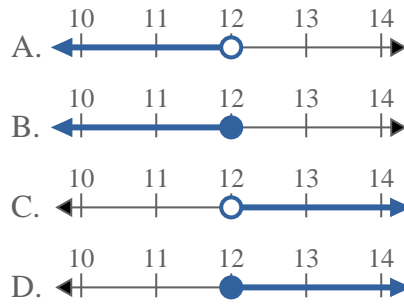
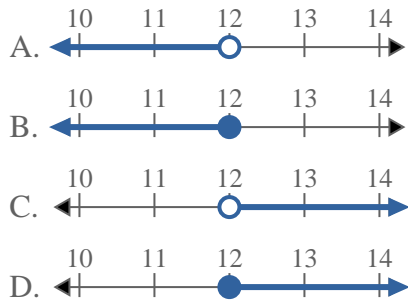
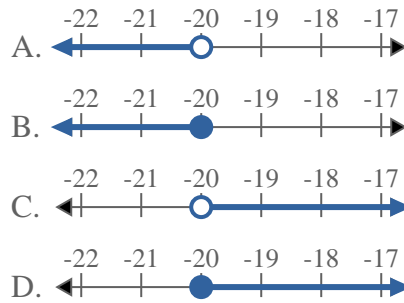
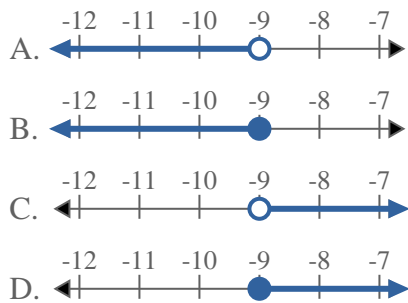
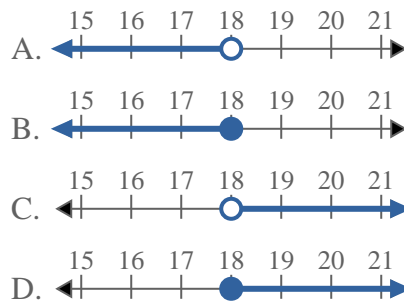
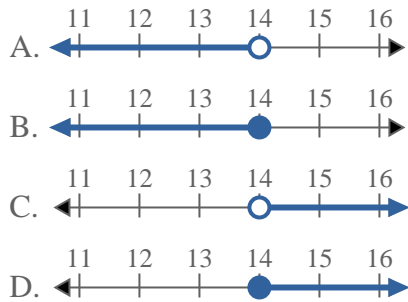
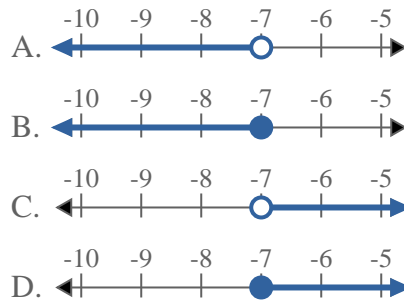
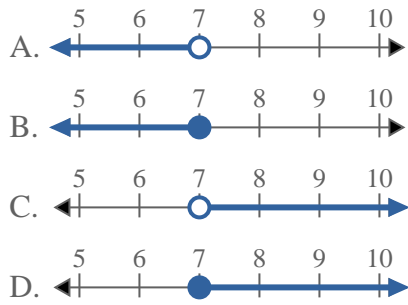
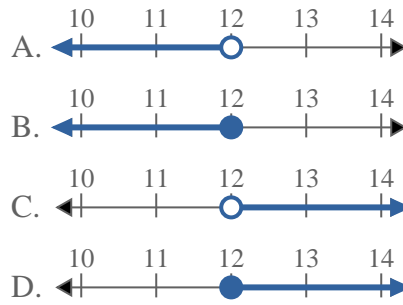
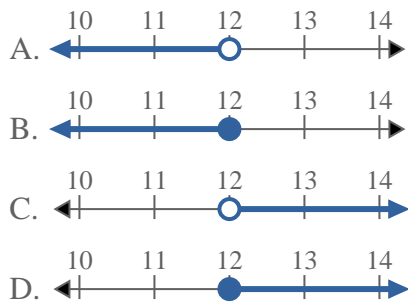
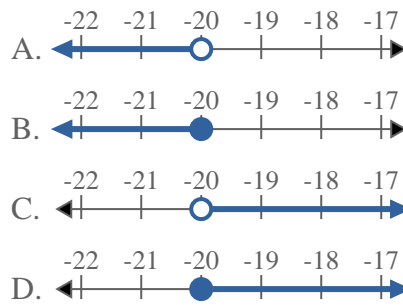
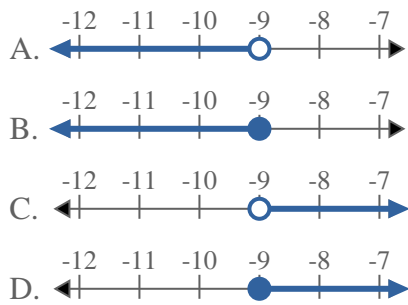
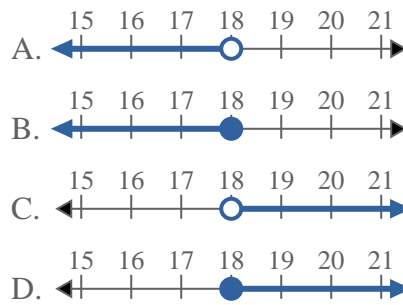
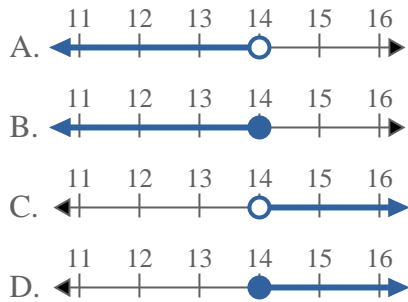
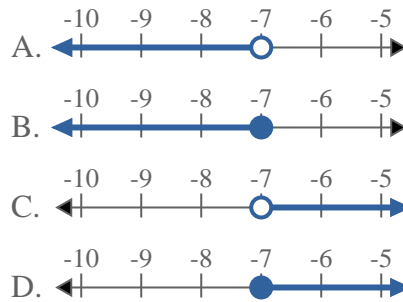


**Resuelve cada problema**1) ¿Qué opción representa mejor  $X > 7$ ?2) ¿Qué opción representa mejor  $X \geq 12$ ?3) ¿Qué opción representa mejor  $X \leq 12$ ?4) ¿Qué opción representa mejor  $X < -20$ ?5) ¿Qué opción representa mejor  $X < -9$ ?6) ¿Qué opción representa mejor  $X \leq 18$ ?7) ¿Qué opción representa mejor  $X < 14$ ?8) ¿Qué opción representa mejor  $X \leq -7$ ?**Respuestas**

1. \_\_\_\_\_
2. \_\_\_\_\_
3. \_\_\_\_\_
4. \_\_\_\_\_
5. \_\_\_\_\_
6. \_\_\_\_\_
7. \_\_\_\_\_
8. \_\_\_\_\_

**Resuelve cada problema**1) ¿Qué opción representa mejor  $X > 7$ ?2) ¿Qué opción representa mejor  $X \geq 12$ ?3) ¿Qué opción representa mejor  $X \leq 12$ ?4) ¿Qué opción representa mejor  $X < -20$ ?5) ¿Qué opción representa mejor  $X < -9$ ?6) ¿Qué opción representa mejor  $X \leq 18$ ?7) ¿Qué opción representa mejor  $X < 14$ ?8) ¿Qué opción representa mejor  $X \leq -7$ ?**Respuestas**

1.           **C**
2.           **D**
3.           **B**
4.           **A**
5.           **A**
6.           **B**
7.           **A**
8.           **B**