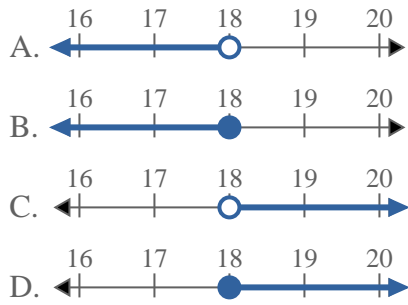
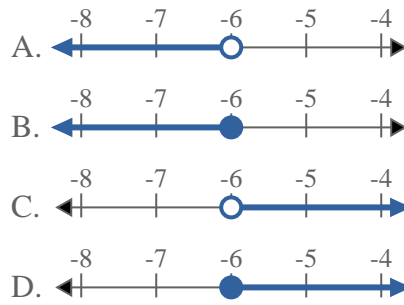
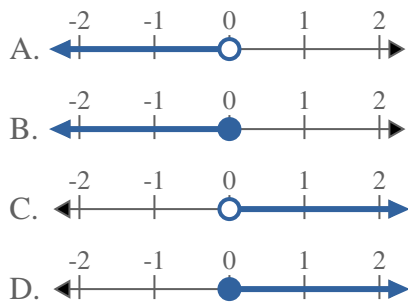
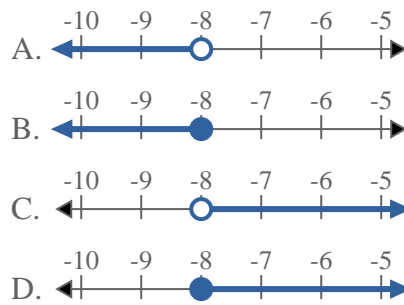
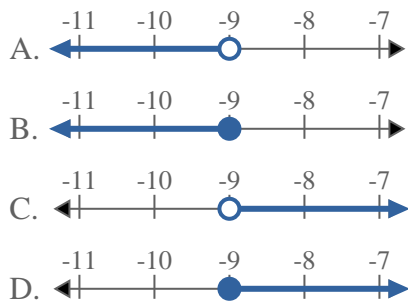
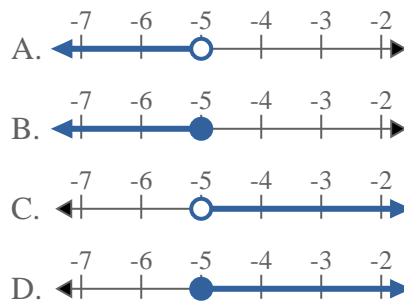
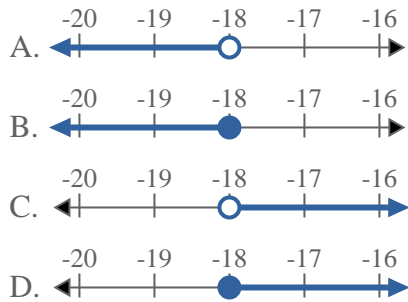
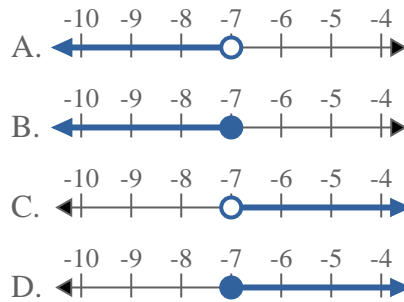
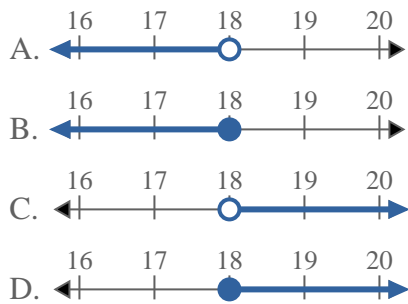
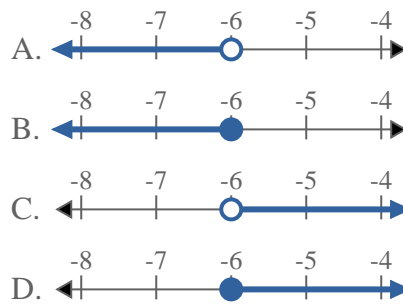
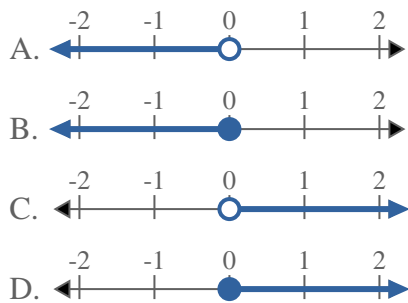
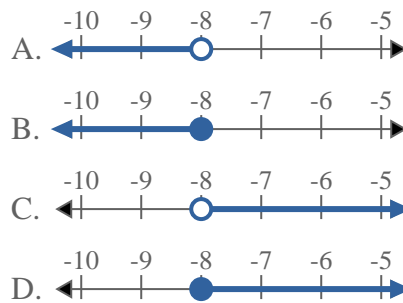
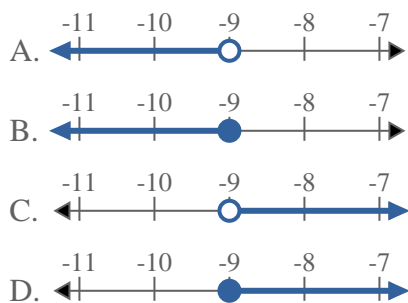
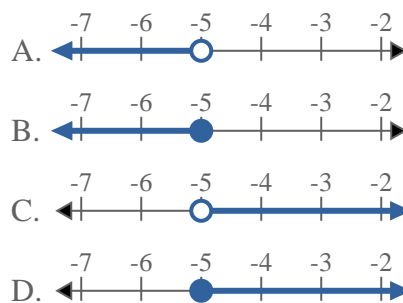
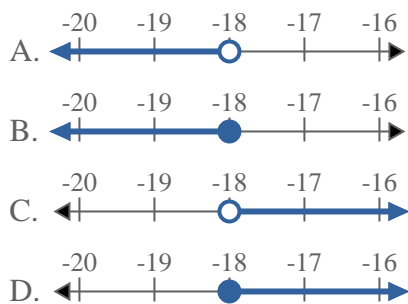
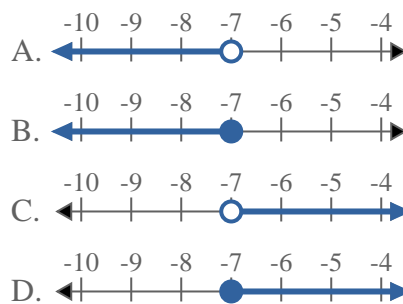


**Resuelve cada problema**1) ¿Qué opción representa mejor $X < 18$?2) ¿Qué opción representa mejor $X \leq -6$?3) ¿Qué opción representa mejor $X > 0$?4) ¿Qué opción representa mejor $X < -8$?5) ¿Qué opción representa mejor $X \leq -9$?6) ¿Qué opción representa mejor $X \geq -5$?7) ¿Qué opción representa mejor $X < -18$?8) ¿Qué opción representa mejor $X \leq -7$?**Respuestas**

1. _____
2. _____
3. _____
4. _____
5. _____
6. _____
7. _____
8. _____

**Resuelve cada problema**1) ¿Qué opción representa mejor $X < 18$?2) ¿Qué opción representa mejor $X \leq -6$?3) ¿Qué opción representa mejor $X > 0$?4) ¿Qué opción representa mejor $X < -8$?5) ¿Qué opción representa mejor $X \leq -9$?6) ¿Qué opción representa mejor $X \geq -5$?7) ¿Qué opción representa mejor $X < -18$?8) ¿Qué opción representa mejor $X \leq -7$?**Respuestas**

1. **A**
2. **B**
3. **C**
4. **A**
5. **B**
6. **D**
7. **A**
8. **B**