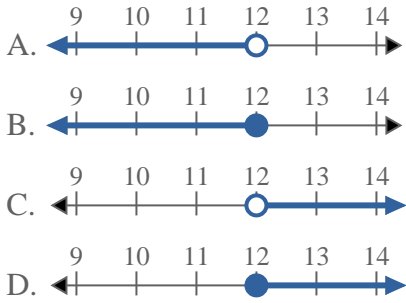


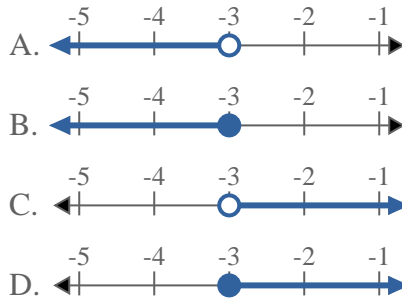


**Resuelve cada problema**

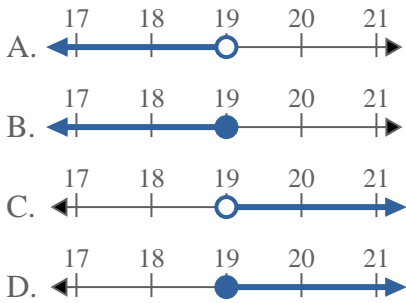
1) ¿Qué opción representa mejor  $X \leq 12$



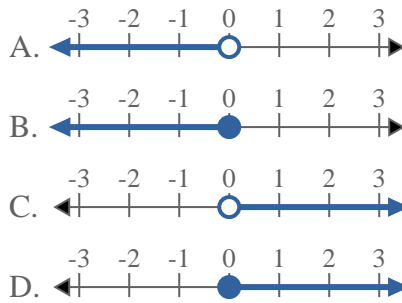
2) ¿Qué opción representa mejor  $X < -3$



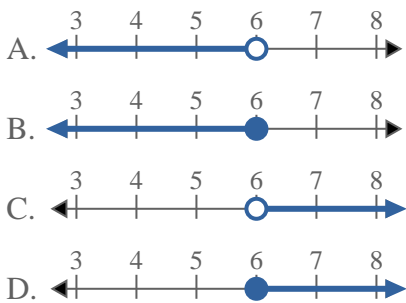
3) ¿Qué opción representa mejor  $X \leq 19$



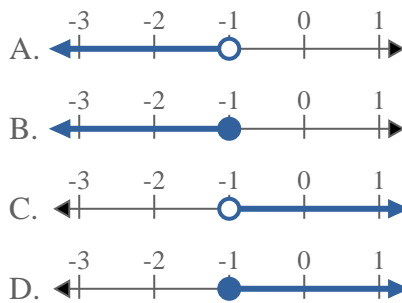
4) ¿Qué opción representa mejor  $X \leq 0$



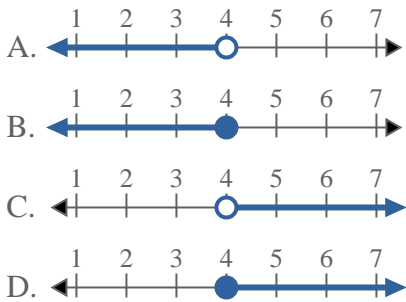
5) ¿Qué opción representa mejor  $X \leq 6$



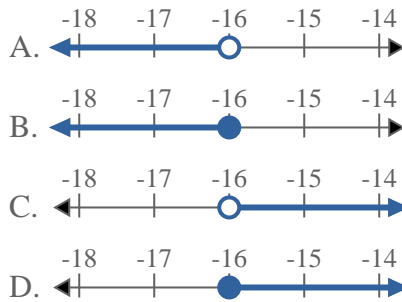
6) ¿Qué opción representa mejor  $X \geq -1$



7) ¿Qué opción representa mejor  $X \geq 4$

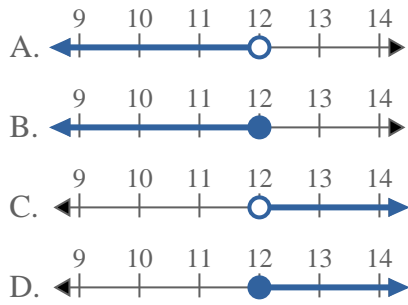
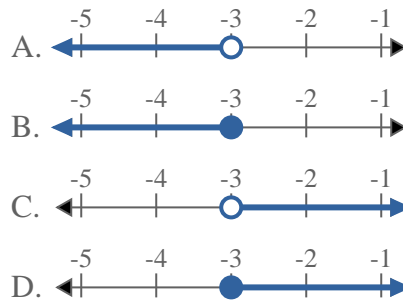
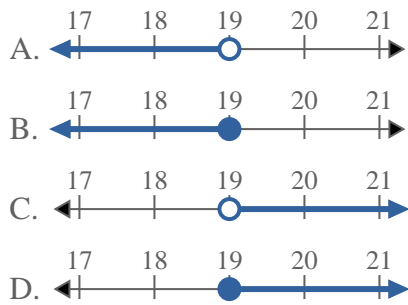
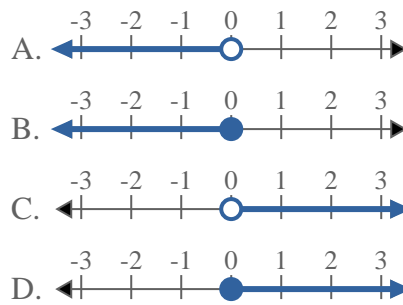
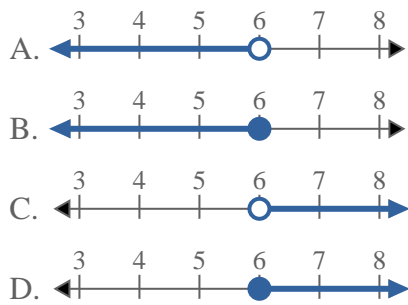
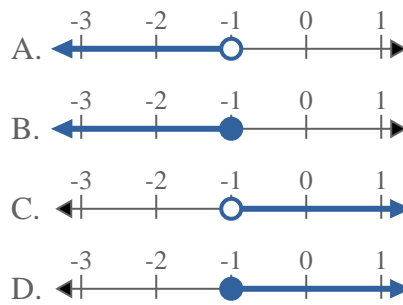
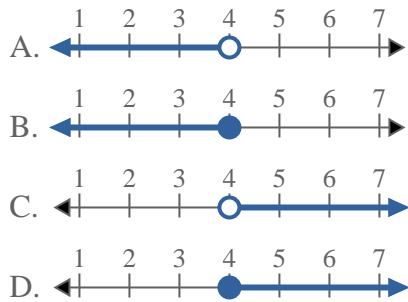
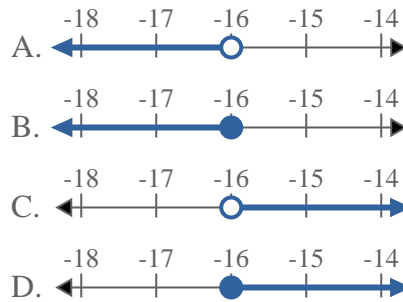


8) ¿Qué opción representa mejor  $X \geq -16$



**Respuestas**

1. \_\_\_\_\_
2. \_\_\_\_\_
3. \_\_\_\_\_
4. \_\_\_\_\_
5. \_\_\_\_\_
6. \_\_\_\_\_
7. \_\_\_\_\_
8. \_\_\_\_\_

**Resuelve cada problema**1) ¿Qué opción representa mejor  $X \leq 12$ ?2) ¿Qué opción representa mejor  $X < -3$ ?3) ¿Qué opción representa mejor  $X \leq 19$ ?4) ¿Qué opción representa mejor  $X \leq 0$ ?5) ¿Qué opción representa mejor  $X \leq 6$ ?6) ¿Qué opción representa mejor  $X \geq -1$ ?7) ¿Qué opción representa mejor  $X \geq 4$ ?8) ¿Qué opción representa mejor  $X \geq -16$ ?**Respuestas**

1.           **B**
2.           **A**
3.           **B**
4.           **B**
5.           **B**
6.           **D**
7.           **D**
8.           **D**