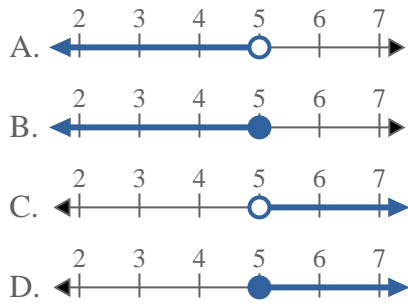
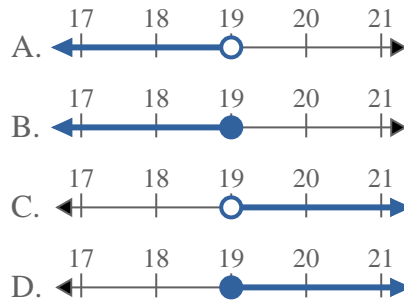
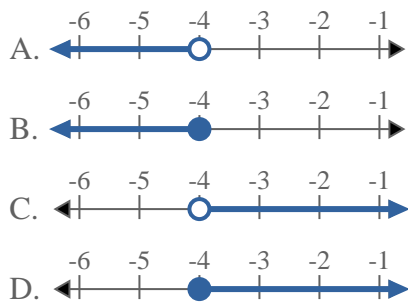
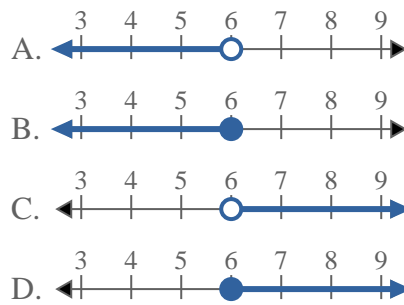
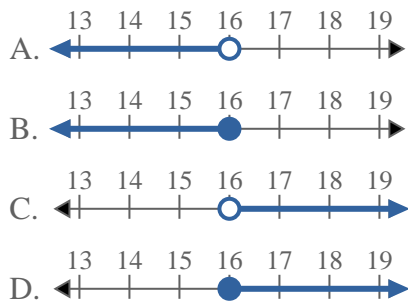
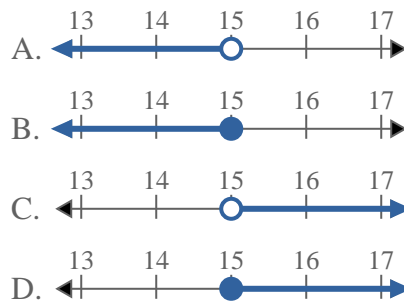
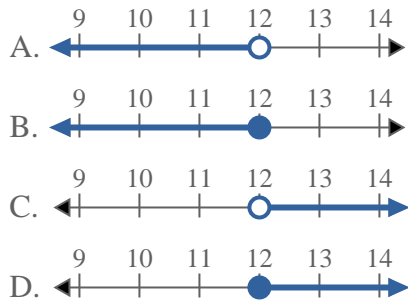
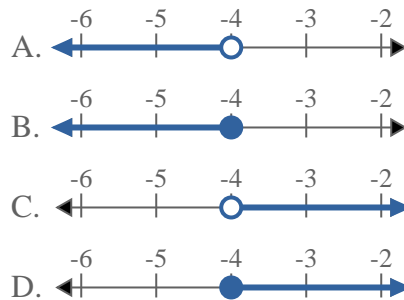
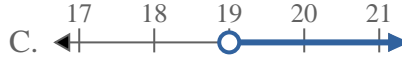
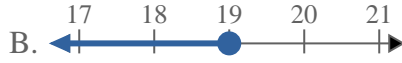
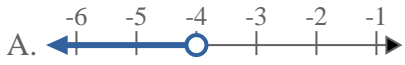
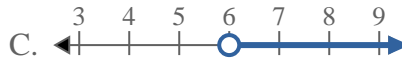
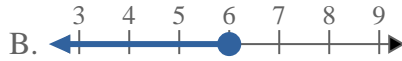
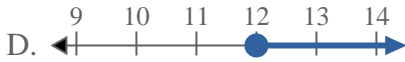
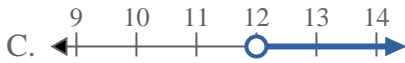


**Resuelve cada problema**1) ¿Qué opción representa mejor $X < 5$?2) ¿Qué opción representa mejor $X > 19$?3) ¿Qué opción representa mejor $X \geq -4$?4) ¿Qué opción representa mejor $X \leq 6$?5) ¿Qué opción representa mejor $X < 16$?6) ¿Qué opción representa mejor $X < 15$?7) ¿Qué opción representa mejor $X \geq 12$?8) ¿Qué opción representa mejor $X \leq -4$?**Respuestas**

1. _____
2. _____
3. _____
4. _____
5. _____
6. _____
7. _____
8. _____

**Resuelve cada problema**1) ¿Qué opción representa mejor $X < 5$?2) ¿Qué opción representa mejor $X > 19$?3) ¿Qué opción representa mejor $X \geq -4$?4) ¿Qué opción representa mejor $X \leq 6$?5) ¿Qué opción representa mejor $X < 16$?6) ¿Qué opción representa mejor $X < 15$?7) ¿Qué opción representa mejor $X \geq 12$?8) ¿Qué opción representa mejor $X \leq -4$?**Respuestas**1. **A** 2. **C** 3. **D** 4. **B** 5. **A** 6. **A** 7. **D** 8. **B**