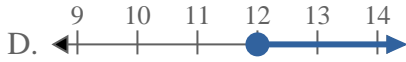
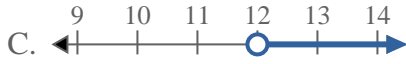
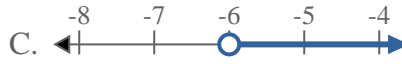
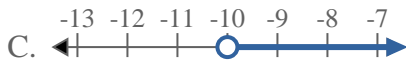
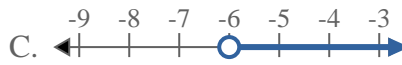
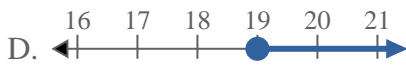
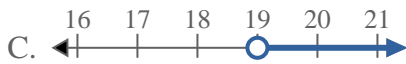
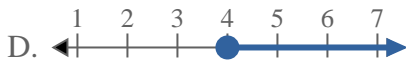
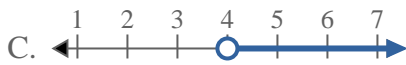


**Resuelve cada problema**1) ¿Qué opción representa mejor  $X > 12$ 2) ¿Qué opción representa mejor  $X \leq -6$ 3) ¿Qué opción representa mejor  $X \geq -10$ 4) ¿Qué opción representa mejor  $X \geq -6$ 5) ¿Qué opción representa mejor  $X \geq 19$ 6) ¿Qué opción representa mejor  $X \leq 18$ 7) ¿Qué opción representa mejor  $X \geq 4$ 8) ¿Qué opción representa mejor  $X \geq 14$ **Respuestas**

1. \_\_\_\_\_

2. \_\_\_\_\_

3. \_\_\_\_\_

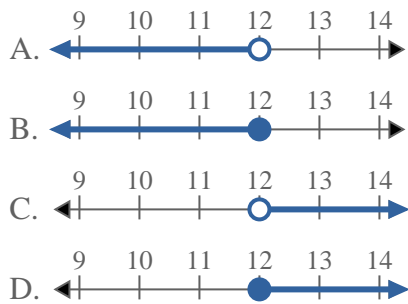
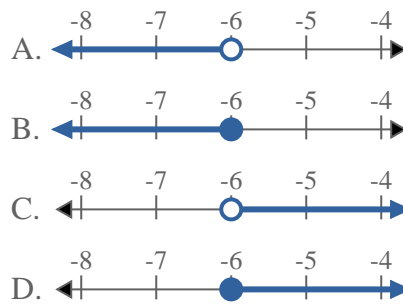
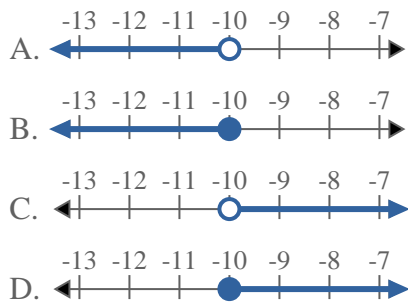
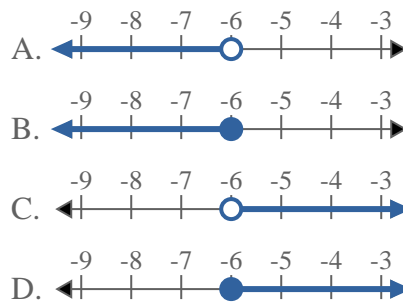
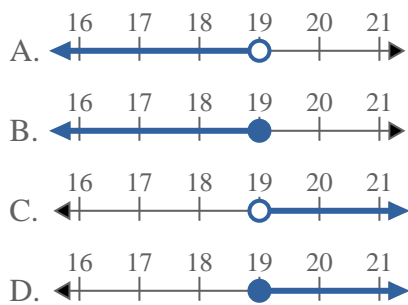
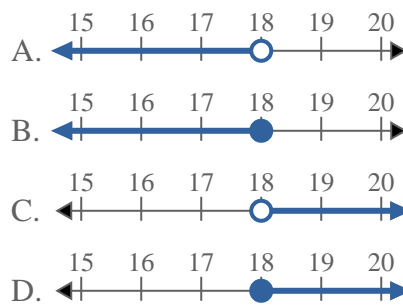
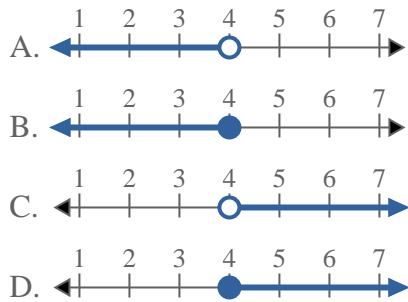
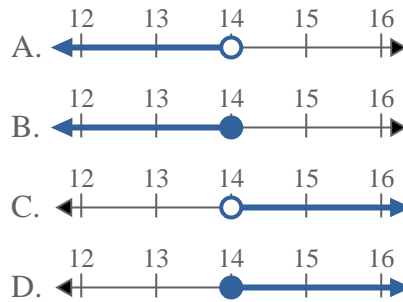
4. \_\_\_\_\_

5. \_\_\_\_\_

6. \_\_\_\_\_

7. \_\_\_\_\_

8. \_\_\_\_\_

**Resuelve cada problema**1) ¿Qué opción representa mejor  $X > 12$ ?2) ¿Qué opción representa mejor  $X \leq -6$ ?3) ¿Qué opción representa mejor  $X \geq -10$ ?4) ¿Qué opción representa mejor  $X \geq -6$ ?5) ¿Qué opción representa mejor  $X \geq 19$ ?6) ¿Qué opción representa mejor  $X \leq 18$ ?7) ¿Qué opción representa mejor  $X \geq 4$ ?8) ¿Qué opción representa mejor  $X \geq 14$ ?**Respuestas**

1.           **C**
2.           **B**
3.           **D**
4.           **D**
5.           **D**
6.           **B**
7.           **D**
8.           **D**