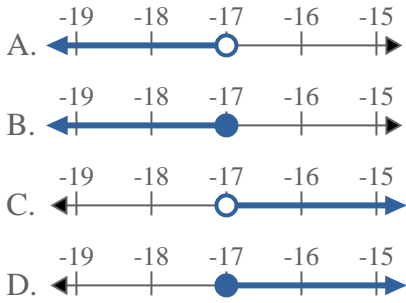


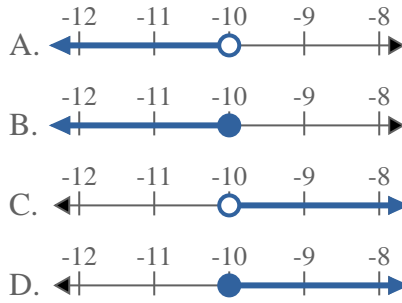


Resuelve cada problema

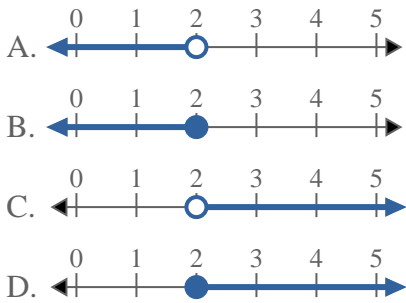
1) ¿Qué opción representa mejor $X \geq -17$



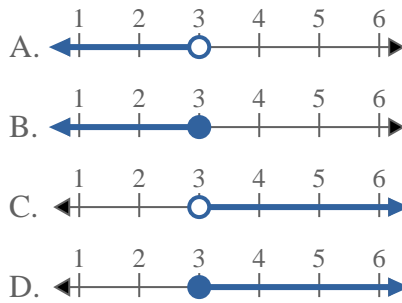
2) ¿Qué opción representa mejor $X < -10$



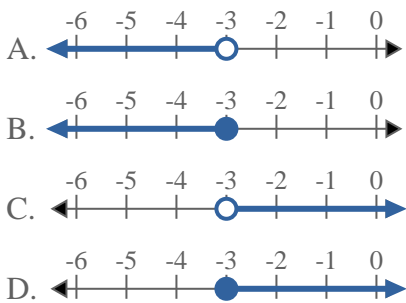
3) ¿Qué opción representa mejor $X > 2$



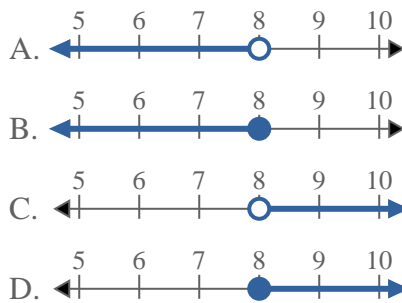
4) ¿Qué opción representa mejor $X > 3$



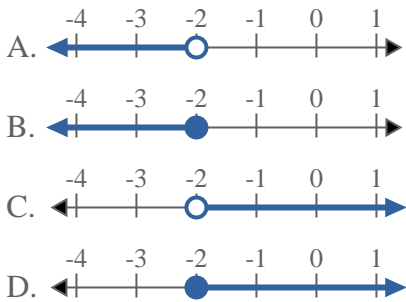
5) ¿Qué opción representa mejor $X \leq -3$



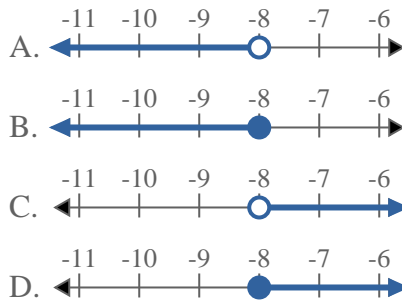
6) ¿Qué opción representa mejor $X \geq 8$



7) ¿Qué opción representa mejor $X \geq -2$

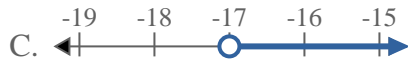
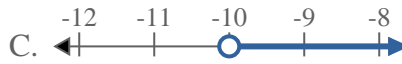
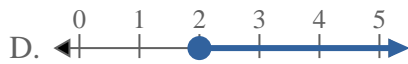
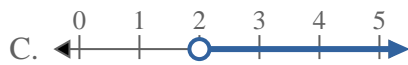
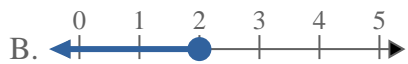
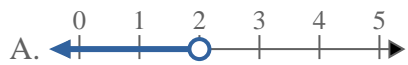
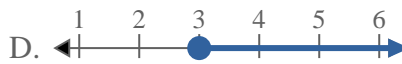
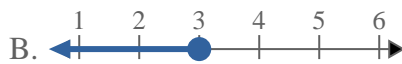
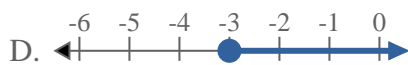
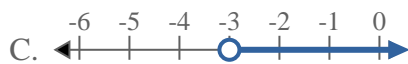
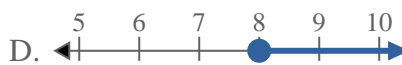
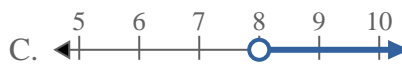
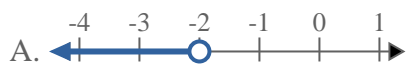
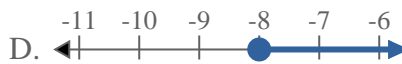
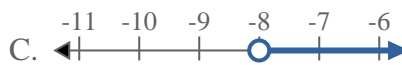


8) ¿Qué opción representa mejor $X \leq -8$



Respuestas

1. _____
2. _____
3. _____
4. _____
5. _____
6. _____
7. _____
8. _____

**Resuelve cada problema**1) ¿Qué opción representa mejor $X \geq -17$?2) ¿Qué opción representa mejor $X < -10$?3) ¿Qué opción representa mejor $X > 2$?4) ¿Qué opción representa mejor $X > 3$?5) ¿Qué opción representa mejor $X \leq -3$?6) ¿Qué opción representa mejor $X \geq 8$?7) ¿Qué opción representa mejor $X \geq -2$?8) ¿Qué opción representa mejor $X \leq -8$?**Respuestas**1. **D** 2. **A** 3. **C** 4. **C** 5. **B** 6. **D** 7. **D** 8. **B**