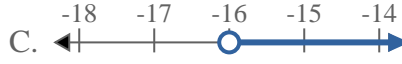
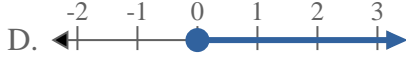
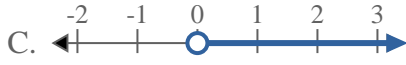
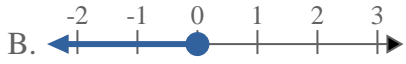
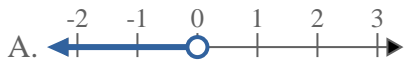
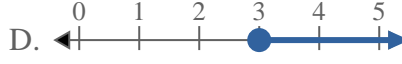
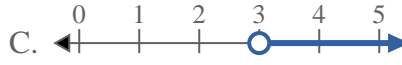
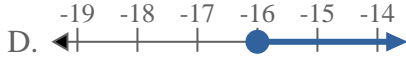
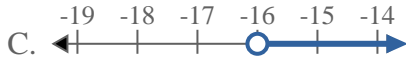
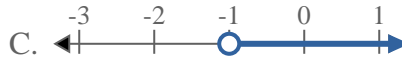
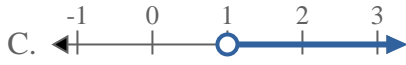
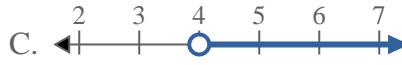
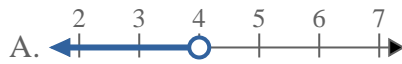


**Resuelve cada problema**1) ¿Qué opción representa mejor  $X \geq -20$ ?2) ¿Qué opción representa mejor  $X > -16$ ?3) ¿Qué opción representa mejor  $X \leq 0$ ?4) ¿Qué opción representa mejor  $X \leq 3$ ?5) ¿Qué opción representa mejor  $X < -16$ ?6) ¿Qué opción representa mejor  $X \leq -1$ ?7) ¿Qué opción representa mejor  $X > 1$ ?8) ¿Qué opción representa mejor  $X \leq 4$ ?**Respuestas**

1. \_\_\_\_\_

2. \_\_\_\_\_

3. \_\_\_\_\_

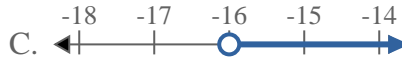
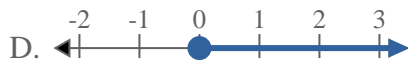
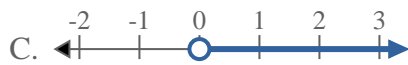
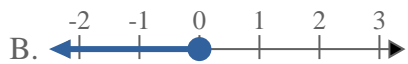
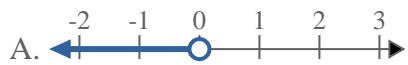
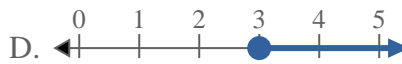
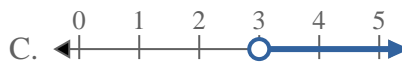
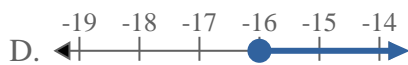
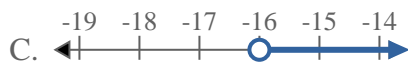
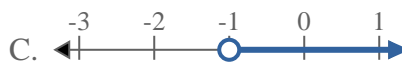
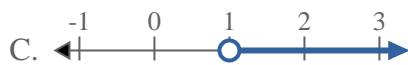
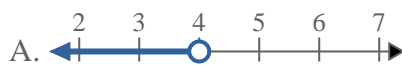
4. \_\_\_\_\_

5. \_\_\_\_\_

6. \_\_\_\_\_

7. \_\_\_\_\_

8. \_\_\_\_\_

**Resuelve cada problema**1) ¿Qué opción representa mejor  $X \geq -20$ ?2) ¿Qué opción representa mejor  $X > -16$ ?3) ¿Qué opción representa mejor  $X \leq 0$ ?4) ¿Qué opción representa mejor  $X \leq 3$ ?5) ¿Qué opción representa mejor  $X < -16$ ?6) ¿Qué opción representa mejor  $X \leq -1$ ?7) ¿Qué opción representa mejor  $X > 1$ ?8) ¿Qué opción representa mejor  $X \leq 4$ ?**Respuestas**1. **D**2. **C**3. **B**4. **B**5. **A**6. **B**7. **C**8. **B**