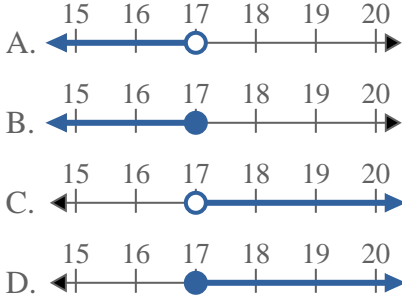


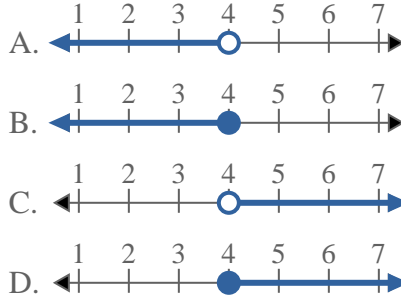


**Resuelve cada problema**

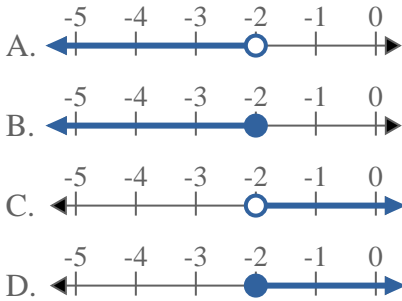
1) ¿Qué opción representa mejor  $X \leq 17$



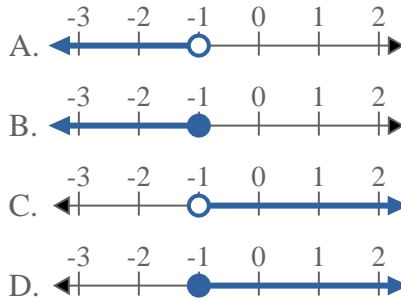
2) ¿Qué opción representa mejor  $X < 4$



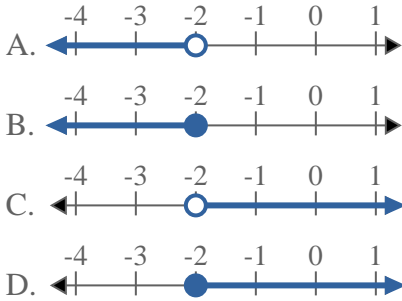
3) ¿Qué opción representa mejor  $X \leq -2$



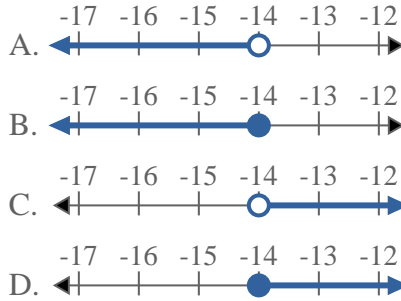
4) ¿Qué opción representa mejor  $X \geq -1$



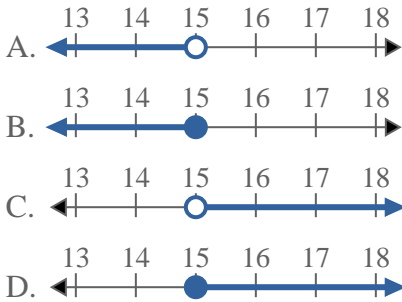
5) ¿Qué opción representa mejor  $X \geq -2$



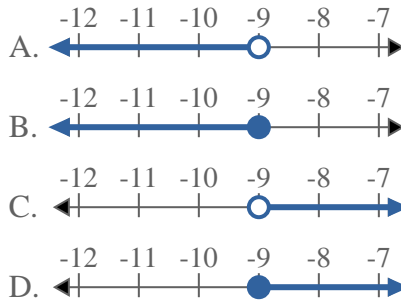
6) ¿Qué opción representa mejor  $X > -14$



7) ¿Qué opción representa mejor  $X > 15$



8) ¿Qué opción representa mejor  $X \leq -9$



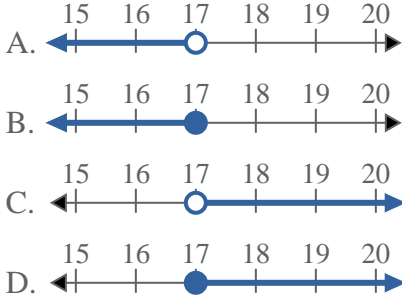
**Respuestas**

1. \_\_\_\_\_
2. \_\_\_\_\_
3. \_\_\_\_\_
4. \_\_\_\_\_
5. \_\_\_\_\_
6. \_\_\_\_\_
7. \_\_\_\_\_
8. \_\_\_\_\_

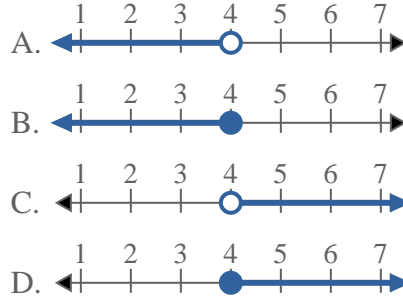


**Resuelve cada problema**

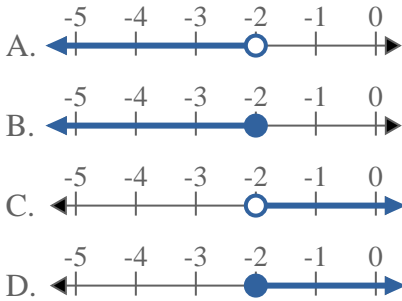
1) ¿Qué opción representa mejor  $X \leq 17$



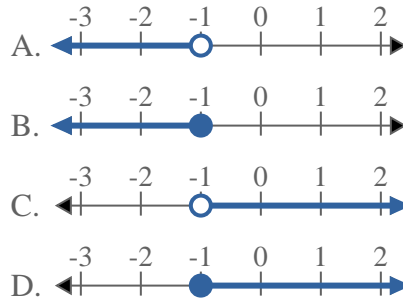
2) ¿Qué opción representa mejor  $X < 4$



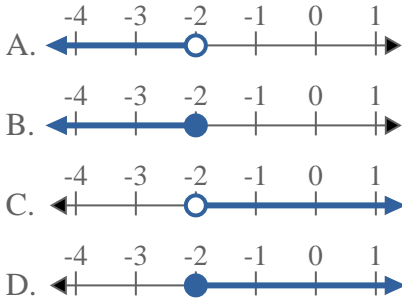
3) ¿Qué opción representa mejor  $X \leq -2$



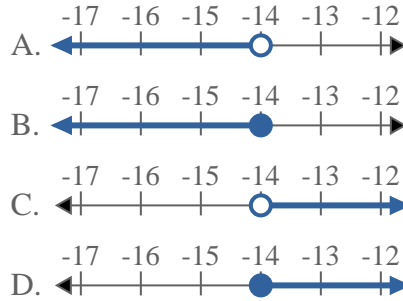
4) ¿Qué opción representa mejor  $X \geq -1$



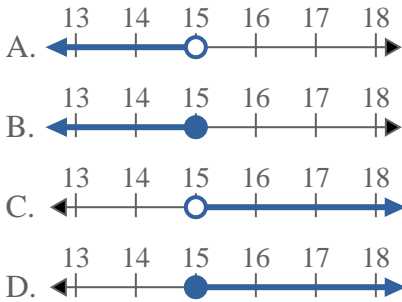
5) ¿Qué opción representa mejor  $X \geq -2$



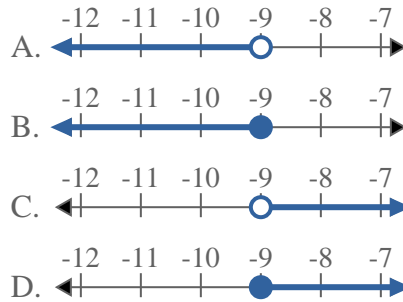
6) ¿Qué opción representa mejor  $X > -14$



7) ¿Qué opción representa mejor  $X > 15$



8) ¿Qué opción representa mejor  $X \leq -9$



**Respuestas**

1.     **B**
2.     **A**
3.     **B**
4.     **D**
5.     **D**
6.     **C**
7.     **C**
8.     **B**