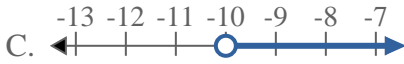
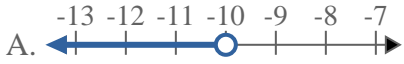


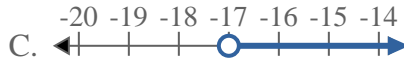


Resuelve cada problema

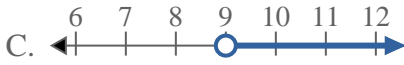
1) ¿Qué opción representa mejor $X > -10$



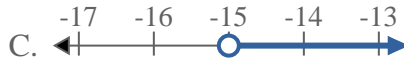
2) ¿Qué opción representa mejor $X \leq -17$



3) ¿Qué opción representa mejor $X > 9$



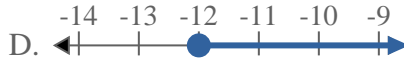
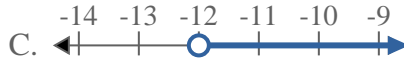
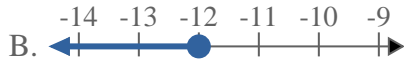
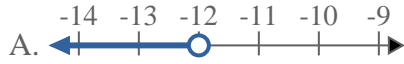
4) ¿Qué opción representa mejor $X > -15$



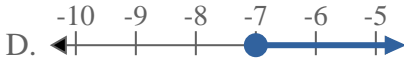
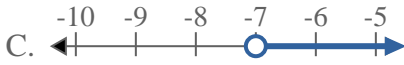
5) ¿Qué opción representa mejor $X < -14$



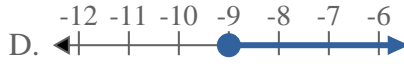
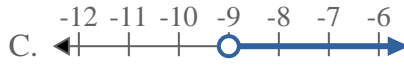
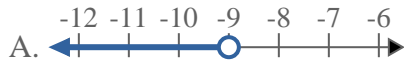
6) ¿Qué opción representa mejor $X \geq -12$



7) ¿Qué opción representa mejor $X > -7$



8) ¿Qué opción representa mejor $X > -9$



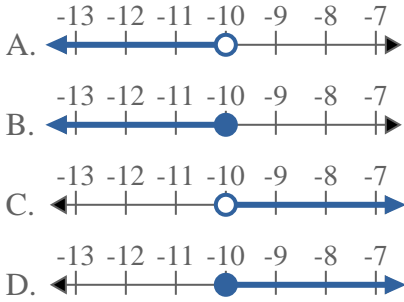
Respuestas

1. _____
2. _____
3. _____
4. _____
5. _____
6. _____
7. _____
8. _____

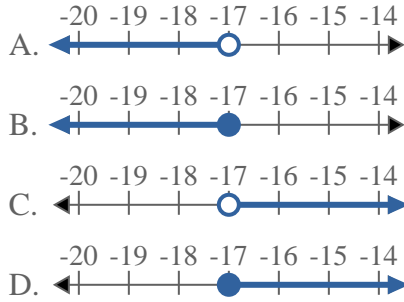


Resuelve cada problema

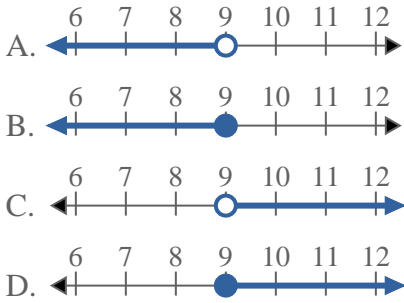
1) ¿Qué opción representa mejor $X > -10$



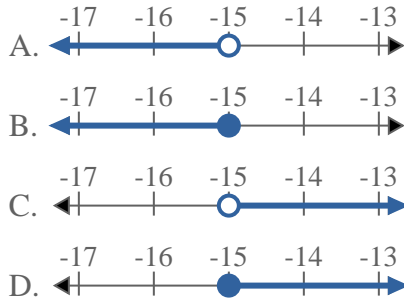
2) ¿Qué opción representa mejor $X \leq -17$



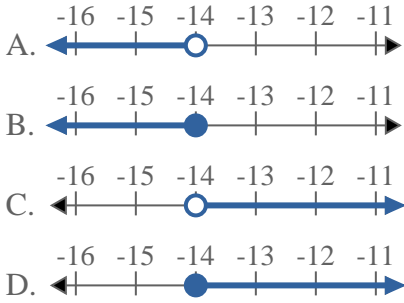
3) ¿Qué opción representa mejor $X > 9$



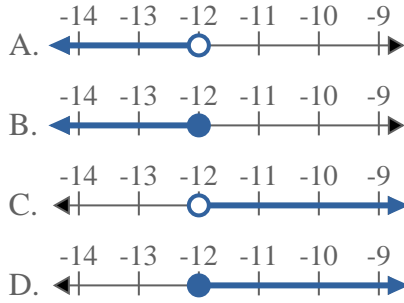
4) ¿Qué opción representa mejor $X > -15$



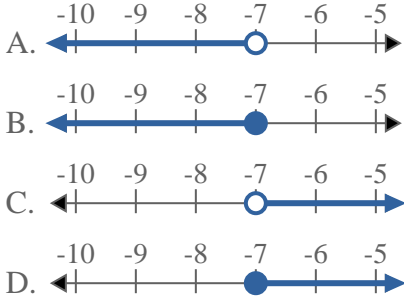
5) ¿Qué opción representa mejor $X < -14$



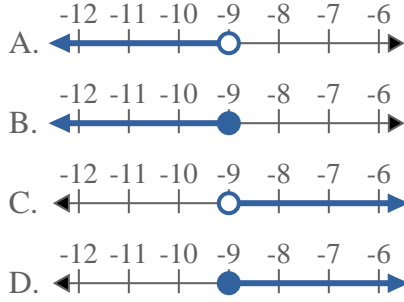
6) ¿Qué opción representa mejor $X \geq -12$



7) ¿Qué opción representa mejor $X > -7$



8) ¿Qué opción representa mejor $X > -9$



Respuestas

1. **C**
2. **B**
3. **C**
4. **C**
5. **A**
6. **D**
7. **C**
8. **C**