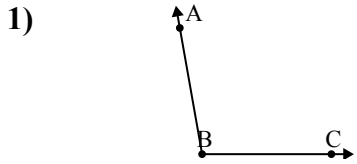


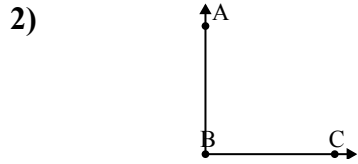


Resuelve cada problema.



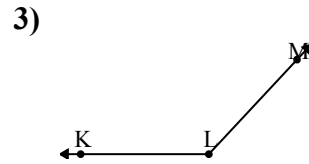
¿Que opción representa mejor  $\angle ABC$ ?

- A.  $178^\circ$
- B.  $39^\circ$
- C.  $100^\circ$
- D.  $72^\circ$



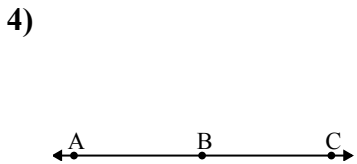
¿Que opción representa mejor  $\angle ABC$ ?

- A.  $158^\circ$
- B.  $69^\circ$
- C.  $90^\circ$
- D.  $21^\circ$



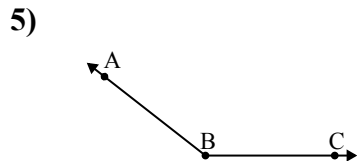
¿Que opción representa mejor  $\angle KLM$ ?

- A.  $20^\circ$
- B.  $83^\circ$
- C.  $133^\circ$
- D.  $163^\circ$



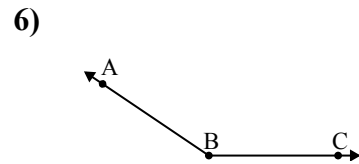
¿Que opción representa mejor  $\angle ABC$ ?

- A.  $149^\circ$
- B.  $77^\circ$
- C.  $180^\circ$
- D.  $16^\circ$



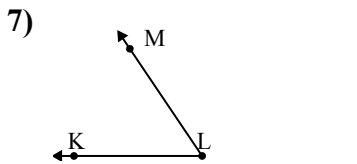
¿Que opción representa mejor  $\angle ABC$ ?

- A.  $142^\circ$
- B.  $179^\circ$
- C.  $64^\circ$
- D.  $21^\circ$



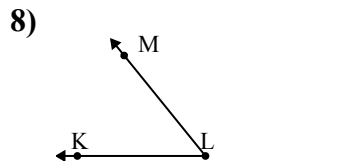
¿Que opción representa mejor  $\angle ABC$ ?

- A.  $69^\circ$
- B.  $3^\circ$
- C.  $146^\circ$
- D.  $96^\circ$



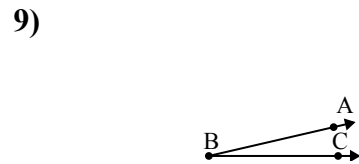
¿Que opción representa mejor  $\angle KLM$ ?

- A.  $123^\circ$
- B.  $3^\circ$
- C.  $147^\circ$
- D.  $56^\circ$



¿Que opción representa mejor  $\angle KLM$ ?

- A.  $108^\circ$
- B.  $51^\circ$
- C.  $3^\circ$
- D.  $172^\circ$



¿Que opción representa mejor  $\angle ABC$ ?

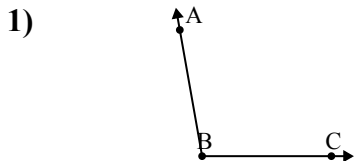
- A.  $13^\circ$
- B.  $127^\circ$
- C.  $171^\circ$
- D.  $66^\circ$

Respuestas

1. \_\_\_\_\_
2. \_\_\_\_\_
3. \_\_\_\_\_
4. \_\_\_\_\_
5. \_\_\_\_\_
6. \_\_\_\_\_
7. \_\_\_\_\_
8. \_\_\_\_\_
9. \_\_\_\_\_

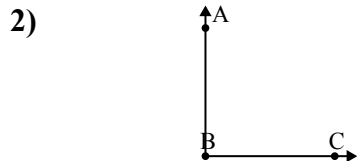


Resuelve cada problema.



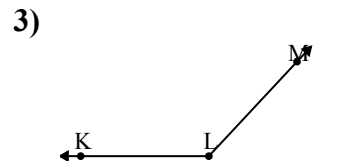
¿Que opción representa mejor  $\angle ABC$ ?

- A.  $178^\circ$
- B.  $39^\circ$
- C.  $100^\circ$
- D.  $72^\circ$



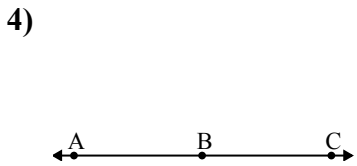
¿Que opción representa mejor  $\angle ABC$ ?

- A.  $158^\circ$
- B.  $69^\circ$
- C.  $90^\circ$
- D.  $21^\circ$



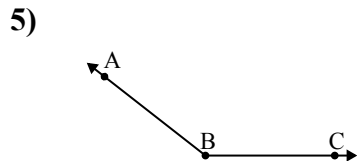
¿Que opción representa mejor  $\angle KLM$ ?

- A.  $20^\circ$
- B.  $83^\circ$
- C.  $133^\circ$
- D.  $163^\circ$



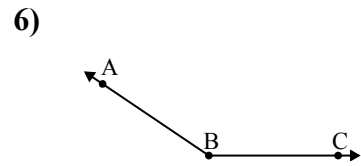
¿Que opción representa mejor  $\angle ABC$ ?

- A.  $149^\circ$
- B.  $77^\circ$
- C.  $180^\circ$
- D.  $16^\circ$



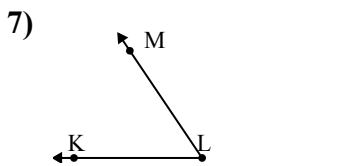
¿Que opción representa mejor  $\angle ABC$ ?

- A.  $142^\circ$
- B.  $179^\circ$
- C.  $64^\circ$
- D.  $21^\circ$



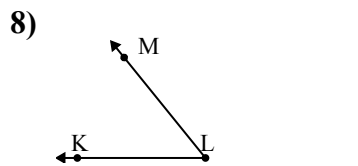
¿Que opción representa mejor  $\angle ABC$ ?

- A.  $69^\circ$
- B.  $3^\circ$
- C.  $146^\circ$
- D.  $96^\circ$



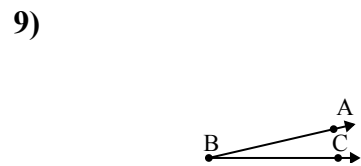
¿Que opción representa mejor  $\angle KLM$ ?

- A.  $123^\circ$
- B.  $3^\circ$
- C.  $147^\circ$
- D.  $56^\circ$



¿Que opción representa mejor  $\angle KLM$ ?

- A.  $108^\circ$
- B.  $51^\circ$
- C.  $3^\circ$
- D.  $172^\circ$



¿Que opción representa mejor  $\angle ABC$ ?

- A.  $13^\circ$
- B.  $127^\circ$
- C.  $171^\circ$
- D.  $66^\circ$

**Respuestas**

- 1.     **C**
- 2.     **C**
- 3.     **C**
- 4.     **C**
- 5.     **A**
- 6.     **C**
- 7.     **D**
- 8.     **B**
- 9.     **A**