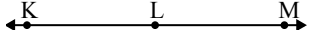




Resuelve cada problema.

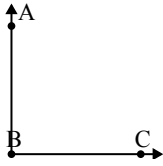
1)



¿Que opción representa mejor $\angle KLM$?

- A. 180°
- B. 78°
- C. 25°
- D. 126°

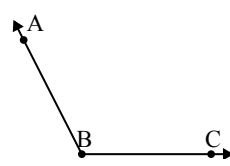
2)



¿Que opción representa mejor $\angle ABC$?

- A. 139°
- B. 164°
- C. 90°
- D. 60°

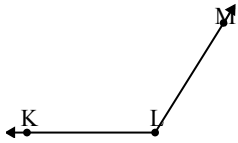
3)



¿Que opción representa mejor $\angle ABC$?

- A. 24°
- B. 157°
- C. 63°
- D. 117°

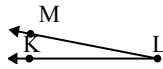
4)



¿Que opción representa mejor $\angle KLM$?

- A. 77°
- B. 122°
- C. 53°
- D. 178°

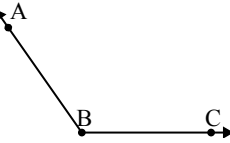
5)



¿Que opción representa mejor $\angle KLM$?

- A. 135°
- B. 11°
- C. 48°
- D. 157°

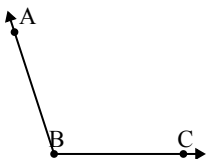
6)



¿Que opción representa mejor $\angle ABC$?

- A. 99°
- B. 164°
- C. 125°
- D. 75°

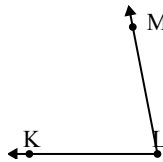
7)



¿Que opción representa mejor $\angle ABC$?

- A. 33°
- B. 68°
- C. 108°
- D. 166°

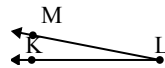
8)



¿Que opción representa mejor $\angle KLM$?

- A. 144°
- B. 79°
- C. 105°
- D. 35°

9)



¿Que opción representa mejor $\angle KLM$?

- A. 140°
- B. 171°
- C. 11°
- D. 52°

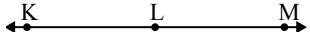
Respuestas

1. _____
2. _____
3. _____
4. _____
5. _____
6. _____
7. _____
8. _____
9. _____



Resuelve cada problema.

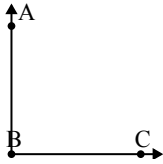
1)



¿Que opción representa mejor $\angle KLM$?

- A. 180°
- B. 78°
- C. 25°
- D. 126°

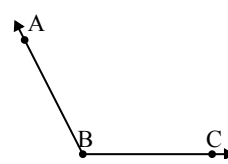
2)



¿Que opción representa mejor $\angle ABC$?

- A. 139°
- B. 164°
- C. 90°
- D. 60°

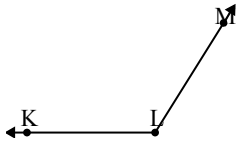
3)



¿Que opción representa mejor $\angle ABC$?

- A. 24°
- B. 157°
- C. 63°
- D. 117°

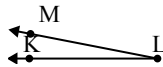
4)



¿Que opción representa mejor $\angle KLM$?

- A. 77°
- B. 122°
- C. 53°
- D. 178°

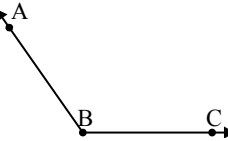
5)



¿Que opción representa mejor $\angle KLM$?

- A. 135°
- B. 11°
- C. 48°
- D. 157°

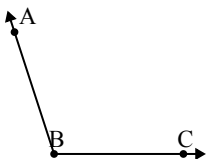
6)



¿Que opción representa mejor $\angle ABC$?

- A. 99°
- B. 164°
- C. 125°
- D. 75°

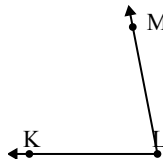
7)



¿Que opción representa mejor $\angle ABC$?

- A. 33°
- B. 68°
- C. 108°
- D. 166°

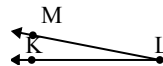
8)



¿Que opción representa mejor $\angle KLM$?

- A. 144°
- B. 79°
- C. 105°
- D. 35°

9)



¿Que opción representa mejor $\angle KLM$?

- A. 140°
- B. 171°
- C. 11°
- D. 52°

Respuestas

- 1. **A**
- 2. **C**
- 3. **D**
- 4. **B**
- 5. **B**
- 6. **C**
- 7. **C**
- 8. **B**
- 9. **C**