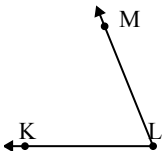
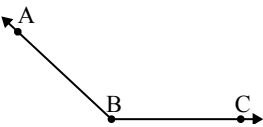
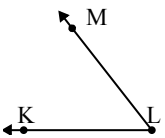


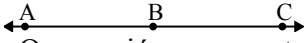


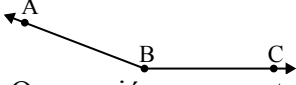
Resuelve cada problema.

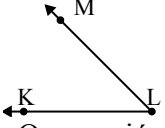
- 1)   
 ¿Que opción representa mejor  $\angle KLM$ ?
- A.  $134^\circ$
  - B.  $168^\circ$
  - C.  $68^\circ$
  - D.  $22^\circ$

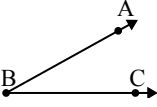
- 2)   
 ¿Que opción representa mejor  $\angle ABC$ ?
- A.  $81^\circ$
  - B.  $11^\circ$
  - C.  $137^\circ$
  - D.  $47^\circ$

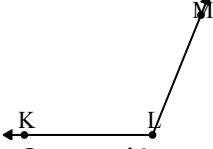
- 3)   
 ¿Que opción representa mejor  $\angle KLM$ ?
- A.  $52^\circ$
  - B.  $161^\circ$
  - C.  $94^\circ$
  - D.  $124^\circ$

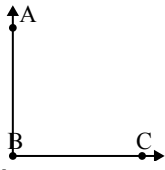
- 4)   
 ¿Que opción representa mejor  $\angle ABC$ ?
- A.  $180^\circ$
  - B.  $125^\circ$
  - C.  $10^\circ$
  - D.  $64^\circ$

- 5)   
 ¿Que opción representa mejor  $\angle ABC$ ?
- A.  $56^\circ$
  - B.  $89^\circ$
  - C.  $159^\circ$
  - D.  $10^\circ$

- 6)   
 ¿Que opción representa mejor  $\angle KLM$ ?
- A.  $102^\circ$
  - B.  $1^\circ$
  - C.  $45^\circ$
  - D.  $139^\circ$

- 7)   
 ¿Que opción representa mejor  $\angle ABC$ ?
- A.  $29^\circ$
  - B.  $170^\circ$
  - C.  $59^\circ$
  - D.  $114^\circ$

- 8)   
 ¿Que opción representa mejor  $\angle KLM$ ?
- A.  $32^\circ$
  - B.  $85^\circ$
  - C.  $148^\circ$
  - D.  $112^\circ$

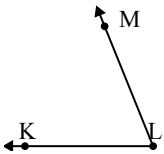
- 9)   
 ¿Que opción representa mejor  $\angle ABC$ ?
- A.  $54^\circ$
  - B.  $19^\circ$
  - C.  $119^\circ$
  - D.  $90^\circ$

**Respuestas**

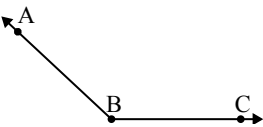
1. \_\_\_\_\_
2. \_\_\_\_\_
3. \_\_\_\_\_
4. \_\_\_\_\_
5. \_\_\_\_\_
6. \_\_\_\_\_
7. \_\_\_\_\_
8. \_\_\_\_\_
9. \_\_\_\_\_



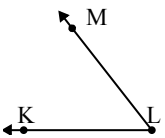
Resuelve cada problema.

1)   
 ¿Que opción representa mejor  $\angle KLM$ ?

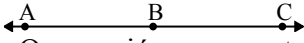
A.  $134^\circ$   
 B.  $168^\circ$   
 C.  $68^\circ$   
 D.  $22^\circ$

2)   
 ¿Que opción representa mejor  $\angle ABC$ ?

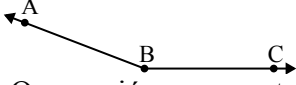
A.  $81^\circ$   
 B.  $11^\circ$   
 C.  $137^\circ$   
 D.  $47^\circ$

3)   
 ¿Que opción representa mejor  $\angle KLM$ ?

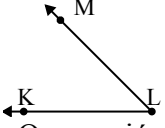
A.  $52^\circ$   
 B.  $161^\circ$   
 C.  $94^\circ$   
 D.  $124^\circ$

4)   
 ¿Que opción representa mejor  $\angle ABC$ ?

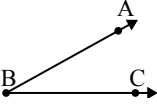
A.  $180^\circ$   
 B.  $125^\circ$   
 C.  $10^\circ$   
 D.  $64^\circ$

5)   
 ¿Que opción representa mejor  $\angle ABC$ ?

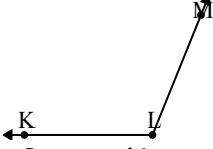
A.  $56^\circ$   
 B.  $89^\circ$   
 C.  $159^\circ$   
 D.  $10^\circ$

6)   
 ¿Que opción representa mejor  $\angle KLM$ ?

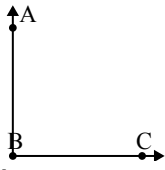
A.  $102^\circ$   
 B.  $1^\circ$   
 C.  $45^\circ$   
 D.  $139^\circ$

7)   
 ¿Que opción representa mejor  $\angle ABC$ ?

A.  $29^\circ$   
 B.  $170^\circ$   
 C.  $59^\circ$   
 D.  $114^\circ$

8)   
 ¿Que opción representa mejor  $\angle KLM$ ?

A.  $32^\circ$   
 B.  $85^\circ$   
 C.  $148^\circ$   
 D.  $112^\circ$

9)   
 ¿Que opción representa mejor  $\angle ABC$ ?

A.  $54^\circ$   
 B.  $19^\circ$   
 C.  $119^\circ$   
 D.  $90^\circ$

**Respuestas**

1.     **C**
2.     **C**
3.     **A**
4.     **A**
5.     **C**
6.     **C**
7.     **A**
8.     **D**
9.     **D**