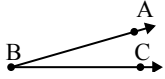




Resuelve cada problema.

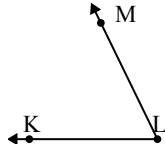
1)



¿Que opción representa mejor $\angle ABC$?

- A. 122°
- B. 55°
- C. 16°
- D. 177°

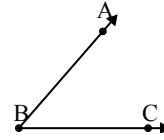
2)



¿Que opción representa mejor $\angle KLM$?

- A. 64°
- B. 98°
- C. 177°
- D. 145°

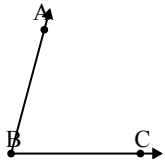
3)



¿Que opción representa mejor $\angle ABC$?

- A. 144°
- B. 171°
- C. 49°
- D. 98°

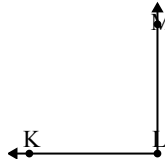
4)



¿Que opción representa mejor $\angle ABC$?

- A. 170°
- B. 140°
- C. 15°
- D. 75°

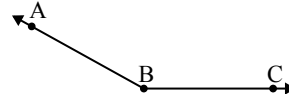
5)



¿Que opción representa mejor $\angle KLM$?

- A. 140°
- B. 43°
- C. 21°
- D. 90°

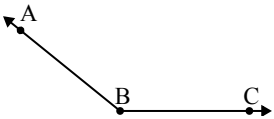
6)



¿Que opción representa mejor $\angle ABC$?

- A. 76°
- B. 10°
- C. 151°
- D. 179°

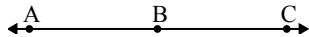
7)



¿Que opción representa mejor $\angle ABC$?

- A. 99°
- B. 141°
- C. 63°
- D. 165°

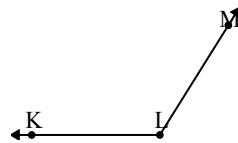
8)



¿Que opción representa mejor $\angle ABC$?

- A. 10°
- B. 47°
- C. 180°
- D. 94°

9)



¿Que opción representa mejor $\angle KLM$?

- A. 149°
- B. 122°
- C. 178°
- D. 100°

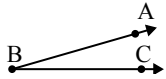
Respuestas

1. _____
2. _____
3. _____
4. _____
5. _____
6. _____
7. _____
8. _____
9. _____



Resuelve cada problema.

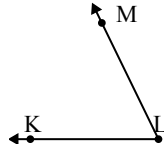
1)



¿Que opción representa mejor $\angle ABC$?

- A. 122°
- B. 55°
- C. 16°
- D. 177°

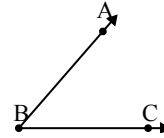
2)



¿Que opción representa mejor $\angle KLM$?

- A. 64°
- B. 98°
- C. 177°
- D. 145°

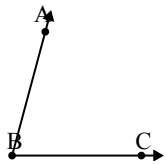
3)



¿Que opción representa mejor $\angle ABC$?

- A. 144°
- B. 171°
- C. 49°
- D. 98°

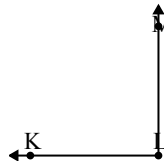
4)



¿Que opción representa mejor $\angle ABC$?

- A. 170°
- B. 140°
- C. 15°
- D. 75°

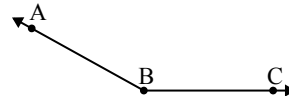
5)



¿Que opción representa mejor $\angle KLM$?

- A. 140°
- B. 43°
- C. 21°
- D. 90°

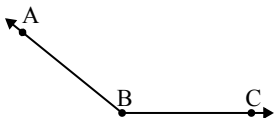
6)



¿Que opción representa mejor $\angle ABC$?

- A. 76°
- B. 10°
- C. 151°
- D. 179°

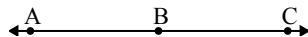
7)



¿Que opción representa mejor $\angle ABC$?

- A. 99°
- B. 141°
- C. 63°
- D. 165°

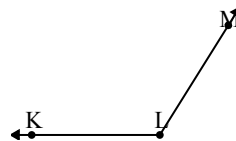
8)



¿Que opción representa mejor $\angle ABC$?

- A. 10°
- B. 47°
- C. 180°
- D. 94°

9)



¿Que opción representa mejor $\angle KLM$?

- A. 149°
- B. 122°
- C. 178°
- D. 100°

Respuestas

1. **C**
2. **A**
3. **C**
4. **D**
5. **D**
6. **C**
7. **B**
8. **C**
9. **B**