



Determina si el ángulo mostrado es "mayor", "menor" o "igual" a 90°.

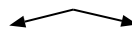
Ej)



1)



2)



3)



4)



5)



6)



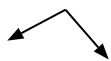
7)



8)



9)



10)



11)



12)



13)



14)



15)



16)



17)



18)



19)



20)



Respuestas

Ej. menor

1. _____

2. _____

3. _____

4. _____

5. _____

6. _____

7. _____

8. _____

9. _____

10. _____

11. _____

12. _____

13. _____

14. _____

15. _____

16. _____

17. _____

18. _____

19. _____

20. _____



Determina si el ángulo mostrado es "mayor", "menor" o "igual" a 90° .

Ej)



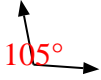
1)



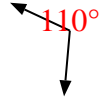
2)



3)



4)



5)



6)



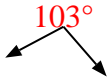
7)



8)



9)



10)



11)



12)



13)



14)



15)



16)



17)



18)



19)



20)



Respuestas

Ej. menor

1. igual

2. mayor

3. mayor

4. mayor

5. menor

6. igual

7. menor

8. igual

9. mayor

10. igual

11. mayor

12. menor

13. igual

14. mayor

15. menor

16. igual

17. igual

18. igual

19. menor

20. menor