

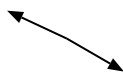


Determina si el ángulo mostrado es "mayor", "menor" o "igual" a 90°.

Ej)



1)



2)



3)



4)



5)



6)



7)



8)



9)



10)



11)



12)



13)



14)



15)



16)



17)



18)



19)



20)



Respuestas

Ej. menor

1. _____

2. _____

3. _____

4. _____

5. _____

6. _____

7. _____

8. _____

9. _____

10. _____

11. _____

12. _____

13. _____

14. _____

15. _____

16. _____

17. _____

18. _____

19. _____

20. _____

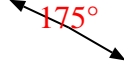


Determina si el ángulo mostrado es "mayor", "menor" o "igual" a 90° .

Ej)



1)



2)



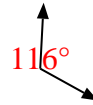
3)



4)



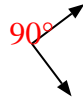
5)



6)



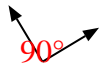
7)



8)



9)



10)



11)



12)



13)



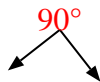
14)



15)



16)



17)



18)



19)



20)



Respuestas

Ej. menor

1. mayor

2. mayor

3. menor

4. menor

5. mayor

6. igual

7. igual

8. menor

9. igual

10. mayor

11. mayor

12. menor

13. mayor

14. menor

15. igual

16. igual

17. igual

18. igual

19. menor

20. igual