



Determina si el ángulo mostrado es "mayor", "menor" o "igual" a 90°.

Ej)



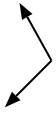
1)



2)



3)



4)



5)



6)



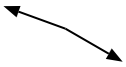
7)



8)



9)



10)



11)



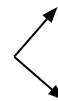
12)



13)



14)



15)



16)



17)



18)



19)



20)



Respuestas

Ej. menor

1. _____

2. _____

3. _____

4. _____

5. _____

6. _____

7. _____

8. _____

9. _____

10. _____

11. _____

12. _____

13. _____

14. _____

15. _____

16. _____

17. _____

18. _____

19. _____

20. _____

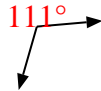


Determina si el ángulo mostrado es "mayor", "menor" o "igual" a 90° .

Ej)



1)



2)



Respuestas

Ej. menor

1. mayor

2. igual

3. mayor

4. menor

5. igual

6. igual

7. mayor

8. menor

9. mayor

10. mayor

11. menor

12. mayor

13. igual

14. igual

15. menor

16. menor


17. mayor

18. menor

19. menor

20. igual

3)



4)



5)



6)



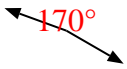
7)



8)



9)



10)



11)



12)



13)



14)



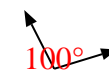
15)



16)



17)



18)



19)



20)

