



Determina si el ángulo mostrado es "mayor", "menor" o "igual" a 90°.

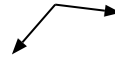
Ej)



1)



2)



Respuestas

Ej. menor

1. _____

2. _____

3. _____

4. _____

5. _____

6. _____

7. _____

8. _____

9. _____

10. _____

11. _____

12. _____

13. _____

14. _____

15. _____

16. _____

17. _____

18. _____

19. _____

20. _____

3)



4)



5)



6)



7)



8)



9)



10)



11)



12)



13)



14)



15)



16)



17)



18)



19)



20)





Determina si el ángulo mostrado es "mayor", "menor" o "igual" a 90° .

Ej)



1)



2)



Respuestas

Ej. menor

3)



4)



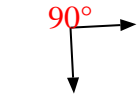
5)



1. menor

2. mayor

6)



7)



8)



3. igual

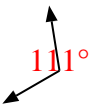
4. igual

5. mayor

6. igual

7. mayor

9)



10)



11)



8. menor

9. mayor

10. menor

11. menor

12)



13)



14)



12. igual

13. mayor

14. mayor

15)



16)



17)



15. igual

16. menor

17. igual

18)



19)



20)



18. menor

19. igual

20. igual