



Determina si el ángulo mostrado es 'mayor', 'menor' o 'igual' a 90°.

Ej)



1)



2)



**Respuestas**

Ej. menor

1. \_\_\_\_\_

2. \_\_\_\_\_

3. \_\_\_\_\_

4. \_\_\_\_\_

5. \_\_\_\_\_

6. \_\_\_\_\_

7. \_\_\_\_\_

8. \_\_\_\_\_

9. \_\_\_\_\_

10. \_\_\_\_\_

11. \_\_\_\_\_

12. \_\_\_\_\_

13. \_\_\_\_\_

14. \_\_\_\_\_

15. \_\_\_\_\_

16. \_\_\_\_\_

17. \_\_\_\_\_

18. \_\_\_\_\_

19. \_\_\_\_\_

20. \_\_\_\_\_

3)



4)



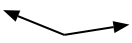
5)



6)




7)



8)



9)



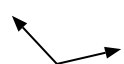
10)



11)



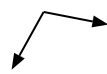
12)



13)



14)



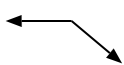
15)



16)



17)



18)



19)



20)





Determina si el ángulo mostrado es 'mayor', 'menor' o 'igual' a  $90^\circ$ .

Ej)



1)



2)



**Respuestas**

Ej. menor

3)



4)



5)



1. mayor

2. igual

3. menor

4. igual

5. igual

6)



7)



8)



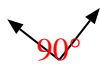
6. igual

7. mayor

9)



10)



11)



8. menor

9. mayor

10. igual

12)



13)



14)



11. igual

12. mayor

13. menor

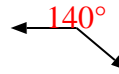
15)



16)



17)



14. mayor

15. igual

16. menor

18)



19)



20)



17. mayor

18. menor

19. menor

20. menor