



Determina si el ángulo mostrado es 'mayor', 'menor' o 'igual' a 90°.

Ej)



1)



2)



Respuestas

Ej. menor

1. _____

2. _____

3. _____

4. _____

5. _____

6. _____

7. _____

8. _____

9. _____

10. _____

11. _____

12. _____

13. _____

14. _____

15. _____

16. _____

17. _____

18. _____

19. _____

20. _____

3)



4)



5)



6)



7)



8)



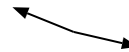
9)



10)



11)



12)



13)



14)



15)



16)



17)



18)



19)



20)





Determina si el ángulo mostrado es 'mayor', 'menor' o 'igual' a 90° .

Ej)



1)



2)



Respuestas

Ej. menor

3)



4)



5)



1. menor

2. igual

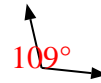
6)



7)



8)



3. menor

4. menor

5. igual


6. igual

7. menor


9)



10)



11)



8. mayor

9. igual

10. mayor

12)



13)



14)



11. mayor

12. mayor

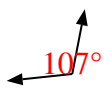
13. igual

14. menor

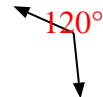
15)



16)



17)



15. mayor

16. mayor

17. mayor

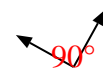
18)



19)



20)



18. menor

19. igual

20. igual