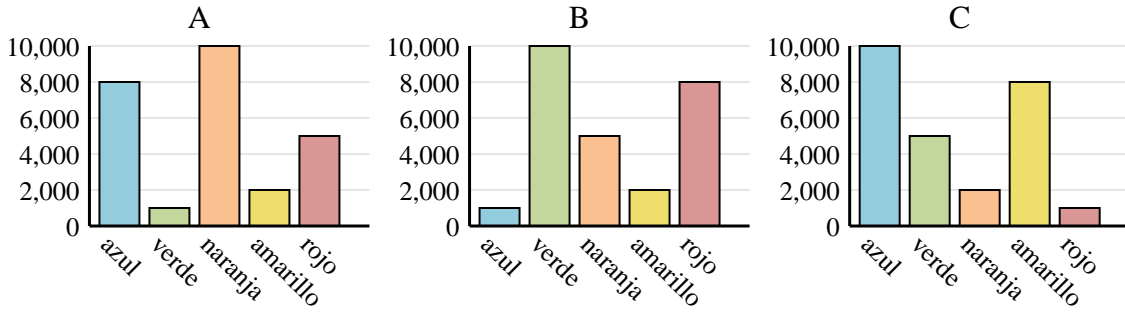




Determina cuál gráfica (A,B o C) representa mejor la información en la tabla.

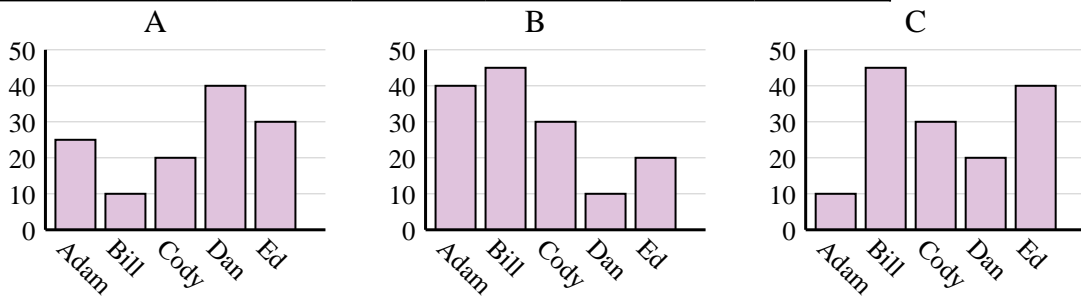
Respuestas

1) Color favorito	azul	verde	naranja	amarillo	rojo
Personas	1,000	10,000	5,000	2,000	8,000

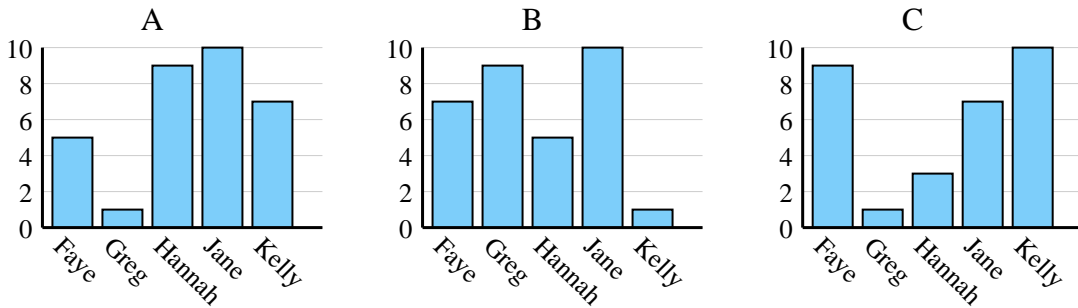


1. _____
2. _____
3. _____
4. _____

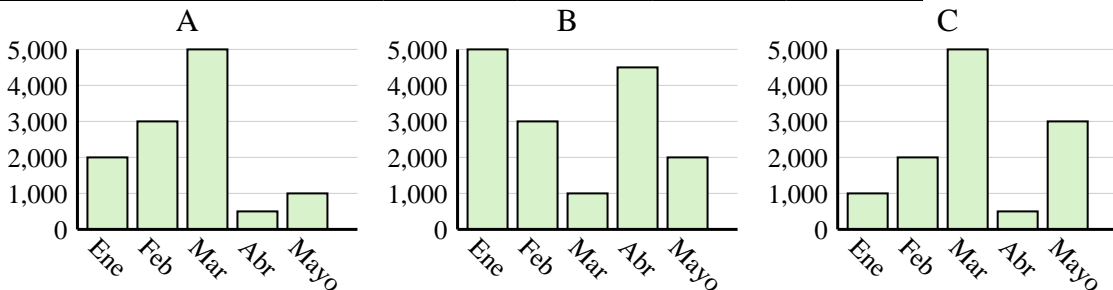
2) Nombre	Adam	Bill	Cody	Dan	Ed
Puntos	10	45	30	20	40



3) Nombre	Faye	Greg	Hannah	Jane	Kelly
Estados en que ha vivido	5	1	9	10	7



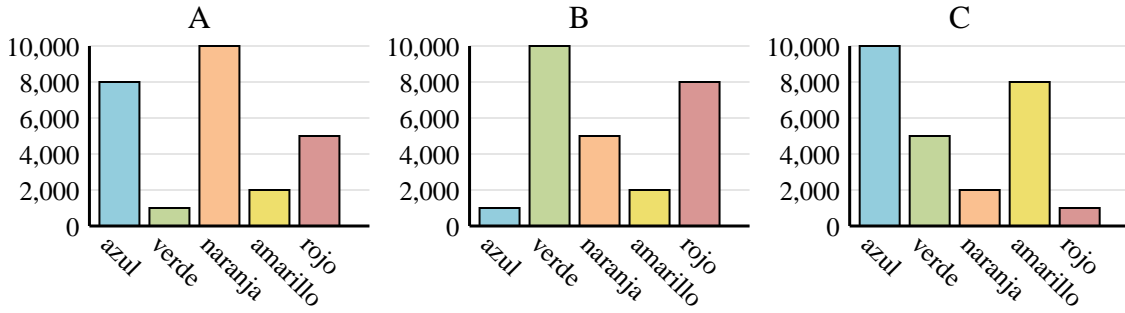
4) Ventas	Ene	Feb	Mar	Abr	Mayo
Mes	2,000	3,000	5,000	500	1,000





Determina cuál gráfica (A,B o C) representa mejor la información en la tabla.

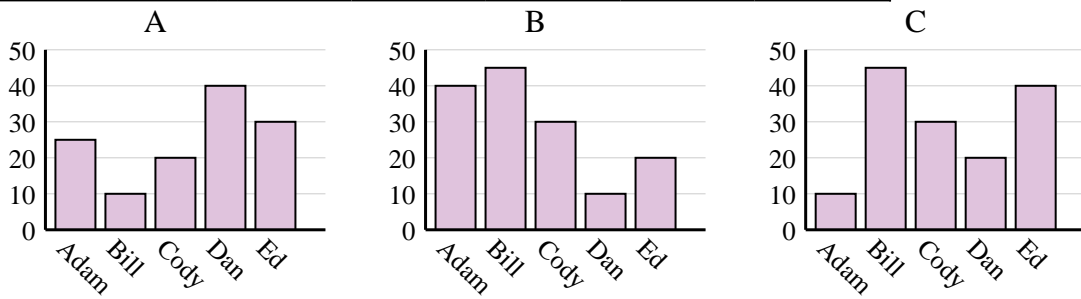
1) Color favorito	azul	verde	naranja	amarillo	rojo
Personas	1,000	10,000	5,000	2,000	8,000



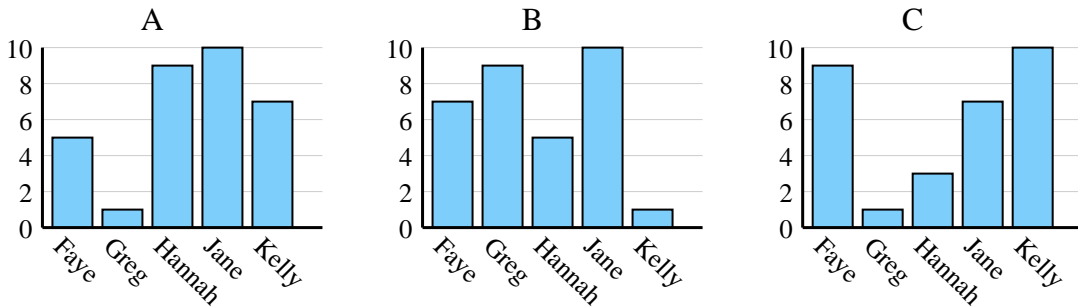
Respuestas

1. **B**
2. **C**
3. **A**
4. **A**

2) Nombre	Adam	Bill	Cody	Dan	Ed
Puntos	10	45	30	20	40



3) Nombre	Faye	Greg	Hannah	Jane	Kelly
Estados en que ha vivido	5	1	9	10	7



4) Ventas	Ene	Feb	Mar	Abr	Mayo
Mes	2,000	3,000	5,000	500	1,000

