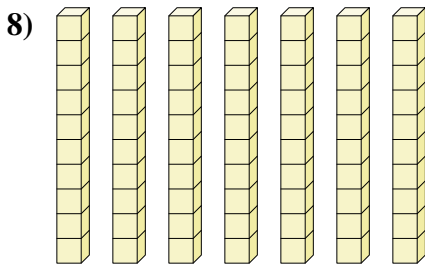
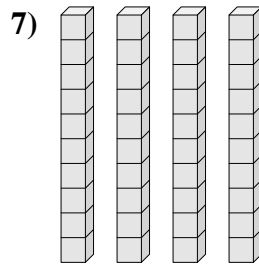
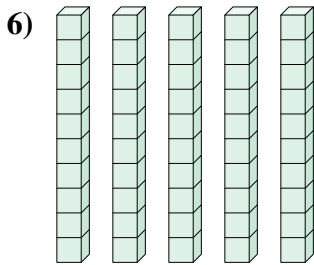
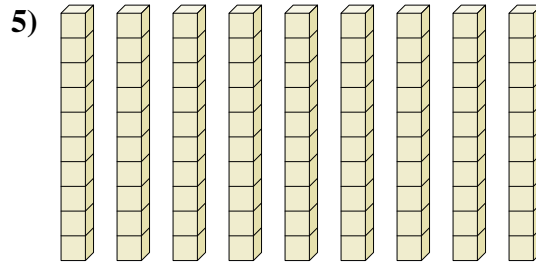
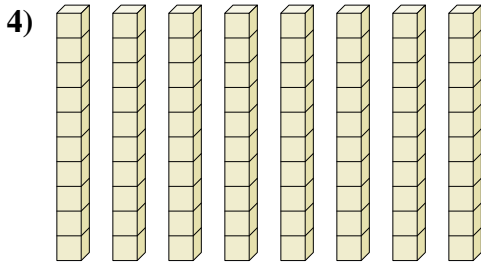

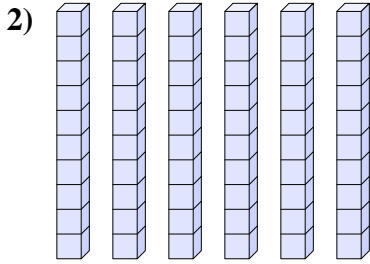
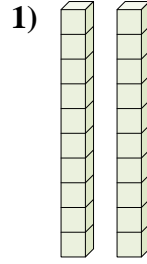
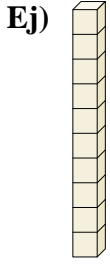




Determina la cantidad de grupos de diez. Luego encuentra el número total de bloques más pequeños.



Respuestas

Ej. 1 10

1. _____

2. _____

3. _____

4. _____

5. _____

6. _____

7. _____

8. _____

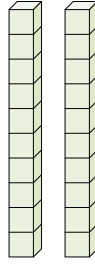


Determina la cantidad de grupos de diez. Luego encuentra el número total de bloques más pequeños.

Ej)



1)



Respuestas

Ej. 1 10

1. 2 20

2. 6 60

3. 3 30

4. 8 80

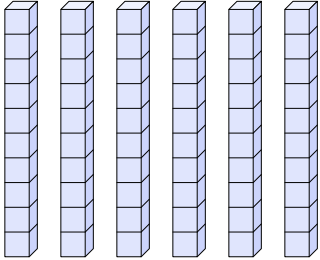
5. 9 90

6. 5 50

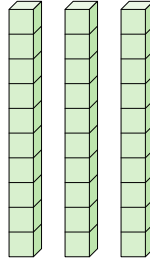
7. 4 40

8. 7 70

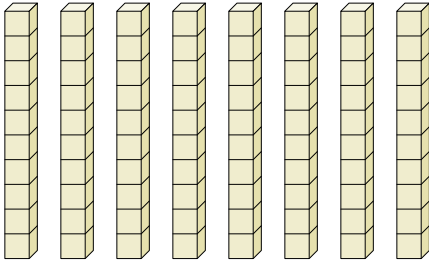
2)



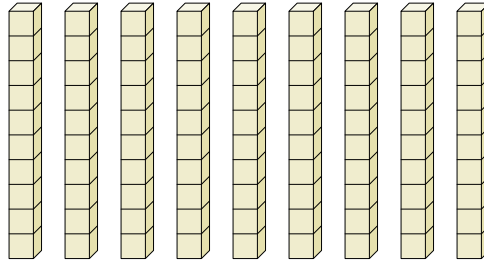
3)




4)



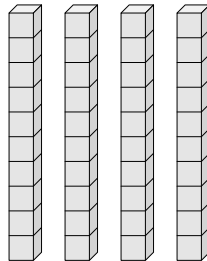
5)



6)



7)



8)

