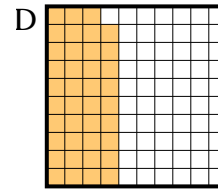
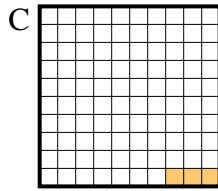
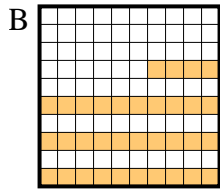
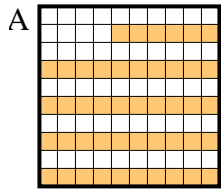




Determina cuál letra mejor resuelve la pregunta.

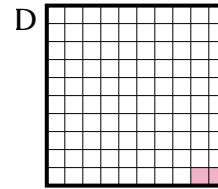
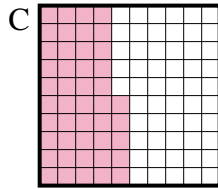
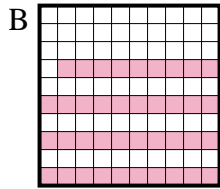
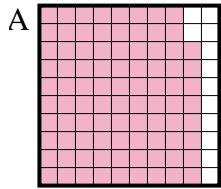
Respuestas

1) ¿Qué cuadrícula de 10×10 está sombreado para representar el número decimal que, cuando se añade a 0.97 da como resultado un total de 1.00?



1. _____

2) ¿Qué cuadrícula de 10×10 está sombreado para representar el número decimal que, cuando se añade a 0.98 da como resultado un total de 1.00?



2. _____

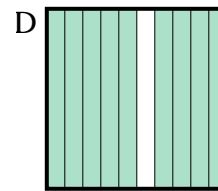
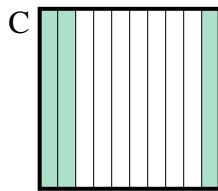
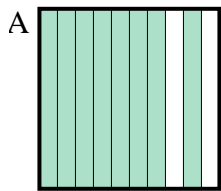
3. _____

4. _____

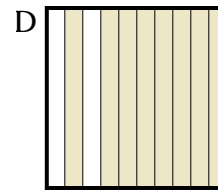
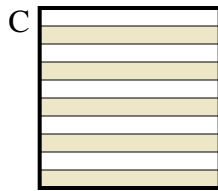
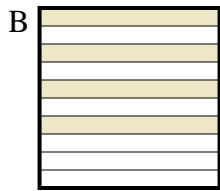
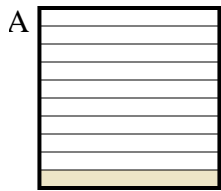
5. _____

6. _____

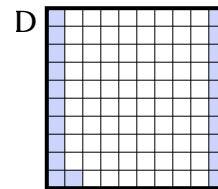
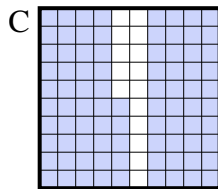
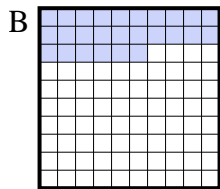
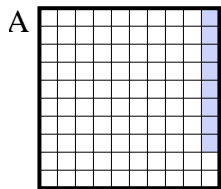
3) ¿Qué cuadrícula de 10×1 está sombreado para representar el número decimal que, cuando se añade a 0.6 da como resultado un total de 1.00?



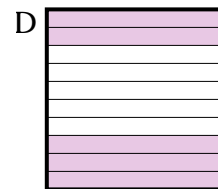
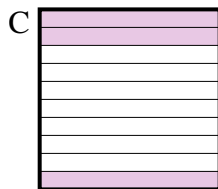
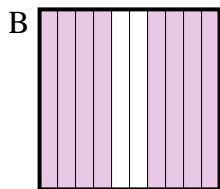
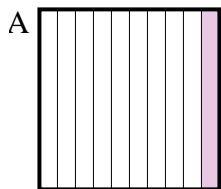
4) ¿Qué cuadrícula de 10×1 está sombreado para representar el número decimal que, cuando se añade a 0.5 da como resultado un total de 1.00?



5) ¿Qué cuadrícula de 10×10 está sombreado para representar el número decimal que, cuando se añade a 0.92 da como resultado un total de 1.00?



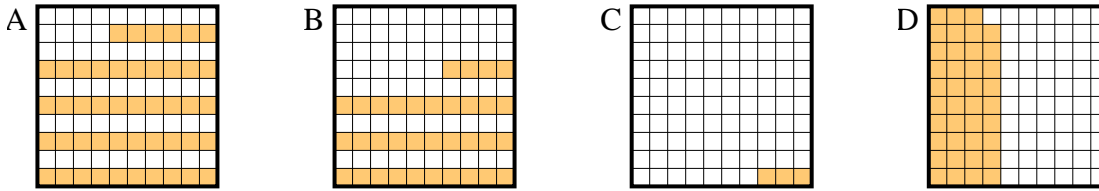
6) ¿Qué cuadrícula de 10×1 está sombreado para representar el número decimal que, cuando se añade a 0.2 da como resultado un total de 1.00?



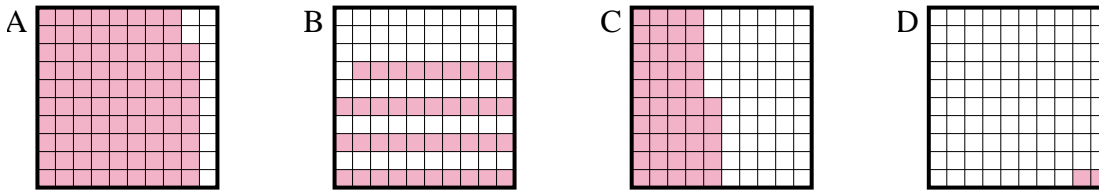


Determina cuál letra mejor resuelve la pregunta.

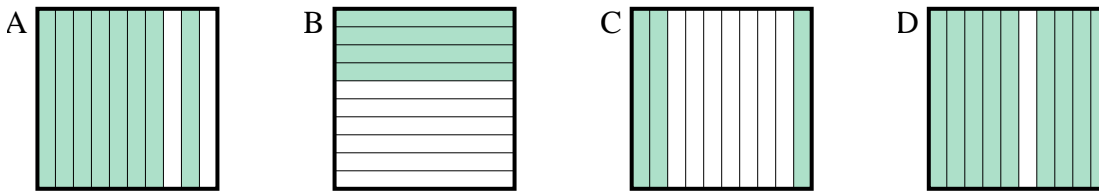
1) ¿Qué cuadrícula de 10×10 está sombreado para representar el número decimal que, cuando se añade a 0.97 da como resultado un total de 1.00?



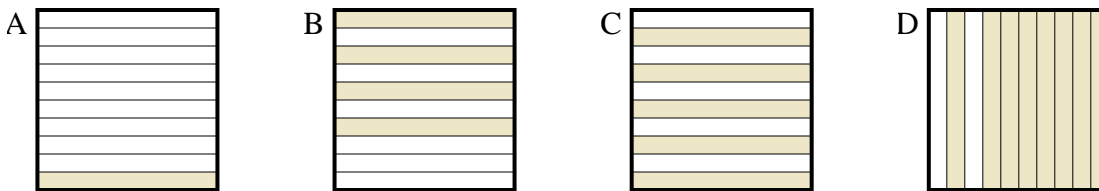
2) ¿Qué cuadrícula de 10×10 está sombreado para representar el número decimal que, cuando se añade a 0.98 da como resultado un total de 1.00?



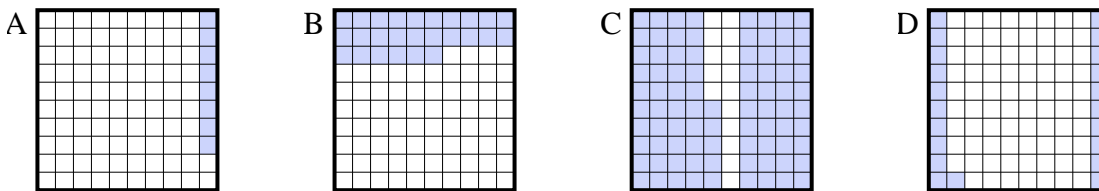
3) ¿Qué cuadrícula de 10×1 está sombreado para representar el número decimal que, cuando se añade a 0.6 da como resultado un total de 1.00?



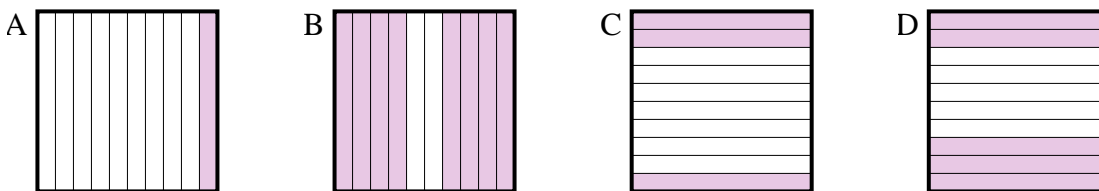
4) ¿Qué cuadrícula de 10×1 está sombreado para representar el número decimal que, cuando se añade a 0.5 da como resultado un total de 1.00?



5) ¿Qué cuadrícula de 10×10 está sombreado para representar el número decimal que, cuando se añade a 0.92 da como resultado un total de 1.00?



6) ¿Qué cuadrícula de 10×1 está sombreado para representar el número decimal que, cuando se añade a 0.2 da como resultado un total de 1.00?



Respuestas

1. **C**

2. **D**

3. **B**

4. **C**

5. **A**

6. **B**