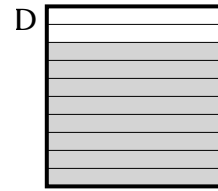
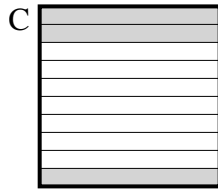
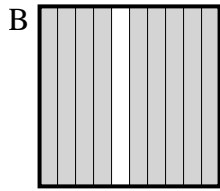
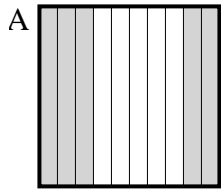


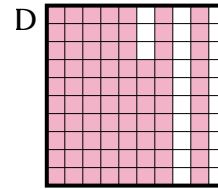
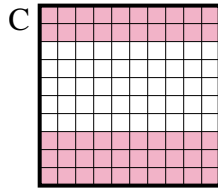
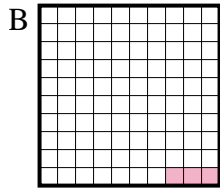
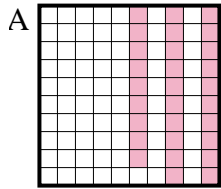


Determina cuál letra mejor resuelve la pregunta.

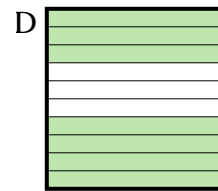
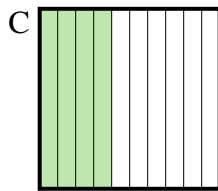
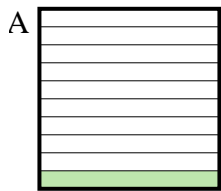
1) ¿Qué cuadrícula de 10×1 está sombreado para representar el número decimal que, cuando se añade a 0.7 da como resultado un total de 1.00?



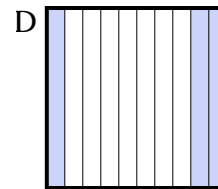
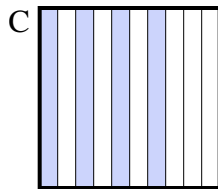
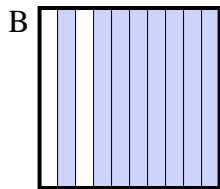
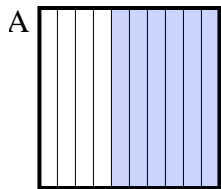
2) ¿Qué cuadrícula de 10×10 está sombreado para representar el número decimal que, cuando se añade a 0.97 da como resultado un total de 1.00?



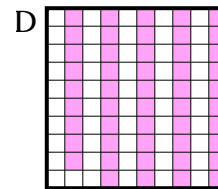
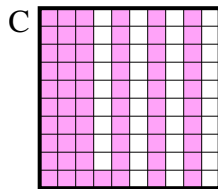
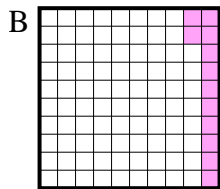
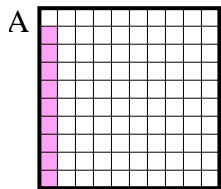
3) ¿Qué cuadrícula de 10×1 está sombreado para representar el número decimal que, cuando se añade a 0.3 da como resultado un total de 1.00?



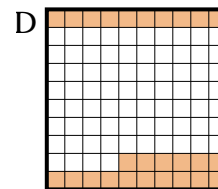
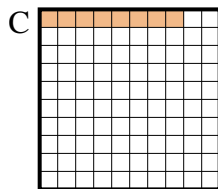
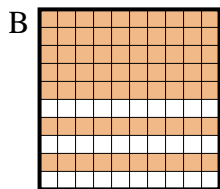
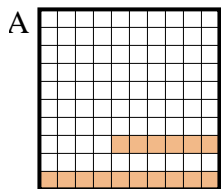
4) ¿Qué cuadrícula de 10×1 está sombreado para representar el número decimal que, cuando se añade a 0.6 da como resultado un total de 1.00?



5) ¿Qué cuadrícula de 10×10 está sombreado para representar el número decimal que, cuando se añade a 0.91 da como resultado un total de 1.00?



6) ¿Qué cuadrícula de 10×10 está sombreado para representar el número decimal que, cuando se añade a 0.92 da como resultado un total de 1.00?



Respuestas

1. _____

2. _____

3. _____

4. _____

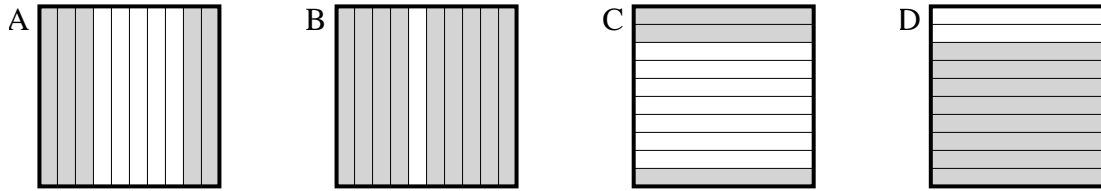
5. _____

6. _____

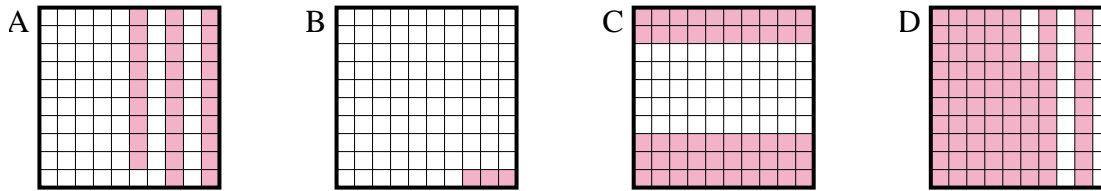


Determina cuál letra mejor resuelve la pregunta.

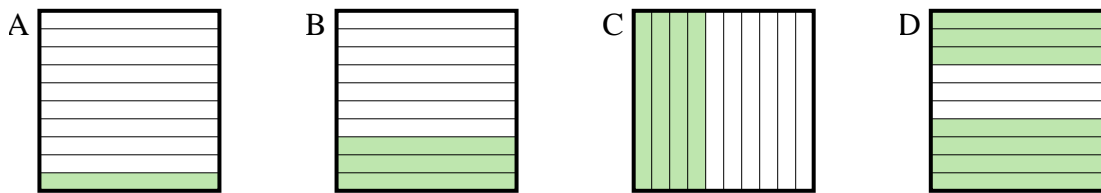
1) ¿Qué cuadrícula de 10×1 está sombreado para representar el número decimal que, cuando se añade a 0.7 da como resultado un total de 1.00?



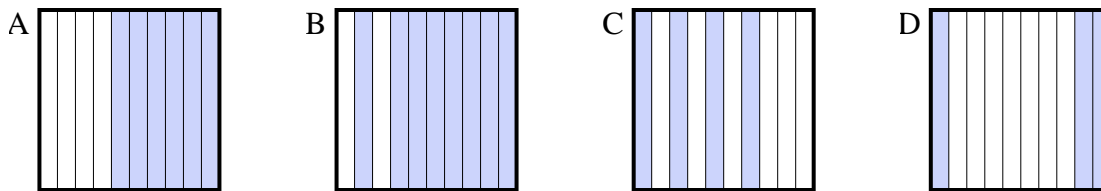
2) ¿Qué cuadrícula de 10×10 está sombreado para representar el número decimal que, cuando se añade a 0.97 da como resultado un total de 1.00?



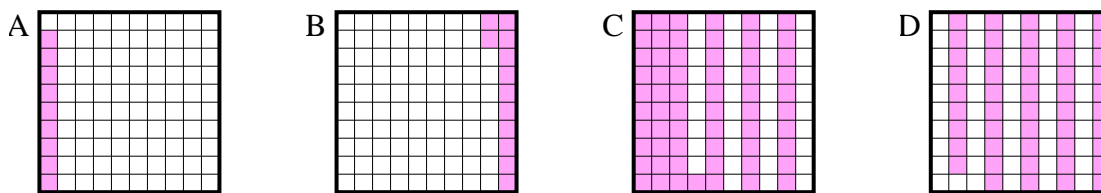
3) ¿Qué cuadrícula de 10×1 está sombreado para representar el número decimal que, cuando se añade a 0.3 da como resultado un total de 1.00?



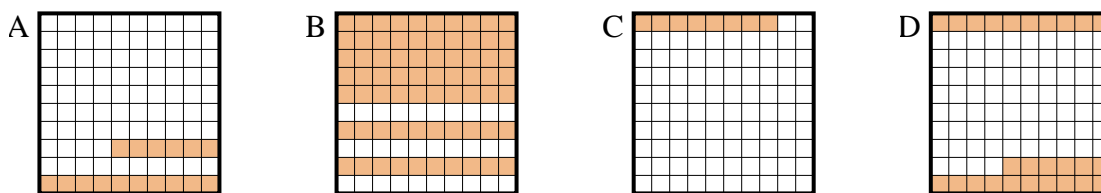
4) ¿Qué cuadrícula de 10×1 está sombreado para representar el número decimal que, cuando se añade a 0.6 da como resultado un total de 1.00?



5) ¿Qué cuadrícula de 10×10 está sombreado para representar el número decimal que, cuando se añade a 0.91 da como resultado un total de 1.00?



6) ¿Qué cuadrícula de 10×10 está sombreado para representar el número decimal que, cuando se añade a 0.92 da como resultado un total de 1.00?



Respuestas

1. **C**
2. **B**
3. **D**
4. **C**
5. **A**
6. **C**