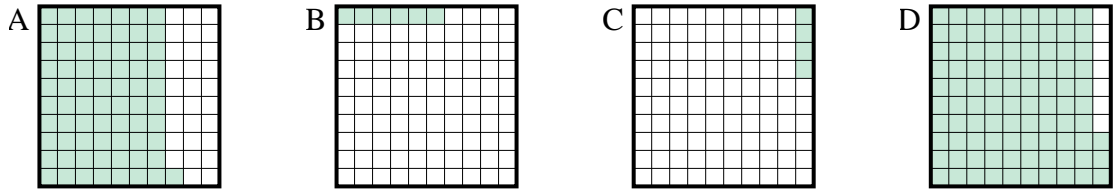




**Determina cuál letra mejor resuelve la pregunta.**

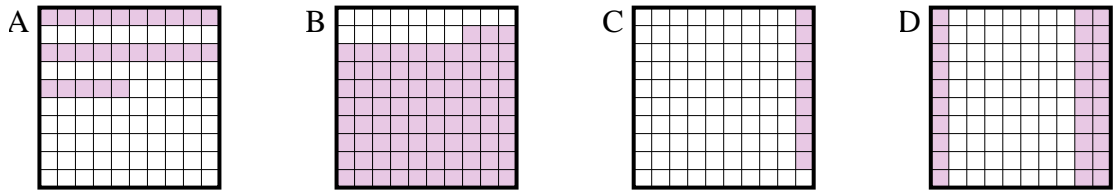
**Respuestas**

1) ¿Qué cuadrícula de 10×10 está sombreado para representar el número decimal que, cuando se añade a 0.96 da como resultado un total de 1.00?



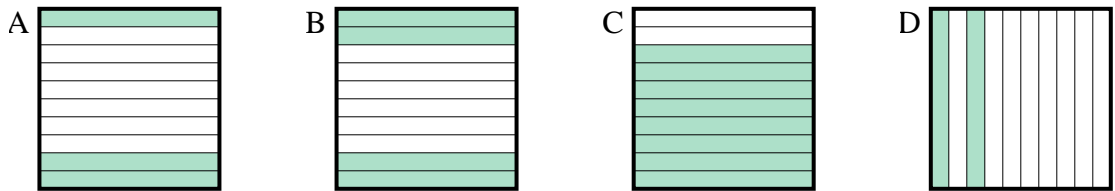
1. \_\_\_\_\_  
 2. \_\_\_\_\_  
 3. \_\_\_\_\_

2) ¿Qué cuadrícula de 10×10 está sombreado para representar el número decimal que, cuando se añade a 0.91 da como resultado un total de 1.00?

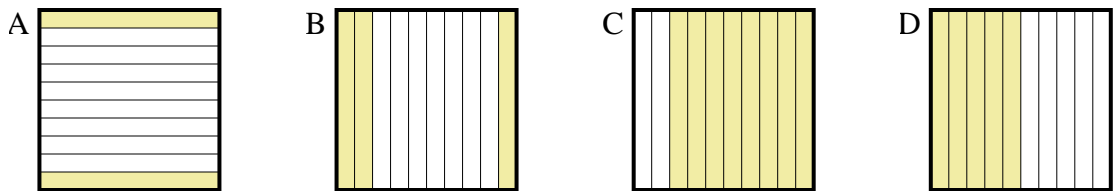


4. \_\_\_\_\_  
 5. \_\_\_\_\_  
 6. \_\_\_\_\_

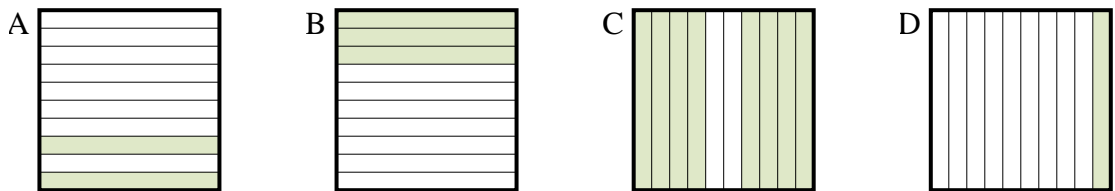
3) ¿Qué cuadrícula de 10×1 está sombreado para representar el número decimal que, cuando se añade a 0.6 da como resultado un total de 1.00?



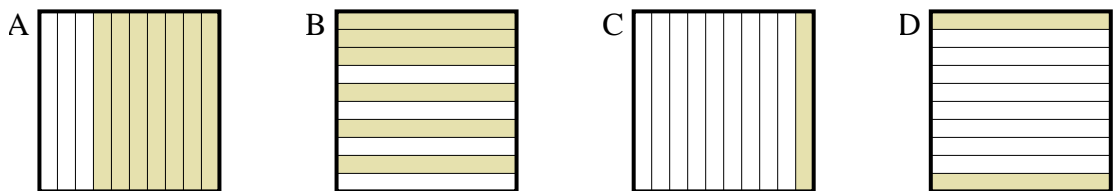
4) ¿Qué cuadrícula de 10×1 está sombreado para representar el número decimal que, cuando se añade a 0.5 da como resultado un total de 1.00?



5) ¿Qué cuadrícula de 10×1 está sombreado para representar el número decimal que, cuando se añade a 0.8 da como resultado un total de 1.00?



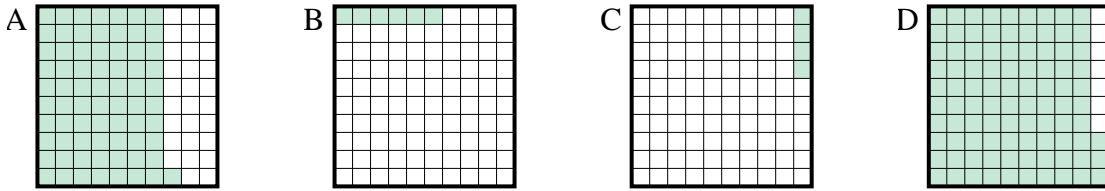
6) ¿Qué cuadrícula de 10×1 está sombreado para representar el número decimal que, cuando se añade a 0.4 da como resultado un total de 1.00?



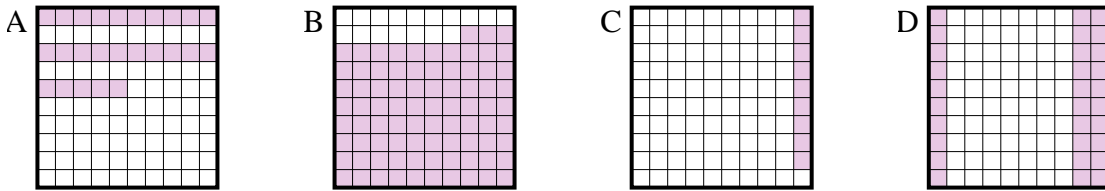


**Determina cuál letra mejor resuelve la pregunta.**

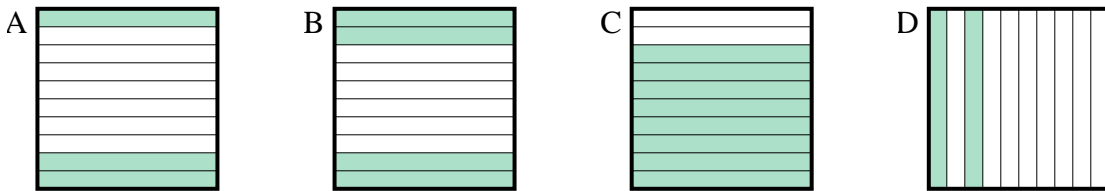
1) ¿Qué cuadrícula de 10×10 está sombreado para representar el número decimal que, cuando se añade a 0.96 da como resultado un total de 1.00?



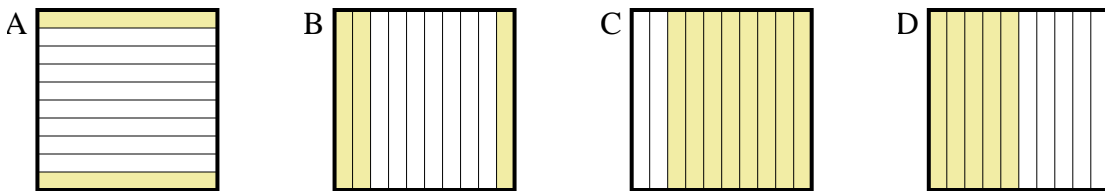
2) ¿Qué cuadrícula de 10×10 está sombreado para representar el número decimal que, cuando se añade a 0.91 da como resultado un total de 1.00?



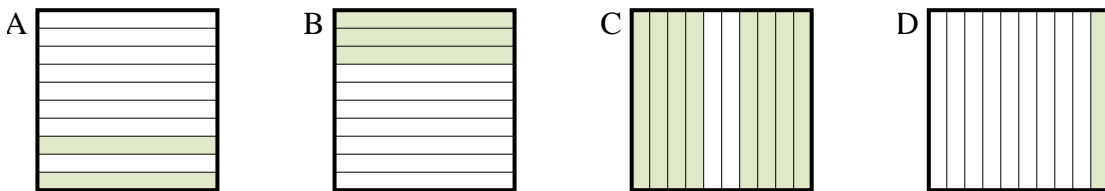
3) ¿Qué cuadrícula de 10×1 está sombreado para representar el número decimal que, cuando se añade a 0.6 da como resultado un total de 1.00?



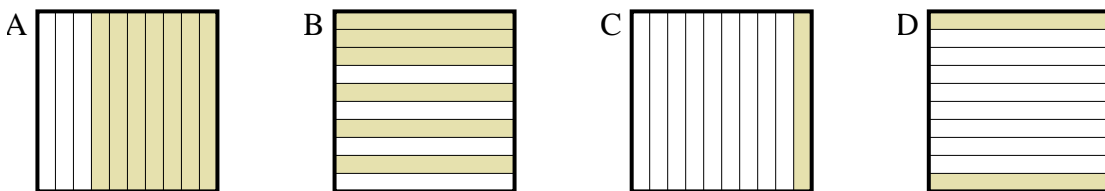
4) ¿Qué cuadrícula de 10×1 está sombreado para representar el número decimal que, cuando se añade a 0.5 da como resultado un total de 1.00?



5) ¿Qué cuadrícula de 10×1 está sombreado para representar el número decimal que, cuando se añade a 0.8 da como resultado un total de 1.00?



6) ¿Qué cuadrícula de 10×1 está sombreado para representar el número decimal que, cuando se añade a 0.4 da como resultado un total de 1.00?



**Respuestas**

1. **C**

2. **C**

3. **B**

4. **D**

5. **A**

6. **B**