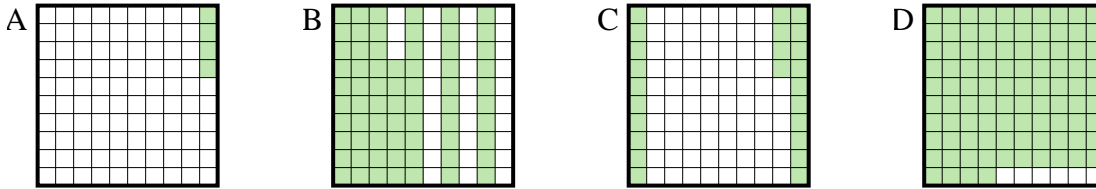




**Determina cuál letra mejor resuelve la pregunta.**

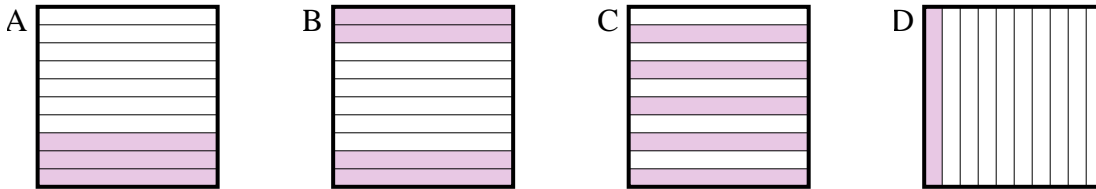
**Respuestas**

1) ¿Qué cuadrícula de  $10 \times 10$  está sombreado para representar el número decimal que, cuando se añade a 0.96 da como resultado un total de 1.00?



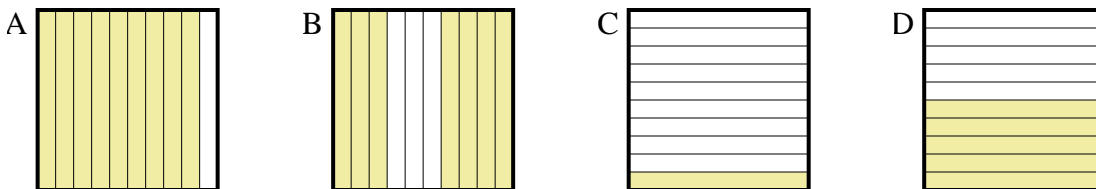
1. \_\_\_\_\_

2) ¿Qué cuadrícula de  $10 \times 1$  está sombreado para representar el número decimal que, cuando se añade a 0.6 da como resultado un total de 1.00?



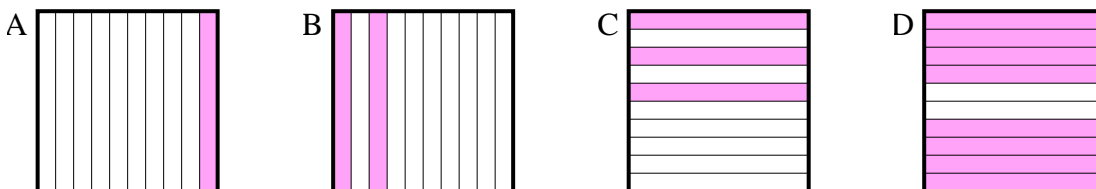
2. \_\_\_\_\_

3) ¿Qué cuadrícula de  $10 \times 1$  está sombreado para representar el número decimal que, cuando se añade a 0.3 da como resultado un total de 1.00?



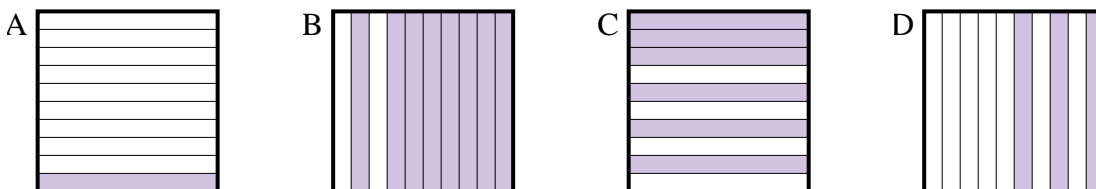
3. \_\_\_\_\_

4) ¿Qué cuadrícula de  $10 \times 1$  está sombreado para representar el número decimal que, cuando se añade a 0.8 da como resultado un total de 1.00?



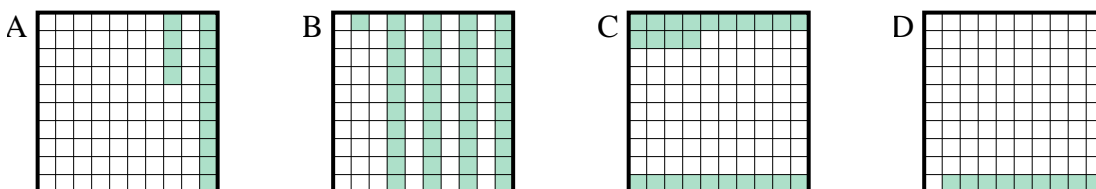
4. \_\_\_\_\_

5) ¿Qué cuadrícula de  $10 \times 1$  está sombreado para representar el número decimal que, cuando se añade a 0.7 da como resultado un total de 1.00?



5. \_\_\_\_\_

6) ¿Qué cuadrícula de  $10 \times 10$  está sombreado para representar el número decimal que, cuando se añade a 0.91 da como resultado un total de 1.00?

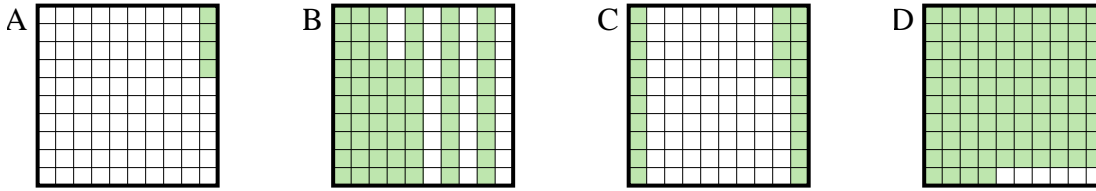


6. \_\_\_\_\_

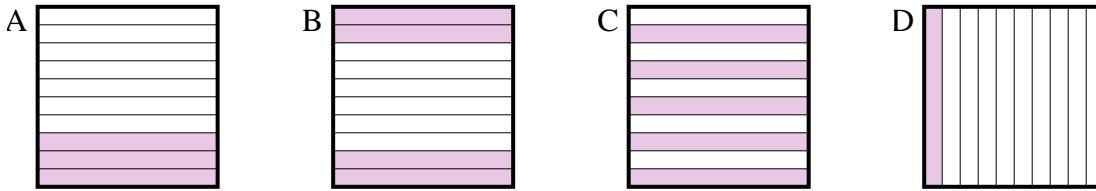


Determina cuál letra mejor resuelve la pregunta.

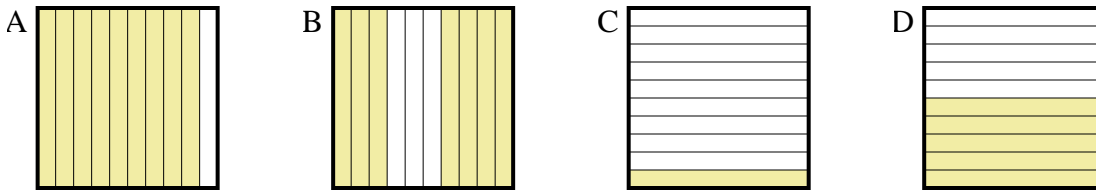
1) ¿Qué cuadrícula de  $10 \times 10$  está sombreado para representar el número decimal que, cuando se añade a 0.96 da como resultado un total de 1.00?



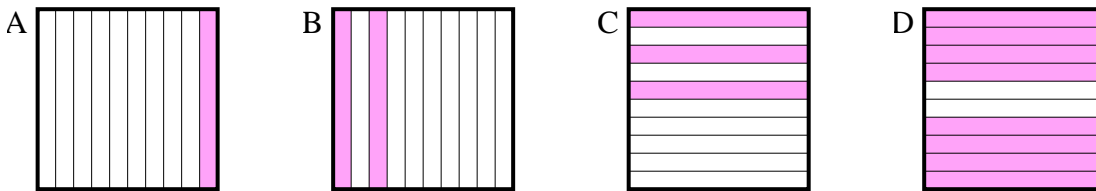
2) ¿Qué cuadrícula de  $10 \times 1$  está sombreado para representar el número decimal que, cuando se añade a 0.6 da como resultado un total de 1.00?



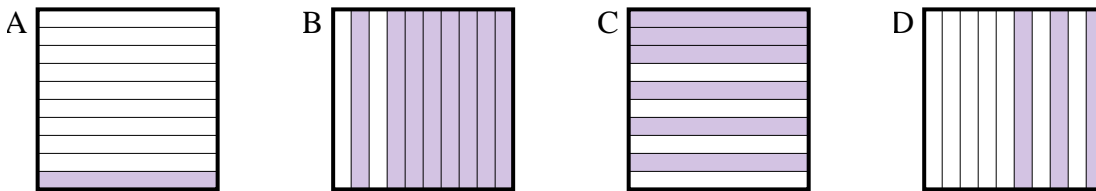
3) ¿Qué cuadrícula de  $10 \times 1$  está sombreado para representar el número decimal que, cuando se añade a 0.3 da como resultado un total de 1.00?



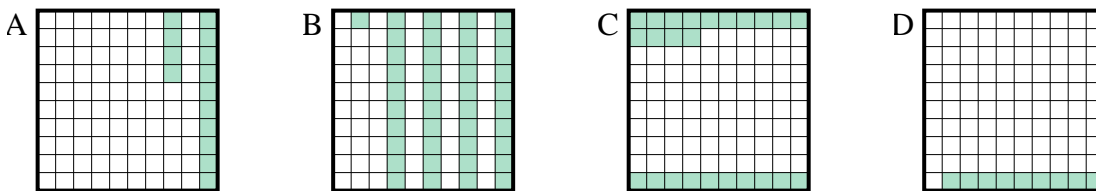
4) ¿Qué cuadrícula de  $10 \times 1$  está sombreado para representar el número decimal que, cuando se añade a 0.8 da como resultado un total de 1.00?



5) ¿Qué cuadrícula de  $10 \times 1$  está sombreado para representar el número decimal que, cuando se añade a 0.7 da como resultado un total de 1.00?



6) ¿Qué cuadrícula de  $10 \times 10$  está sombreado para representar el número decimal que, cuando se añade a 0.91 da como resultado un total de 1.00?



**Respuestas**

1.     **A**
2.     **B**
3.     **B**
4.     **B**
5.     **D**
6.     **D**