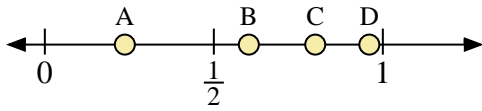
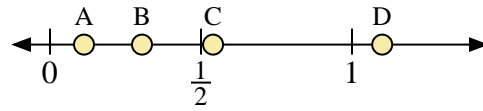




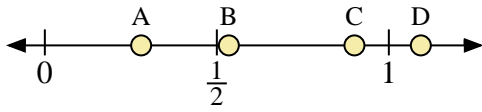
Usa las rectas numéricas para responder a las preguntas



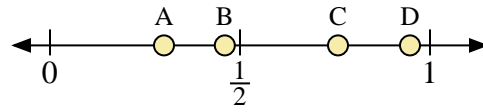
- 1) ¿Qué letra representa mejor la ubicación de 0.8?
- 2) ¿Qué letra representa mejor la ubicación de 0.96?



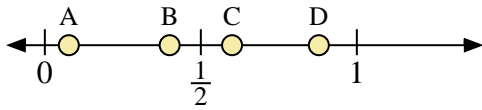
- 3) ¿Qué letra representa mejor la ubicación de 1.10?
- 4) ¿Qué letra representa mejor la ubicación de 0.54?



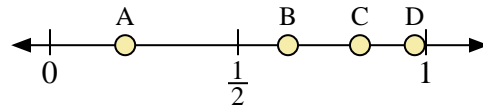
- 5) ¿Qué letra representa mejor la ubicación de 0.90?
- 6) ¿Qué letra representa mejor la ubicación de 0.28?



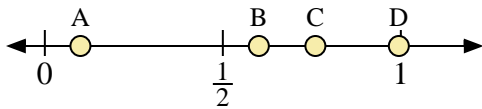
- 7) ¿Qué letra representa mejor la ubicación de 0.30?
- 8) ¿Qué letra representa mejor la ubicación de 0.46?



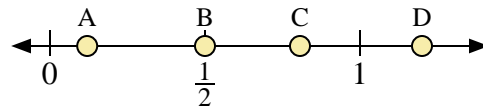
- 9) ¿Qué letra representa mejor la ubicación de 0.40?
- 10) ¿Qué letra representa mejor la ubicación de 0.60?



- 11) ¿Qué letra representa mejor la ubicación de 0.20?
- 12) ¿Qué letra representa mejor la ubicación de 0.97?



- 13) ¿Qué letra representa mejor la ubicación de 0.1?
- 14) ¿Qué letra representa mejor la ubicación de 0.76?



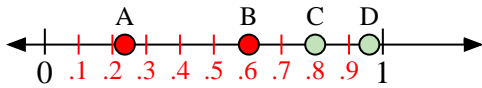
- 15) ¿Qué letra representa mejor la ubicación de 0.5?
- 16) ¿Qué letra representa mejor la ubicación de 0.12?

Respuestas

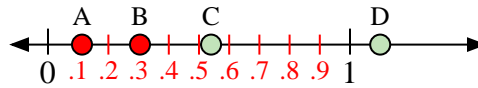
1. _____
2. _____
3. _____
4. _____
5. _____
6. _____
7. _____
8. _____
9. _____
10. _____
11. _____
12. _____
13. _____
14. _____
15. _____
16. _____



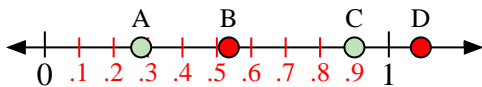
Usa las rectas numéricas para responder a las preguntas



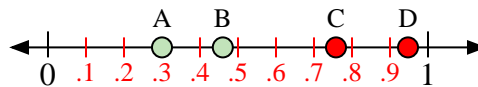
- 1) ¿Qué letra representa mejor la ubicación de 0.8?
- 2) ¿Qué letra representa mejor la ubicación de 0.96?



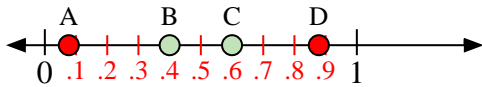
- 3) ¿Qué letra representa mejor la ubicación de 1.10?
- 4) ¿Qué letra representa mejor la ubicación de 0.54?



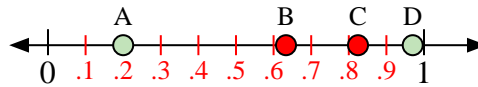
- 5) ¿Qué letra representa mejor la ubicación de 0.90?
- 6) ¿Qué letra representa mejor la ubicación de 0.28?



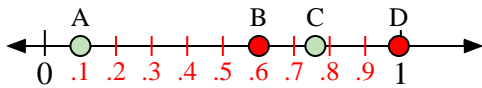
- 7) ¿Qué letra representa mejor la ubicación de 0.30?
- 8) ¿Qué letra representa mejor la ubicación de 0.46?



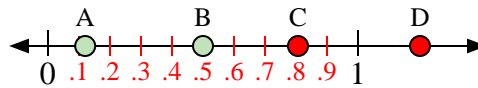
- 9) ¿Qué letra representa mejor la ubicación de 0.40?
- 10) ¿Qué letra representa mejor la ubicación de 0.60?



- 11) ¿Qué letra representa mejor la ubicación de 0.20?
- 12) ¿Qué letra representa mejor la ubicación de 0.97?



- 13) ¿Qué letra representa mejor la ubicación de 0.1?
- 14) ¿Qué letra representa mejor la ubicación de 0.76?



- 15) ¿Qué letra representa mejor la ubicación de 0.5?
- 16) ¿Qué letra representa mejor la ubicación de 0.12?

Respuestas

1. **C**
2. **D**
3. **D**
4. **C**
5. **C**
6. **A**
7. **A**
8. **B**
9. **B**
10. **C**
11. **A**
12. **D**
13. **A**
14. **C**
15. **B**
16. **A**