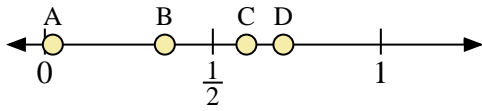
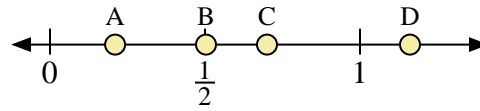




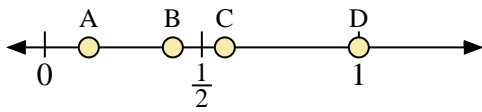
Usa las rectas numéricas para responder a las preguntas



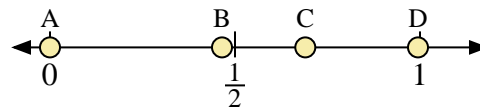
- 1) ¿Qué letra representa mejor la ubicación de 0.6?
- 2) ¿Qué letra representa mejor la ubicación de 0.71?



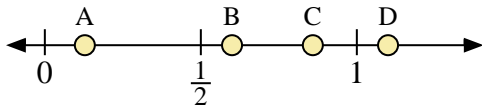
- 3) ¿Qué letra representa mejor la ubicación de 0.70?
- 4) ¿Qué letra representa mejor la ubicación de 0.21?



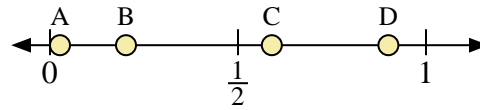
- 5) ¿Qué letra representa mejor la ubicación de 1.00?
- 6) ¿Qué letra representa mejor la ubicación de 0.14?



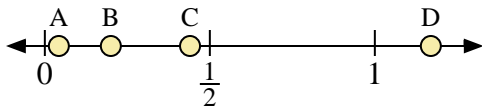
- 7) ¿Qué letra representa mejor la ubicación de 0.0?
- 8) ¿Qué letra representa mejor la ubicación de 0.69?



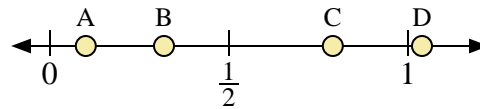
- 9) ¿Qué letra representa mejor la ubicación de 1.10?
- 10) ¿Qué letra representa mejor la ubicación de 0.60?



- 11) ¿Qué letra representa mejor la ubicación de 0.90?
- 12) ¿Qué letra representa mejor la ubicación de 0.59?



- 13) ¿Qué letra representa mejor la ubicación de 0.2?
- 14) ¿Qué letra representa mejor la ubicación de 0.44?



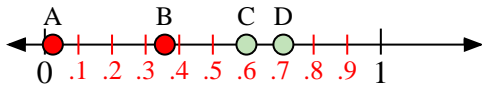
- 15) ¿Qué letra representa mejor la ubicación de 0.1?
- 16) ¿Qué letra representa mejor la ubicación de 0.79?

Respuestas

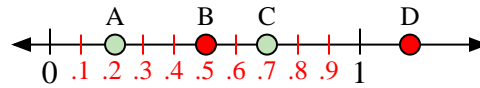
1. _____
2. _____
3. _____
4. _____
5. _____
6. _____
7. _____
8. _____
9. _____
10. _____
11. _____
12. _____
13. _____
14. _____
15. _____
16. _____



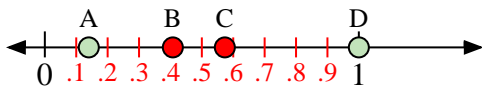
Usa las rectas numéricas para responder a las preguntas



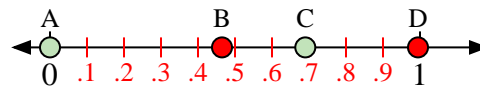
- 1) ¿Qué letra representa mejor la ubicación de 0.6?
- 2) ¿Qué letra representa mejor la ubicación de 0.71?



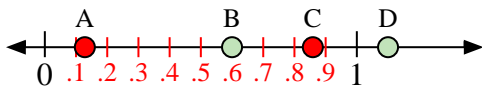
- 3) ¿Qué letra representa mejor la ubicación de 0.70?
- 4) ¿Qué letra representa mejor la ubicación de 0.21?



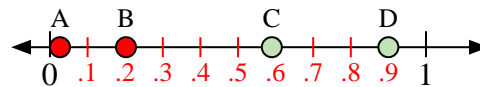
- 5) ¿Qué letra representa mejor la ubicación de 1.00?
- 6) ¿Qué letra representa mejor la ubicación de 0.14?



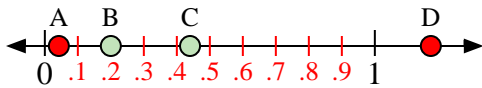
- 7) ¿Qué letra representa mejor la ubicación de 0.0?
- 8) ¿Qué letra representa mejor la ubicación de 0.69?



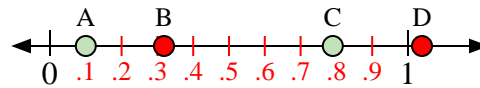
- 9) ¿Qué letra representa mejor la ubicación de 1.10?
- 10) ¿Qué letra representa mejor la ubicación de 0.60?



- 11) ¿Qué letra representa mejor la ubicación de 0.90?
- 12) ¿Qué letra representa mejor la ubicación de 0.59?



- 13) ¿Qué letra representa mejor la ubicación de 0.2?
- 14) ¿Qué letra representa mejor la ubicación de 0.44?



- 15) ¿Qué letra representa mejor la ubicación de 0.1?
- 16) ¿Qué letra representa mejor la ubicación de 0.79?

Respuestas

1. **C**
2. **D**
3. **C**
4. **A**
5. **D**
6. **A**
7. **A**
8. **C**
9. **D**
10. **B**
11. **D**
12. **C**
13. **B**
14. **C**
15. **A**
16. **C**