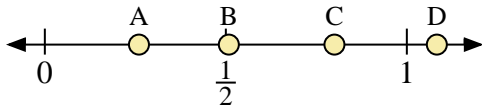
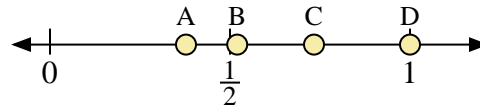




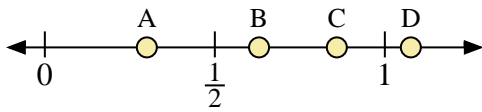
Usa las rectas numéricas para responder a las preguntas



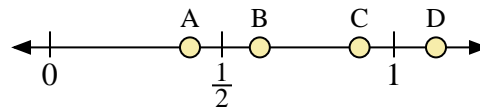
- 1) ¿Qué letra representa mejor la ubicación de 0.80?
- 2) ¿Qué letra representa mejor la ubicación de 0.26?



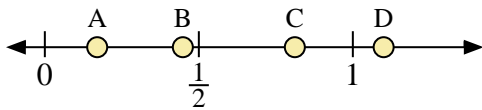
- 3) ¿Qué letra representa mejor la ubicación de 1.0?
- 4) ¿Qué letra representa mejor la ubicación de 0.52?



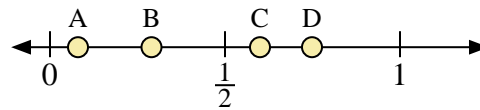
- 5) ¿Qué letra representa mejor la ubicación de 0.3?
- 6) ¿Qué letra representa mejor la ubicación de 0.63?



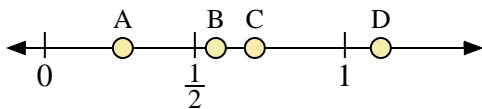
- 7) ¿Qué letra representa mejor la ubicación de 0.9?
- 8) ¿Qué letra representa mejor la ubicación de 0.61?



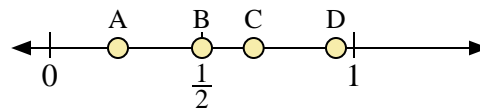
- 9) ¿Qué letra representa mejor la ubicación de 1.10?
- 10) ¿Qué letra representa mejor la ubicación de 0.17?



- 11) ¿Qué letra representa mejor la ubicación de 0.60?
- 12) ¿Qué letra representa mejor la ubicación de 0.29?



- 13) ¿Qué letra representa mejor la ubicación de 0.7?
- 14) ¿Qué letra representa mejor la ubicación de 0.57?



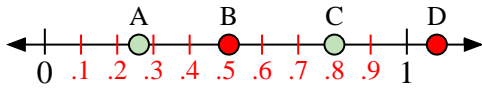
- 15) ¿Qué letra representa mejor la ubicación de 0.50?
- 16) ¿Qué letra representa mejor la ubicación de 0.67?

**Respuestas**

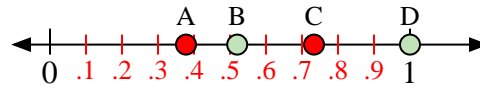
1. \_\_\_\_\_
2. \_\_\_\_\_
3. \_\_\_\_\_
4. \_\_\_\_\_
5. \_\_\_\_\_
6. \_\_\_\_\_
7. \_\_\_\_\_
8. \_\_\_\_\_
9. \_\_\_\_\_
10. \_\_\_\_\_
11. \_\_\_\_\_
12. \_\_\_\_\_
13. \_\_\_\_\_
14. \_\_\_\_\_
15. \_\_\_\_\_
16. \_\_\_\_\_



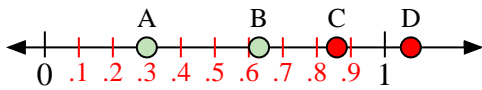
Usa las rectas numéricas para responder a las preguntas



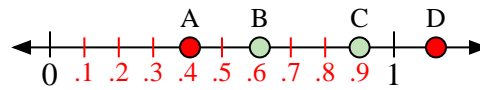
- 1) ¿Qué letra representa mejor la ubicación de 0.80?
- 2) ¿Qué letra representa mejor la ubicación de 0.26?



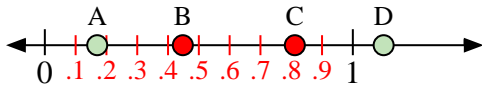
- 3) ¿Qué letra representa mejor la ubicación de 1.0?
- 4) ¿Qué letra representa mejor la ubicación de 0.52?



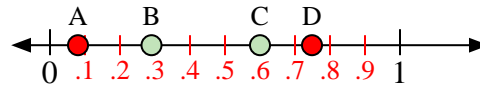
- 5) ¿Qué letra representa mejor la ubicación de 0.3?
- 6) ¿Qué letra representa mejor la ubicación de 0.63?



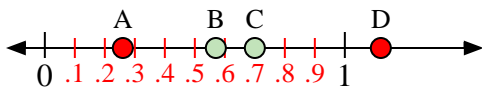
- 7) ¿Qué letra representa mejor la ubicación de 0.9?
- 8) ¿Qué letra representa mejor la ubicación de 0.61?



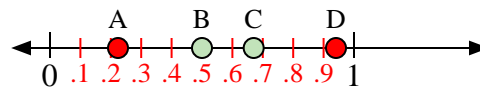
- 9) ¿Qué letra representa mejor la ubicación de 1.10?
- 10) ¿Qué letra representa mejor la ubicación de 0.17?



- 11) ¿Qué letra representa mejor la ubicación de 0.60?
- 12) ¿Qué letra representa mejor la ubicación de 0.29?



- 13) ¿Qué letra representa mejor la ubicación de 0.7?
- 14) ¿Qué letra representa mejor la ubicación de 0.57?



- 15) ¿Qué letra representa mejor la ubicación de 0.50?
- 16) ¿Qué letra representa mejor la ubicación de 0.67?

**Respuestas**

1.   **C**
2.   **A**
3.   **D**
4.   **B**
5.   **A**
6.   **B**
7.   **C**
8.   **B**
9.   **D**
10.   **A**
11.   **C**
12.   **B**
13.   **C**
14.   **B**
15.   **B**
16.   **C**