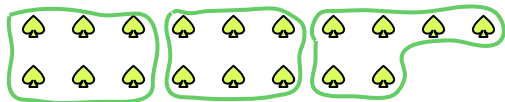


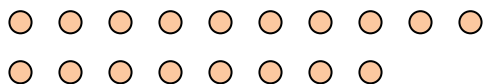


Usa las formas proporcionadas para resolver las preguntas.

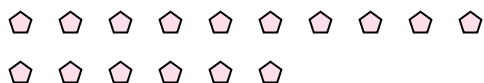
Ej) ¿Cuántos grupos de 6 se pueden hacer con las 18 formas de abajo?



2) ¿Cuántos grupos de 9 se pueden hacer con las 18 formas de abajo?




4) ¿Cuántos grupos de 8 se pueden hacer con las 16 formas de abajo?



6) ¿Cuántos grupos de 6 se pueden hacer con las 18 formas de abajo?



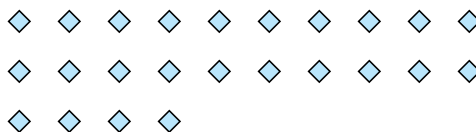
8) ¿Cuántos grupos de 7 se pueden hacer con las 14 formas de abajo?



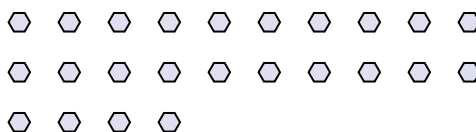
10) ¿Cuántos grupos de 9 se pueden hacer con las 27 formas de abajo?




1) ¿Cuántos grupos de 6 se pueden hacer con las 24 formas de abajo?



3) ¿Cuántos grupos de 4 se pueden hacer con las 24 formas de abajo?




5) ¿Cuántos grupos de 9 se pueden hacer con las 27 formas de abajo?



7) ¿Cuántos grupos de 9 se pueden hacer con las 27 formas de abajo?



9) ¿Cuántos grupos de 5 se pueden hacer con las 30 formas de abajo?



11) ¿Cuántos grupos de 2 se pueden hacer con las 28 formas de abajo?



**Respuestas**

Ej. 3

1. \_\_\_\_\_

2. \_\_\_\_\_

3. \_\_\_\_\_

4. \_\_\_\_\_

5. \_\_\_\_\_

6. \_\_\_\_\_

7. \_\_\_\_\_

8. \_\_\_\_\_

9. \_\_\_\_\_

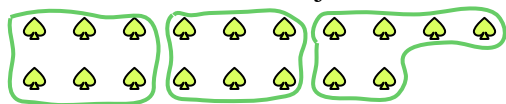
10. \_\_\_\_\_

11. \_\_\_\_\_

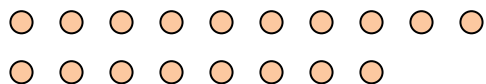


Usa las formas proporcionadas para resolver las preguntas.

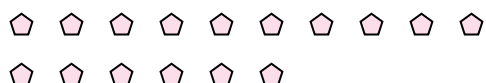
Ej) ¿Cuántos grupos de 6 se pueden hacer con las 18 formas de abajo?



2) ¿Cuántos grupos de 9 se pueden hacer con las 18 formas de abajo?




4) ¿Cuántos grupos de 8 se pueden hacer con las 16 formas de abajo?



6) ¿Cuántos grupos de 6 se pueden hacer con las 18 formas de abajo?



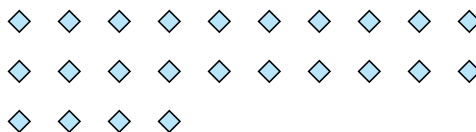
8) ¿Cuántos grupos de 7 se pueden hacer con las 14 formas de abajo?



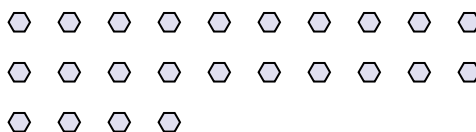
10) ¿Cuántos grupos de 9 se pueden hacer con las 27 formas de abajo?




1) ¿Cuántos grupos de 6 se pueden hacer con las 24 formas de abajo?



3) ¿Cuántos grupos de 4 se pueden hacer con las 24 formas de abajo?




5) ¿Cuántos grupos de 9 se pueden hacer con las 27 formas de abajo?



7) ¿Cuántos grupos de 9 se pueden hacer con las 27 formas de abajo?



9) ¿Cuántos grupos de 5 se pueden hacer con las 30 formas de abajo?



11) ¿Cuántos grupos de 2 se pueden hacer con las 28 formas de abajo?



**Respuestas**

Ej. 3

1. 4

2. 2

3. 6

4. 2

5. 3

6. 3

7. 3

8. 2

9. 6

10. 3

11. 14