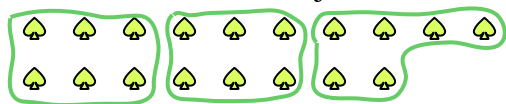





Usa las formas proporcionadas para resolver las preguntas.

Ej) ¿Cuántos grupos de 6 se pueden hacer con las 18 formas de abajo?



2) ¿Cuántos grupos de 4 se pueden hacer con las 32 formas de abajo?




4) ¿Cuántos grupos de 9 se pueden hacer con las 27 formas de abajo?




6) ¿Cuántos grupos de 4 se pueden hacer con las 24 formas de abajo?




8) ¿Cuántos grupos de 8 se pueden hacer con las 24 formas de abajo?



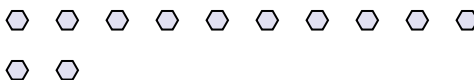
10) ¿Cuántos grupos de 5 se pueden hacer con las 40 formas de abajo?




1) ¿Cuántos grupos de 7 se pueden hacer con las 28 formas de abajo?



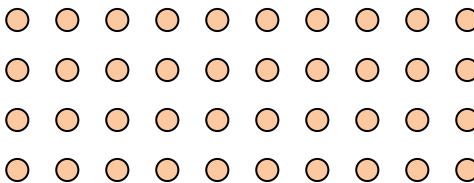
3) ¿Cuántos grupos de 4 se pueden hacer con las 12 formas de abajo?




5) ¿Cuántos grupos de 2 se pueden hacer con las 30 formas de abajo?



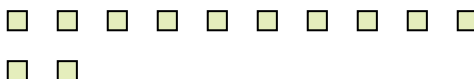
7) ¿Cuántos grupos de 8 se pueden hacer con las 40 formas de abajo?



9) ¿Cuántos grupos de 4 se pueden hacer con las 32 formas de abajo?



11) ¿Cuántos grupos de 6 se pueden hacer con las 12 formas de abajo?



Respuestas

Ej. 3

1. _____

2. _____

3. _____

4. _____

5. _____

6. _____

7. _____

8. _____

9. _____

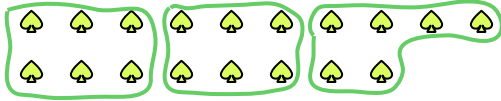
10. _____

11. _____




Usa las formas proporcionadas para resolver las preguntas.

Ej) ¿Cuántos grupos de 6 se pueden hacer con las 18 formas de abajo?



2) ¿Cuántos grupos de 4 se pueden hacer con las 32 formas de abajo?




4) ¿Cuántos grupos de 9 se pueden hacer con las 27 formas de abajo?




6) ¿Cuántos grupos de 4 se pueden hacer con las 24 formas de abajo?




8) ¿Cuántos grupos de 8 se pueden hacer con las 24 formas de abajo?



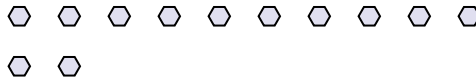
10) ¿Cuántos grupos de 5 se pueden hacer con las 40 formas de abajo?



1) ¿Cuántos grupos de 7 se pueden hacer con las 28 formas de abajo?



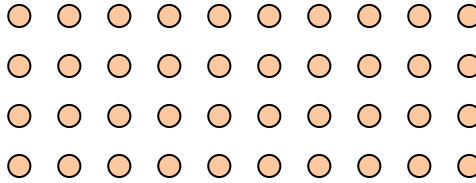
3) ¿Cuántos grupos de 4 se pueden hacer con las 12 formas de abajo?




5) ¿Cuántos grupos de 2 se pueden hacer con las 30 formas de abajo?



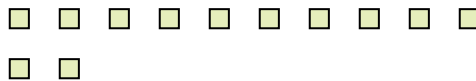
7) ¿Cuántos grupos de 8 se pueden hacer con las 40 formas de abajo?



9) ¿Cuántos grupos de 4 se pueden hacer con las 32 formas de abajo?



11) ¿Cuántos grupos de 6 se pueden hacer con las 12 formas de abajo?



Respuestas

Ej. 3

1. 4

2. 8

3. 3

4. 3

5. 15

6. 6

7. 5

8. 3

9. 8

10. 8

11. 2