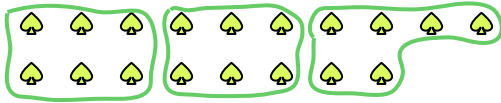





Usa las formas proporcionadas para resolver las preguntas.


Ej) ¿Cuántos grupos de 6 se pueden hacer con las 18 formas de abajo?



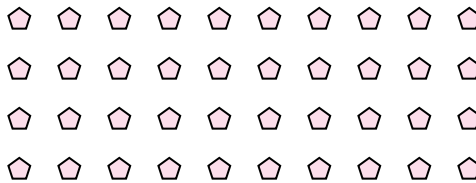
1) ¿Cuántos grupos de 6 se pueden hacer con las 30 formas de abajo?



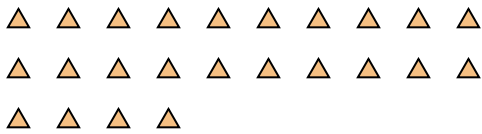
2) ¿Cuántos grupos de 7 se pueden hacer con las 28 formas de abajo?



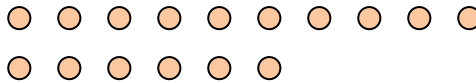
3) ¿Cuántos grupos de 4 se pueden hacer con las 40 formas de abajo?



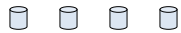
4) ¿Cuántos grupos de 2 se pueden hacer con las 24 formas de abajo?



5) ¿Cuántos grupos de 8 se pueden hacer con las 16 formas de abajo?



6) ¿Cuántos grupos de 2 se pueden hacer con las 4 formas de abajo?



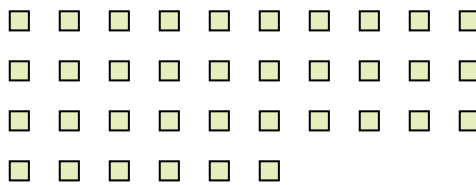
7) ¿Cuántos grupos de 3 se pueden hacer con las 6 formas de abajo?



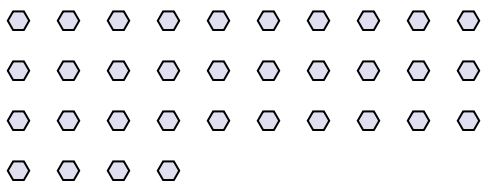
8) ¿Cuántos grupos de 7 se pueden hacer con las 35 formas de abajo?



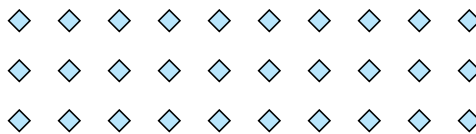
9) ¿Cuántos grupos de 2 se pueden hacer con las 36 formas de abajo?



10) ¿Cuántos grupos de 2 se pueden hacer con las 34 formas de abajo?



11) ¿Cuántos grupos de 6 se pueden hacer con las 30 formas de abajo?



Respuestas

Ej. 3

1. _____

2. _____

3. _____

4. _____

5. _____

6. _____

7. _____

8. _____

9. _____

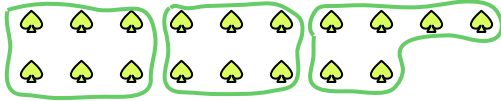
10. _____

11. _____




Usa las formas proporcionadas para resolver las preguntas.


Ej) ¿Cuántos grupos de 6 se pueden hacer con las 18 formas de abajo?



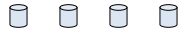
2) ¿Cuántos grupos de 7 se pueden hacer con las 28 formas de abajo?



4) ¿Cuántos grupos de 2 se pueden hacer con las 24 formas de abajo?



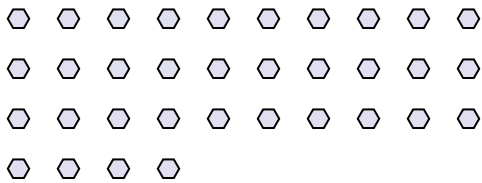
6) ¿Cuántos grupos de 2 se pueden hacer con las 4 formas de abajo?




8) ¿Cuántos grupos de 7 se pueden hacer con las 35 formas de abajo?



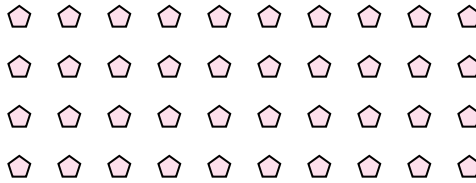
10) ¿Cuántos grupos de 2 se pueden hacer con las 34 formas de abajo?



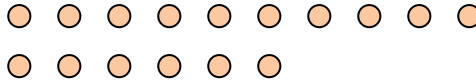
1) ¿Cuántos grupos de 6 se pueden hacer con las 30 formas de abajo?



3) ¿Cuántos grupos de 4 se pueden hacer con las 40 formas de abajo?



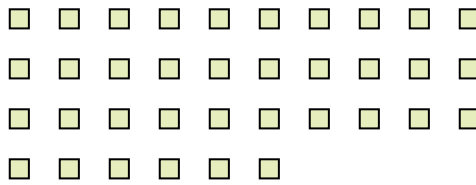
5) ¿Cuántos grupos de 8 se pueden hacer con las 16 formas de abajo?



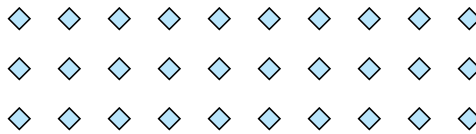
7) ¿Cuántos grupos de 3 se pueden hacer con las 6 formas de abajo?



9) ¿Cuántos grupos de 2 se pueden hacer con las 36 formas de abajo?



11) ¿Cuántos grupos de 6 se pueden hacer con las 30 formas de abajo?



Respuestas

Ej. 3

1. 5

2. 4

3. 10

4. 12

5. 2

6. 2

7. 2

8. 5

9. 18

10. 17

11. 5