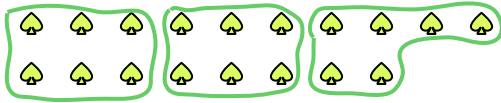


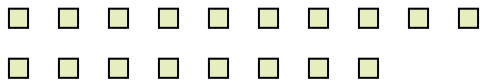


Usa las formas proporcionadas para resolver las preguntas.

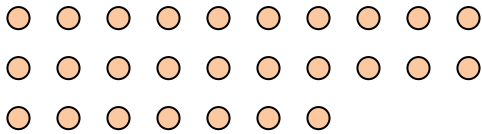
Ej) ¿Cuántos grupos de 6 se pueden hacer con las 18 formas de abajo?



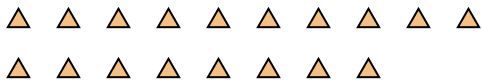
2) ¿Cuántos grupos de 6 se pueden hacer con las 18 formas de abajo?



4) ¿Cuántos grupos de 9 se pueden hacer con las 27 formas de abajo?




6) ¿Cuántos grupos de 6 se pueden hacer con las 18 formas de abajo?




8) ¿Cuántos grupos de 4 se pueden hacer con las 8 formas de abajo?



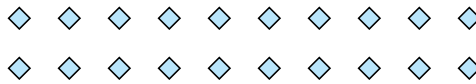
10) ¿Cuántos grupos de 4 se pueden hacer con las 24 formas de abajo?



1) ¿Cuántos grupos de 4 se pueden hacer con las 16 formas de abajo?



3) ¿Cuántos grupos de 5 se pueden hacer con las 20 formas de abajo?



5) ¿Cuántos grupos de 8 se pueden hacer con las 40 formas de abajo?



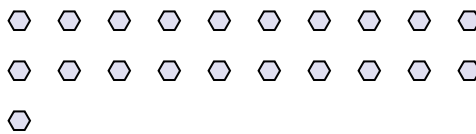
7) ¿Cuántos grupos de 4 se pueden hacer con las 20 formas de abajo?



9) ¿Cuántos grupos de 7 se pueden hacer con las 14 formas de abajo?



11) ¿Cuántos grupos de 7 se pueden hacer con las 21 formas de abajo?



Respuestas

Ej. 3

1. 4

2. 3

3. 4

4. 3

5. 5

6. 3

7. 5

8. 2

9. 2

10. 6

11. 3