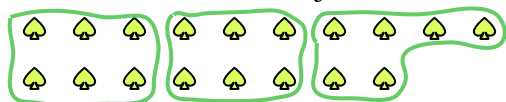


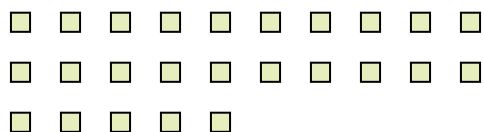


Usa las formas proporcionadas para resolver las preguntas.

Ej) ¿Cuántos grupos de 6 se pueden hacer con las 18 formas de abajo?




2) ¿Cuántos grupos de 5 se pueden hacer con las 25 formas de abajo?




4) ¿Cuántos grupos de 4 se pueden hacer con las 32 formas de abajo?



6) ¿Cuántos grupos de 8 se pueden hacer con las 32 formas de abajo?



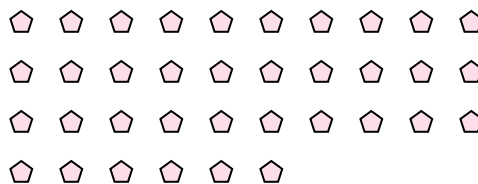
8) ¿Cuántos grupos de 8 se pueden hacer con las 32 formas de abajo?



10) ¿Cuántos grupos de 8 se pueden hacer con las 16 formas de abajo?




1) ¿Cuántos grupos de 9 se pueden hacer con las 36 formas de abajo?




3) ¿Cuántos grupos de 5 se pueden hacer con las 15 formas de abajo?



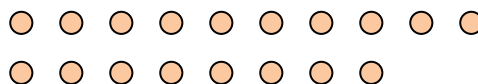
5) ¿Cuántos grupos de 5 se pueden hacer con las 30 formas de abajo?



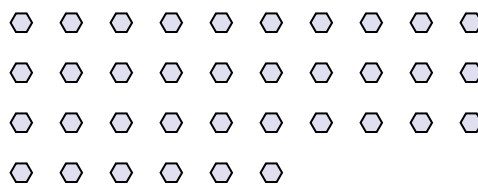
7) ¿Cuántos grupos de 8 se pueden hacer con las 40 formas de abajo?



9) ¿Cuántos grupos de 6 se pueden hacer con las 18 formas de abajo?



11) ¿Cuántos grupos de 9 se pueden hacer con las 36 formas de abajo?



Respuestas

Ej. 3

1. _____

2. _____

3. _____

4. _____

5. _____

6. _____

7. _____

8. _____

9. _____

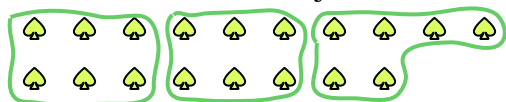
10. _____

11. _____

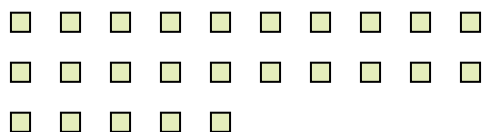


Usa las formas proporcionadas para resolver las preguntas.

Ej) ¿Cuántos grupos de 6 se pueden hacer con las 18 formas de abajo?




2) ¿Cuántos grupos de 5 se pueden hacer con las 25 formas de abajo?




4) ¿Cuántos grupos de 4 se pueden hacer con las 32 formas de abajo?



6) ¿Cuántos grupos de 8 se pueden hacer con las 32 formas de abajo?



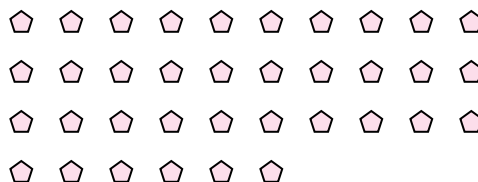
8) ¿Cuántos grupos de 8 se pueden hacer con las 32 formas de abajo?



10) ¿Cuántos grupos de 8 se pueden hacer con las 16 formas de abajo?




1) ¿Cuántos grupos de 9 se pueden hacer con las 36 formas de abajo?




3) ¿Cuántos grupos de 5 se pueden hacer con las 15 formas de abajo?



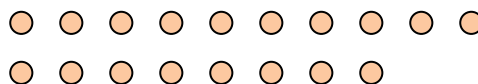
5) ¿Cuántos grupos de 5 se pueden hacer con las 30 formas de abajo?



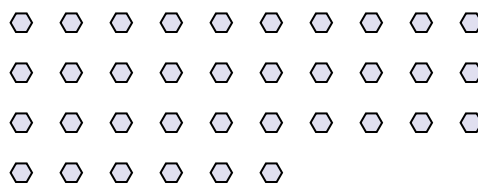
7) ¿Cuántos grupos de 8 se pueden hacer con las 40 formas de abajo?



9) ¿Cuántos grupos de 6 se pueden hacer con las 18 formas de abajo?



11) ¿Cuántos grupos de 9 se pueden hacer con las 36 formas de abajo?



Respuestas

Ej. 3

1. 4

2. 5

3. 3

4. 8

5. 6

6. 4

7. 5

8. 4

9. 3

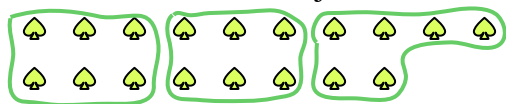
10. 2

11. 4




Usa las formas proporcionadas para resolver las preguntas.

Ej) ¿Cuántos grupos de 6 se pueden hacer con las 18 formas de abajo?



2) ¿Cuántos grupos de 4 se pueden hacer con las 32 formas de abajo?




4) ¿Cuántos grupos de 9 se pueden hacer con las 27 formas de abajo?




6) ¿Cuántos grupos de 4 se pueden hacer con las 24 formas de abajo?




8) ¿Cuántos grupos de 8 se pueden hacer con las 24 formas de abajo?



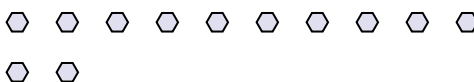
10) ¿Cuántos grupos de 5 se pueden hacer con las 40 formas de abajo?




1) ¿Cuántos grupos de 7 se pueden hacer con las 28 formas de abajo?



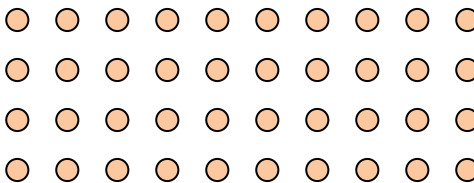
3) ¿Cuántos grupos de 4 se pueden hacer con las 12 formas de abajo?




5) ¿Cuántos grupos de 2 se pueden hacer con las 30 formas de abajo?



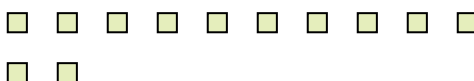
7) ¿Cuántos grupos de 8 se pueden hacer con las 40 formas de abajo?



9) ¿Cuántos grupos de 4 se pueden hacer con las 32 formas de abajo?



11) ¿Cuántos grupos de 6 se pueden hacer con las 12 formas de abajo?



Respuestas

Ej. 3

1. _____

2. _____

3. _____

4. _____

5. _____

6. _____

7. _____

8. _____

9. _____

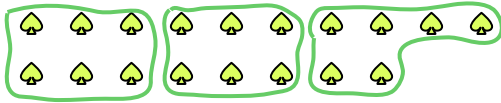
10. _____

11. _____




Usa las formas proporcionadas para resolver las preguntas.

Ej) ¿Cuántos grupos de 6 se pueden hacer con las 18 formas de abajo?



2) ¿Cuántos grupos de 4 se pueden hacer con las 32 formas de abajo?




4) ¿Cuántos grupos de 9 se pueden hacer con las 27 formas de abajo?




6) ¿Cuántos grupos de 4 se pueden hacer con las 24 formas de abajo?




8) ¿Cuántos grupos de 8 se pueden hacer con las 24 formas de abajo?



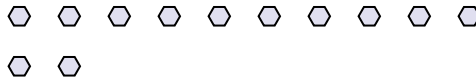
10) ¿Cuántos grupos de 5 se pueden hacer con las 40 formas de abajo?



1) ¿Cuántos grupos de 7 se pueden hacer con las 28 formas de abajo?



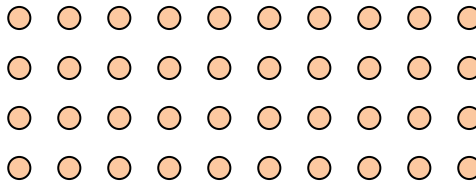
3) ¿Cuántos grupos de 4 se pueden hacer con las 12 formas de abajo?




5) ¿Cuántos grupos de 2 se pueden hacer con las 30 formas de abajo?



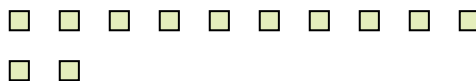
7) ¿Cuántos grupos de 8 se pueden hacer con las 40 formas de abajo?



9) ¿Cuántos grupos de 4 se pueden hacer con las 32 formas de abajo?



11) ¿Cuántos grupos de 6 se pueden hacer con las 12 formas de abajo?



Respuestas

Ej. 3

1. 4

2. 8

3. 3

4. 3

5. 15

6. 6

7. 5

8. 3

9. 8

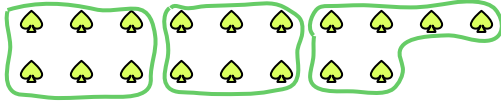
10. 8

11. 2



Usa las formas proporcionadas para resolver las preguntas.

Ej) ¿Cuántos grupos de 6 se pueden hacer con las 18 formas de abajo?



1) ¿Cuántos grupos de 4 se pueden hacer con las 20 formas de abajo?




2) ¿Cuántos grupos de 7 se pueden hacer con las 14 formas de abajo?



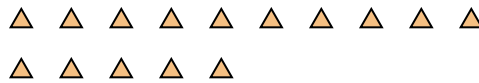
3) ¿Cuántos grupos de 2 se pueden hacer con las 8 formas de abajo?



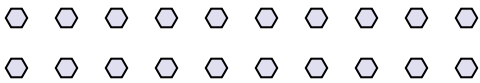
4) ¿Cuántos grupos de 5 se pueden hacer con las 25 formas de abajo?




5) ¿Cuántos grupos de 3 se pueden hacer con las 15 formas de abajo?



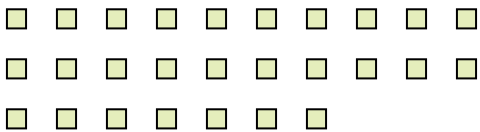
6) ¿Cuántos grupos de 5 se pueden hacer con las 20 formas de abajo?




7) ¿Cuántos grupos de 5 se pueden hacer con las 40 formas de abajo?



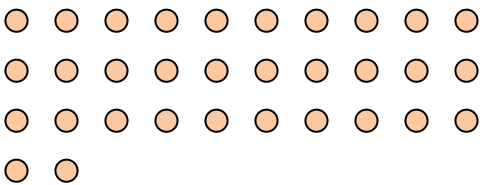
8) ¿Cuántos grupos de 9 se pueden hacer con las 27 formas de abajo?



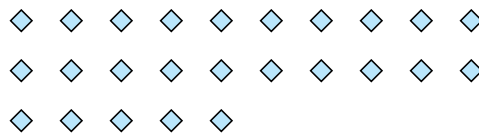
9) ¿Cuántos grupos de 4 se pueden hacer con las 16 formas de abajo?



10) ¿Cuántos grupos de 4 se pueden hacer con las 32 formas de abajo?



11) ¿Cuántos grupos de 5 se pueden hacer con las 25 formas de abajo?



Respuestas

Ej. 3

1. _____

2. _____

3. _____

4. _____

5. _____

6. _____

7. _____

8. _____

9. _____

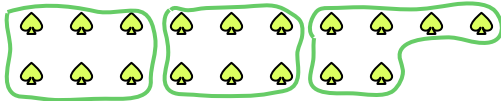
10. _____

11. _____



Usa las formas proporcionadas para resolver las preguntas.


Ej) ¿Cuántos grupos de 6 se pueden hacer con las 18 formas de abajo?



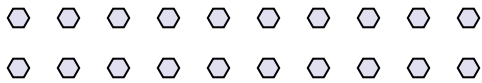
2) ¿Cuántos grupos de 7 se pueden hacer con las 14 formas de abajo?



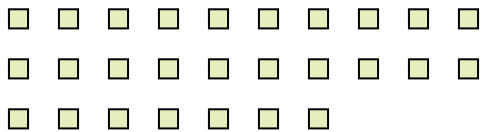
4) ¿Cuántos grupos de 5 se pueden hacer con las 25 formas de abajo?



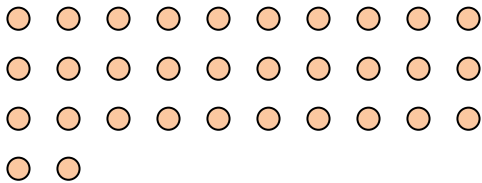
6) ¿Cuántos grupos de 5 se pueden hacer con las 20 formas de abajo?



8) ¿Cuántos grupos de 9 se pueden hacer con las 27 formas de abajo?



10) ¿Cuántos grupos de 4 se pueden hacer con las 32 formas de abajo?



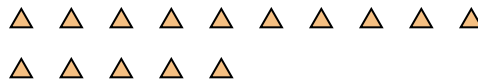
1) ¿Cuántos grupos de 4 se pueden hacer con las 20 formas de abajo?




3) ¿Cuántos grupos de 2 se pueden hacer con las 8 formas de abajo?




5) ¿Cuántos grupos de 3 se pueden hacer con las 15 formas de abajo?



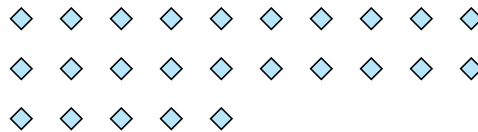
7) ¿Cuántos grupos de 5 se pueden hacer con las 40 formas de abajo?



9) ¿Cuántos grupos de 4 se pueden hacer con las 16 formas de abajo?



11) ¿Cuántos grupos de 5 se pueden hacer con las 25 formas de abajo?



Respuestas

Ej. 3

1. 5

2. 2

3. 4

4. 5

5. 5

6. 4

7. 8

8. 3

9. 4

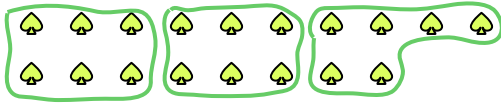
10. 8

11. 5

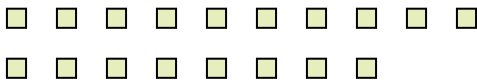


Usa las formas proporcionadas para resolver las preguntas.


Ej) ¿Cuántos grupos de 6 se pueden hacer con las 18 formas de abajo?




2) ¿Cuántos grupos de 9 se pueden hacer con las 18 formas de abajo?



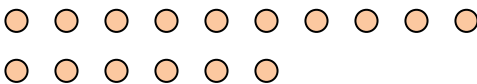
4) ¿Cuántos grupos de 9 se pueden hacer con las 27 formas de abajo?



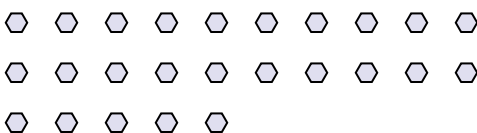
6) ¿Cuántos grupos de 6 se pueden hacer con las 36 formas de abajo?



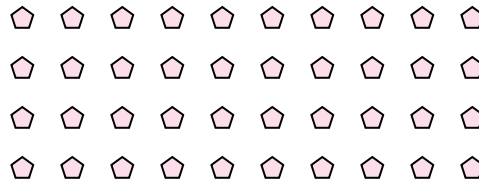
8) ¿Cuántos grupos de 8 se pueden hacer con las 16 formas de abajo?



10) ¿Cuántos grupos de 5 se pueden hacer con las 25 formas de abajo?



1) ¿Cuántos grupos de 4 se pueden hacer con las 40 formas de abajo?




3) ¿Cuántos grupos de 2 se pueden hacer con las 4 formas de abajo?



5) ¿Cuántos grupos de 5 se pueden hacer con las 15 formas de abajo?



7) ¿Cuántos grupos de 8 se pueden hacer con las 40 formas de abajo?



9) ¿Cuántos grupos de 2 se pueden hacer con las 6 formas de abajo?



11) ¿Cuántos grupos de 5 se pueden hacer con las 15 formas de abajo?



Respuestas

Ej. 3

1. 10

2. 2

3. 2

4. 3

5. 3

6. 6

7. 5

8. 2

9. 3

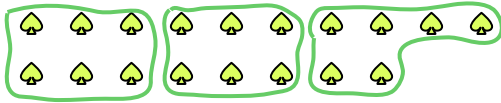
10. 5

11. 3

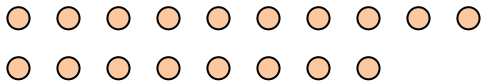


Usa las formas proporcionadas para resolver las preguntas.

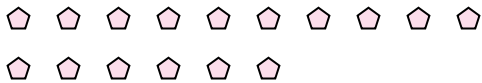
Ej) ¿Cuántos grupos de 6 se pueden hacer con las 18 formas de abajo?



2) ¿Cuántos grupos de 9 se pueden hacer con las 18 formas de abajo?



4) ¿Cuántos grupos de 8 se pueden hacer con las 16 formas de abajo?




6) ¿Cuántos grupos de 6 se pueden hacer con las 18 formas de abajo?



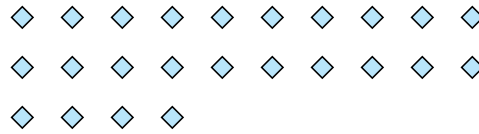
8) ¿Cuántos grupos de 7 se pueden hacer con las 14 formas de abajo?



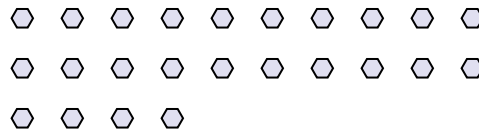
10) ¿Cuántos grupos de 9 se pueden hacer con las 27 formas de abajo?



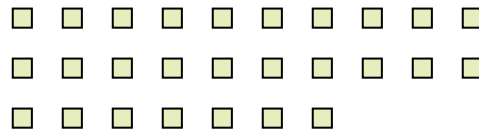
1) ¿Cuántos grupos de 6 se pueden hacer con las 24 formas de abajo?



3) ¿Cuántos grupos de 4 se pueden hacer con las 24 formas de abajo?




5) ¿Cuántos grupos de 9 se pueden hacer con las 27 formas de abajo?



7) ¿Cuántos grupos de 9 se pueden hacer con las 27 formas de abajo?



9) ¿Cuántos grupos de 5 se pueden hacer con las 30 formas de abajo?



11) ¿Cuántos grupos de 2 se pueden hacer con las 28 formas de abajo?



Respuestas

Ej. 3

1. 4

2. 2

3. 6

4. 2

5. 3

6. 3

7. 3

8. 2

9. 6

10. 3

11. 14