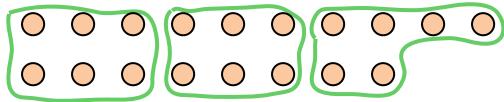




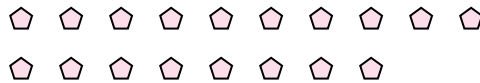
Usa las formas proporcionadas para resolver las preguntas.

Respuestas

Ej) ¿Cuántos grupos de 6 se pueden hacer con las 18 formas de abajo?



1) ¿Cuántos grupos de 6 se pueden hacer con las 18 formas de abajo?



Ej. 3

1. _____

2. _____

3. _____

4. _____

5. _____

6. _____

7. _____

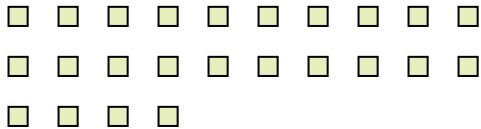
8. _____

9. _____


10. _____

11. _____


2) ¿Cuántos grupos de 6 se pueden hacer con las 24 formas de abajo?



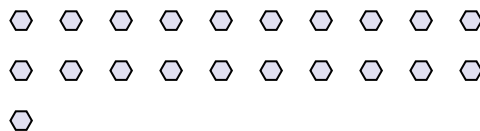
3) ¿Cuántos grupos de 5 se pueden hacer con las 30 formas de abajo?



4) ¿Cuántos grupos de 5 se pueden hacer con las 25 formas de abajo?



5) ¿Cuántos grupos de 7 se pueden hacer con las 21 formas de abajo?




6) ¿Cuántos grupos de 5 se pueden hacer con las 30 formas de abajo?



7) ¿Cuántos grupos de 6 se pueden hacer con las 36 formas de abajo?




8) ¿Cuántos grupos de 9 se pueden hacer con las 36 formas de abajo?




9) ¿Cuántos grupos de 6 se pueden hacer con las 12 formas de abajo?



10) ¿Cuántos grupos de 5 se pueden hacer con las 35 formas de abajo?



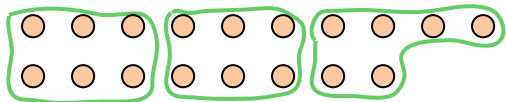
11) ¿Cuántos grupos de 6 se pueden hacer con las 36 formas de abajo?



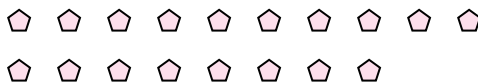


Usa las formas proporcionadas para resolver las preguntas.

Ej) ¿Cuántos grupos de 6 se pueden hacer con las 18 formas de abajo?



1) ¿Cuántos grupos de 6 se pueden hacer con las 18 formas de abajo?



Respuestas

Ej. 3

1. 3

2. 4

3. 6

4. 5

5. 3

6. 6

7. 6

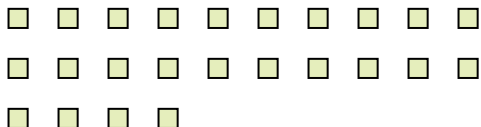
8. 4

9. 2


10. 7

11. 6


2) ¿Cuántos grupos de 6 se pueden hacer con las 24 formas de abajo?



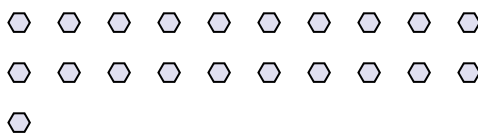
3) ¿Cuántos grupos de 5 se pueden hacer con las 30 formas de abajo?



4) ¿Cuántos grupos de 5 se pueden hacer con las 25 formas de abajo?



5) ¿Cuántos grupos de 7 se pueden hacer con las 21 formas de abajo?




6) ¿Cuántos grupos de 5 se pueden hacer con las 30 formas de abajo?



7) ¿Cuántos grupos de 6 se pueden hacer con las 36 formas de abajo?




8) ¿Cuántos grupos de 9 se pueden hacer con las 36 formas de abajo?



9) ¿Cuántos grupos de 6 se pueden hacer con las 12 formas de abajo?



10) ¿Cuántos grupos de 5 se pueden hacer con las 35 formas de abajo?



11) ¿Cuántos grupos de 6 se pueden hacer con las 36 formas de abajo?

