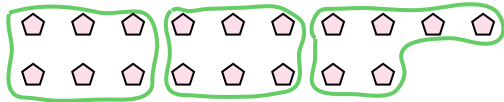





Usa las formas proporcionadas para resolver las preguntas.

Respuestas

Ej) ¿Cuántos grupos de 6 se pueden hacer con las 18 formas de abajo?



1) ¿Cuántos grupos de 3 se pueden hacer con las 21 formas de abajo?




Ej. 3

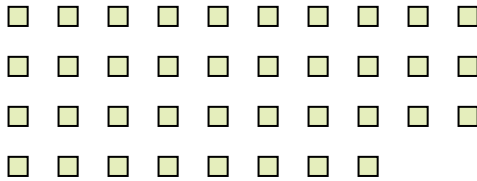
1. _____

2. _____

2) ¿Cuántos grupos de 8 se pueden hacer con las 24 formas de abajo?



3) ¿Cuántos grupos de 2 se pueden hacer con las 38 formas de abajo?



3. _____

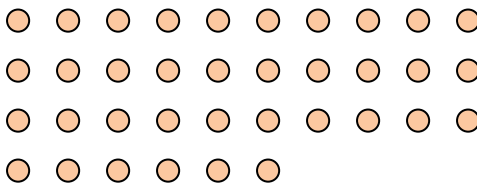
4. _____

5. _____

4) ¿Cuántos grupos de 4 se pueden hacer con las 36 formas de abajo?



5) ¿Cuántos grupos de 9 se pueden hacer con las 36 formas de abajo?



6. _____

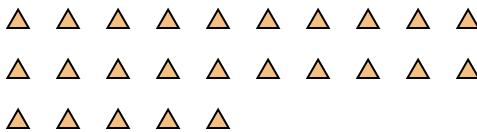
7. _____

8. _____

6) ¿Cuántos grupos de 3 se pueden hacer con las 6 formas de abajo?



7) ¿Cuántos grupos de 5 se pueden hacer con las 25 formas de abajo?



9. _____

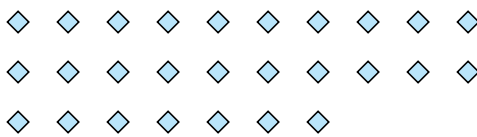
10. _____

11. _____

8) ¿Cuántos grupos de 6 se pueden hacer con las 30 formas de abajo?




9) ¿Cuántos grupos de 3 se pueden hacer con las 27 formas de abajo?



10) ¿Cuántos grupos de 7 se pueden hacer con las 14 formas de abajo?



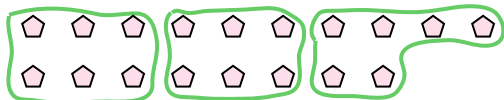
11) ¿Cuántos grupos de 8 se pueden hacer con las 32 formas de abajo?






Usa las formas proporcionadas para resolver las preguntas.

Ej) ¿Cuántos grupos de 6 se pueden hacer con las 18 formas de abajo?



1) ¿Cuántos grupos de 3 se pueden hacer con las 21 formas de abajo?



Respuestas

Ej. 3

1. 7

2. 3

3. 19

4. 9

5. 4

6. 2

7. 5


8. 5

9. 9

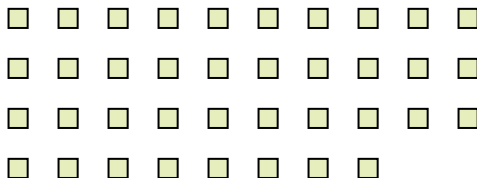
10. 2

11. 4

2) ¿Cuántos grupos de 8 se pueden hacer con las 24 formas de abajo?



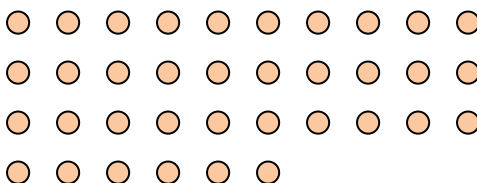
3) ¿Cuántos grupos de 2 se pueden hacer con las 38 formas de abajo?



4) ¿Cuántos grupos de 4 se pueden hacer con las 36 formas de abajo?



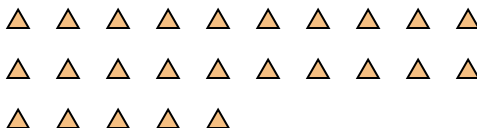
5) ¿Cuántos grupos de 9 se pueden hacer con las 36 formas de abajo?



6) ¿Cuántos grupos de 3 se pueden hacer con las 6 formas de abajo?



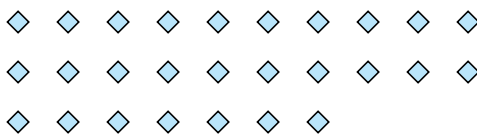
7) ¿Cuántos grupos de 5 se pueden hacer con las 25 formas de abajo?



8) ¿Cuántos grupos de 6 se pueden hacer con las 30 formas de abajo?



9) ¿Cuántos grupos de 3 se pueden hacer con las 27 formas de abajo?



10) ¿Cuántos grupos de 7 se pueden hacer con las 14 formas de abajo?



11) ¿Cuántos grupos de 8 se pueden hacer con las 32 formas de abajo?

