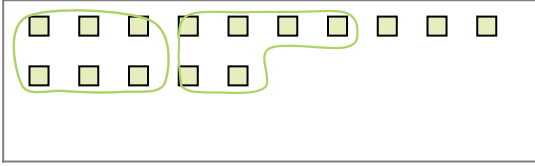





Usa los ejemplos a continuación para resolver las preguntas.

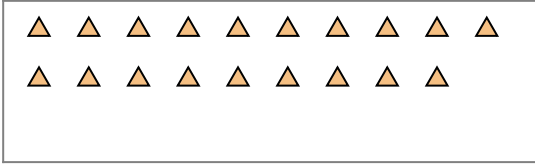
Ej) Hay 15 formas a continuación. ¿Cuántos grupos de 6 puedes hacer con ellos? ¿Cuántas sobran?



2) Hay 26 formas a continuación. ¿Cuántos grupos de 5 puedes hacer con ellos? ¿Cuántas sobran?



4) Hay 19 formas a continuación. ¿Cuántos grupos de 2 puedes hacer con ellos? ¿Cuántas sobran?



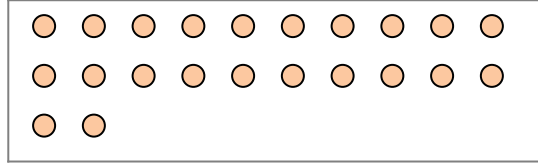
6) Hay 12 formas a continuación. ¿Cuántos grupos de 9 puedes hacer con ellos? ¿Cuántas sobran?



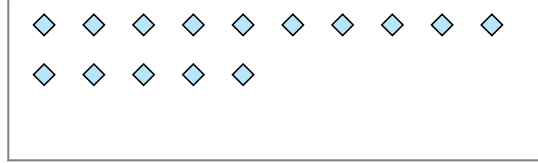
8) Hay 24 formas a continuación. ¿Cuántos grupos de 7 puedes hacer con ellos? ¿Cuántas sobran?



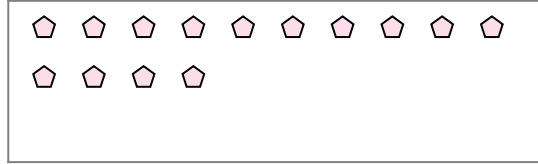
1) Hay 22 formas a continuación. ¿Cuántos grupos de 8 puedes hacer con ellos? ¿Cuántas sobran?



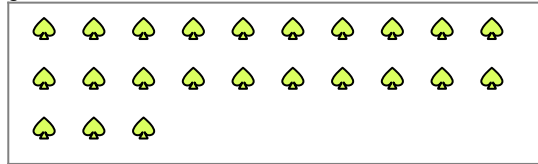
3) Hay 15 formas a continuación. ¿Cuántos grupos de 6 puedes hacer con ellos? ¿Cuántas sobran?



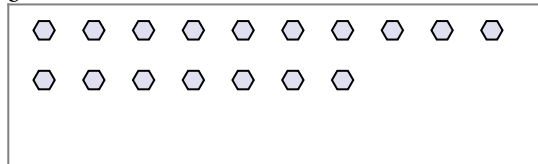
5) Hay 14 formas a continuación. ¿Cuántos grupos de 7 puedes hacer con ellos? ¿Cuántas sobran?



7) Hay 23 formas a continuación. ¿Cuántos grupos de 2 puedes hacer con ellos? ¿Cuántas sobran?



9) Hay 17 formas a continuación. ¿Cuántos grupos de 6 puedes hacer con ellos? ¿Cuántas sobran?



Respuestas

Ej. 2

Ej. 3

1a. _____

1b. _____

2a. _____

2b. _____

3a. _____

3b. _____

4a. _____

4b. _____

5a. _____

5b. _____

6a. _____

6b. _____

7a. _____

7b. _____

8a. _____

8b. _____

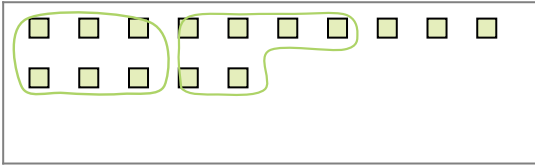
9a. _____

9b. _____




Usa los ejemplos a continuación para resolver las preguntas.

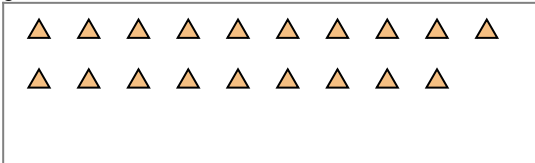
Ej) Hay 15 formas a continuación. ¿Cuántos grupos de 6 puedes hacer con ellos? ¿Cuántas sobran?



2) Hay 26 formas a continuación. ¿Cuántos grupos de 5 puedes hacer con ellos? ¿Cuántas sobran?



4) Hay 19 formas a continuación. ¿Cuántos grupos de 2 puedes hacer con ellos? ¿Cuántas sobran?



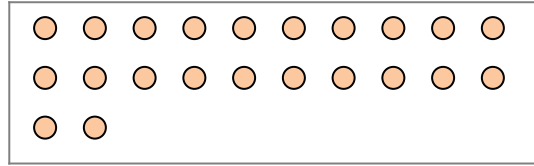
6) Hay 12 formas a continuación. ¿Cuántos grupos de 9 puedes hacer con ellos? ¿Cuántas sobran?



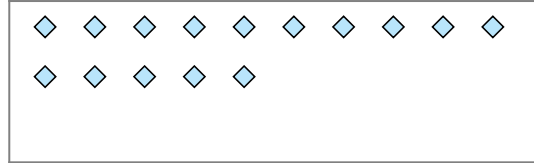
8) Hay 24 formas a continuación. ¿Cuántos grupos de 7 puedes hacer con ellos? ¿Cuántas sobran?



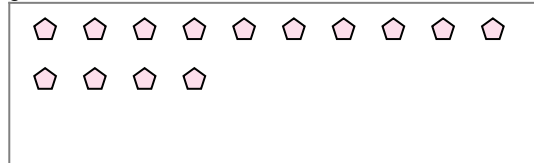
1) Hay 22 formas a continuación. ¿Cuántos grupos de 8 puedes hacer con ellos? ¿Cuántas sobran?



3) Hay 15 formas a continuación. ¿Cuántos grupos de 6 puedes hacer con ellos? ¿Cuántas sobran?



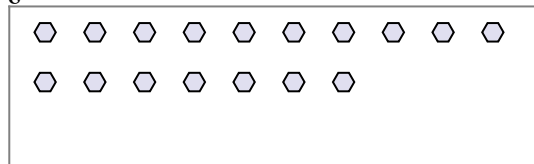
5) Hay 14 formas a continuación. ¿Cuántos grupos de 7 puedes hacer con ellos? ¿Cuántas sobran?



7) Hay 23 formas a continuación. ¿Cuántos grupos de 2 puedes hacer con ellos? ¿Cuántas sobran?



9) Hay 17 formas a continuación. ¿Cuántos grupos de 6 puedes hacer con ellos? ¿Cuántas sobran?



Respuestas

Ej. 2

Ej. 3

1a. 2

1b. 6

2a. 5

2b. 1

3a. 2

3b. 3

4a. 9

4b. 1

5a. 2

5b. 0

6a. 1

6b. 3

7a. 11

7b. 1

8a. 3

8b. 3

9a. 2

9b. 5