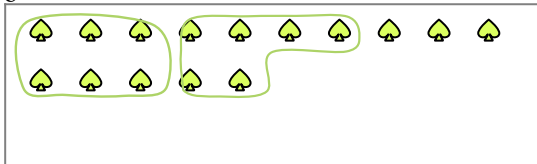


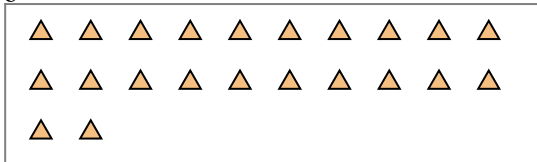


Usa los ejemplos a continuación para resolver las preguntas.


Ej) Hay 15 formas a continuación. ¿Cuántos grupos de 6 puedes hacer con ellos? ¿Cuántas sobran?



2) Hay 22 formas a continuación. ¿Cuántos grupos de 4 puedes hacer con ellos? ¿Cuántas sobran?



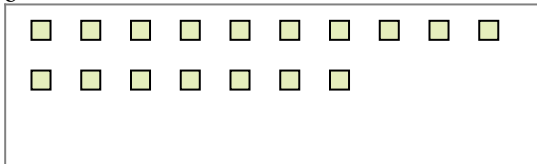
4) Hay 16 formas a continuación. ¿Cuántos grupos de 7 puedes hacer con ellos? ¿Cuántas sobran?




6) Hay 23 formas a continuación. ¿Cuántos grupos de 6 puedes hacer con ellos? ¿Cuántas sobran?



8) Hay 17 formas a continuación. ¿Cuántos grupos de 3 puedes hacer con ellos? ¿Cuántas sobran?



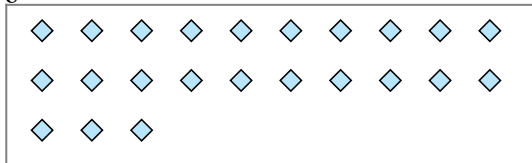
1) Hay 10 formas a continuación. ¿Cuántos grupos de 2 puedes hacer con ellos? ¿Cuántas sobran?



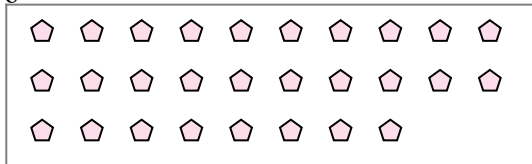
3) Hay 24 formas a continuación. ¿Cuántos grupos de 6 puedes hacer con ellos? ¿Cuántas sobran?



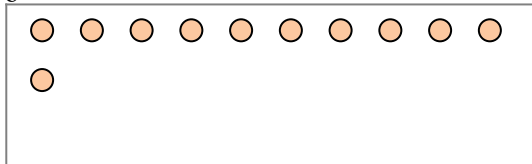
5) Hay 23 formas a continuación. ¿Cuántos grupos de 3 puedes hacer con ellos? ¿Cuántas sobran?



7) Hay 28 formas a continuación. ¿Cuántos grupos de 5 puedes hacer con ellos? ¿Cuántas sobran?



9) Hay 11 formas a continuación. ¿Cuántos grupos de 5 puedes hacer con ellos? ¿Cuántas sobran?



Respuestas

Ej. 2

Ej. 3

1a. \_\_\_\_\_

1b. \_\_\_\_\_

2a. \_\_\_\_\_

2b. \_\_\_\_\_

3a. \_\_\_\_\_

3b. \_\_\_\_\_

4a. \_\_\_\_\_

4b. \_\_\_\_\_

5a. \_\_\_\_\_

5b. \_\_\_\_\_

6a. \_\_\_\_\_

6b. \_\_\_\_\_

7a. \_\_\_\_\_

7b. \_\_\_\_\_

8a. \_\_\_\_\_

8b. \_\_\_\_\_

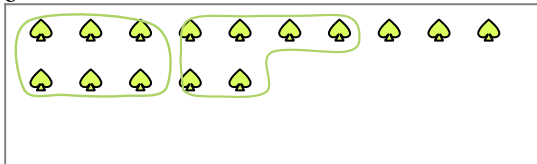
9a. \_\_\_\_\_

9b. \_\_\_\_\_

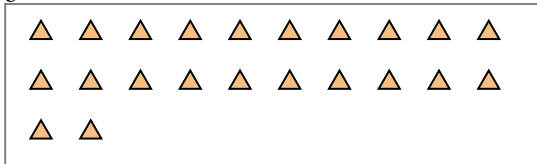


Usa los ejemplos a continuación para resolver las preguntas.


Ej) Hay 15 formas a continuación. ¿Cuántos grupos de 6 puedes hacer con ellos? ¿Cuántas sobran?



2) Hay 22 formas a continuación. ¿Cuántos grupos de 4 puedes hacer con ellos? ¿Cuántas sobran?



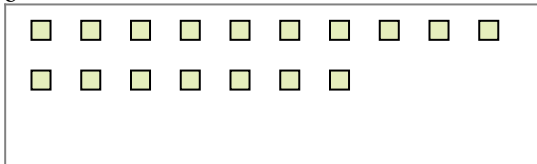
4) Hay 16 formas a continuación. ¿Cuántos grupos de 7 puedes hacer con ellos? ¿Cuántas sobran?




6) Hay 23 formas a continuación. ¿Cuántos grupos de 6 puedes hacer con ellos? ¿Cuántas sobran?



8) Hay 17 formas a continuación. ¿Cuántos grupos de 3 puedes hacer con ellos? ¿Cuántas sobran?



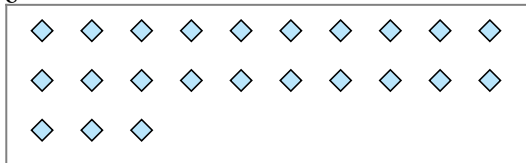
1) Hay 10 formas a continuación. ¿Cuántos grupos de 2 puedes hacer con ellos? ¿Cuántas sobran?



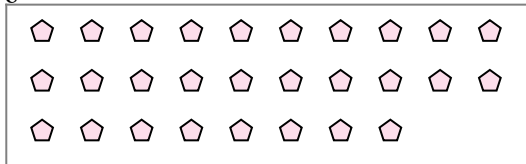
3) Hay 24 formas a continuación. ¿Cuántos grupos de 6 puedes hacer con ellos? ¿Cuántas sobran?



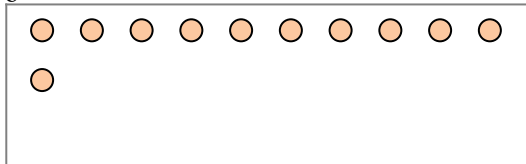
5) Hay 23 formas a continuación. ¿Cuántos grupos de 3 puedes hacer con ellos? ¿Cuántas sobran?



7) Hay 28 formas a continuación. ¿Cuántos grupos de 5 puedes hacer con ellos? ¿Cuántas sobran?



9) Hay 11 formas a continuación. ¿Cuántos grupos de 5 puedes hacer con ellos? ¿Cuántas sobran?



**Respuestas**

Ej. 2

Ej. 3

1a. 5

1b. 0

2a. 5

2b. 2

3a. 4

3b. 0

4a. 2

4b. 2

5a. 7

5b. 2

6a. 3

6b. 5

7a. 5

7b. 3

8a. 5

8b. 2

9a. 2

9b. 1