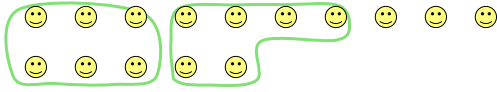




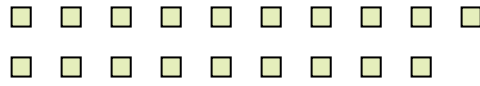
Usa los ejemplos a continuación para resolver las preguntas.

Respuestas

Ej) Hay 15 formas a continuación. ¿Cuántos grupos de 6 puedes hacer con ellos? ¿Cuántas sobran?




1) Hay 19 formas a continuación. ¿Cuántos grupos de 9 puedes hacer con ellos? ¿Cuántas sobran?



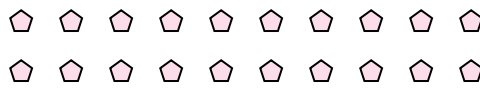
Ej. 2

Ej. 3

2) Hay 12 formas a continuación. ¿Cuántos grupos de 4 puedes hacer con ellos? ¿Cuántas sobran?



3) Hay 20 formas a continuación. ¿Cuántos grupos de 9 puedes hacer con ellos? ¿Cuántas sobran?



1. _____

1. _____

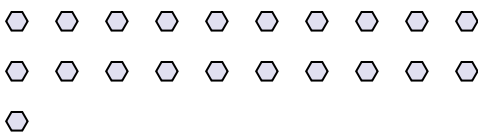
2. _____

2. _____

3. _____

3. _____

4) Hay 21 formas a continuación. ¿Cuántos grupos de 8 puedes hacer con ellos? ¿Cuántas sobran?



5) Hay 10 formas a continuación. ¿Cuántos grupos de 8 puedes hacer con ellos? ¿Cuántas sobran?



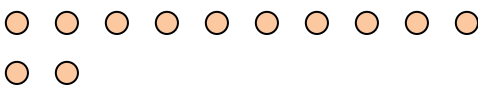
4. _____

4. _____

5. _____

5. _____

6) Hay 12 formas a continuación. ¿Cuántos grupos de 3 puedes hacer con ellos? ¿Cuántas sobran?



7) Hay 21 formas a continuación. ¿Cuántos grupos de 7 puedes hacer con ellos? ¿Cuántas sobran?



6. _____

6. _____

7. _____

7. _____

8) Hay 18 formas a continuación. ¿Cuántos grupos de 2 puedes hacer con ellos? ¿Cuántas sobran?



9) Hay 14 formas a continuación. ¿Cuántos grupos de 4 puedes hacer con ellos? ¿Cuántas sobran?



8. _____

8. _____

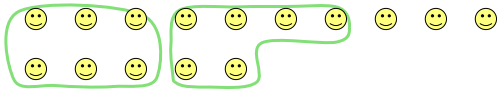
9. _____

9. _____

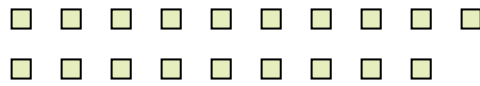


Usa los ejemplos a continuación para resolver las preguntas.


Ej) Hay 15 formas a continuación. ¿Cuántos grupos de 6 puedes hacer con ellos? ¿Cuántas sobran?



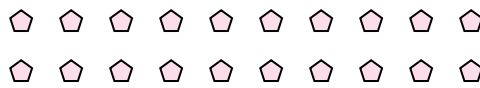
1) Hay 19 formas a continuación. ¿Cuántos grupos de 9 puedes hacer con ellos? ¿Cuántas sobran?



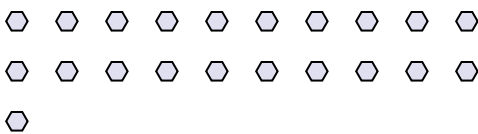
2) Hay 12 formas a continuación. ¿Cuántos grupos de 4 puedes hacer con ellos? ¿Cuántas sobran?



3) Hay 20 formas a continuación. ¿Cuántos grupos de 9 puedes hacer con ellos? ¿Cuántas sobran?



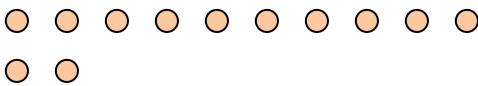
4) Hay 21 formas a continuación. ¿Cuántos grupos de 8 puedes hacer con ellos? ¿Cuántas sobran?



5) Hay 10 formas a continuación. ¿Cuántos grupos de 8 puedes hacer con ellos? ¿Cuántas sobran?



6) Hay 12 formas a continuación. ¿Cuántos grupos de 3 puedes hacer con ellos? ¿Cuántas sobran?



7) Hay 21 formas a continuación. ¿Cuántos grupos de 7 puedes hacer con ellos? ¿Cuántas sobran?



8) Hay 18 formas a continuación. ¿Cuántos grupos de 2 puedes hacer con ellos? ¿Cuántas sobran?



9) Hay 14 formas a continuación. ¿Cuántos grupos de 4 puedes hacer con ellos? ¿Cuántas sobran?



Respuestas

Ej. 2

Ej. 3

1. 2

1. 1

2. 3

2. 0

3. 2

3. 2

4. 2

4. 5

5. 1

5. 2

6. 4

6. 0

7. 3

7. 0

8. 9

8. 0

9. 3

9. 2