



Resuelve cada problema al fraccionar. El primer ejercicio ha sido resuelto como ejemplo.

Respuestas

1) $4 \div \frac{1}{3} = ?$ Esto es lo mismo que decir: ¿Cuántas $\frac{1}{3}$ hay en 4 enteros?

1 Ensembles	1 Ensembles	1 Ensembles	1 Ensembles

2) $2 \div \frac{1}{5} =$

1 Ensembles	1 Ensembles

3) $2 \div \frac{1}{2} =$

1 Ensembles	1 Ensembles

4) $3 \div \frac{1}{2} =$

1 Ensembles	1 Ensembles	1 Ensembles

5) $6 \div \frac{1}{2} =$

1 Ensembles	1 Ensembles	1 Ensembles	1 Ensembles	1 Ensembles	1 Ensembles

6) $2 \div \frac{1}{6} =$

1 Ensembles	1 Ensembles

7) $5 \div \frac{1}{2} =$

1 Ensembles	1 Ensembles	1 Ensembles	1 Ensembles	1 Ensembles

8) $2 \div \frac{1}{3} =$

1 Ensembles	1 Ensembles

9) $6 \div \frac{1}{6} =$

1 Ensembles	1 Ensembles	1 Ensembles	1 Ensembles	1 Ensembles	1 Ensembles

10) $4 \div \frac{1}{7} =$

1 Ensembles	1 Ensembles	1 Ensembles	1 Ensembles

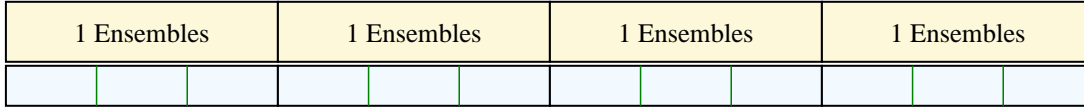
1. _____
2. _____
3. _____
4. _____
5. _____
6. _____
7. _____
8. _____
9. _____
10. _____



Resuelve cada problema al fraccionar. El primer ejercicio ha sido resuelto como ejemplo.

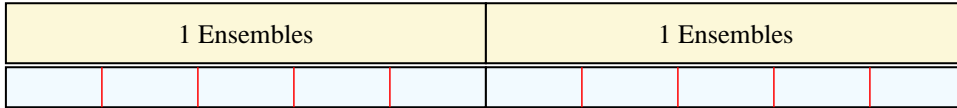
Respuestas

1) $4 \div \frac{1}{3} = ?$ Esto es lo mismo que decir: ¿Cuántas $\frac{1}{3}$ hay en 4 enteros?



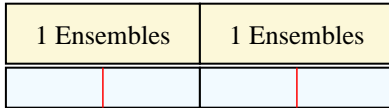
1. 12

2) $2 \div \frac{1}{5} =$ Esto es lo mismo que decir: ¿Cuántas $\frac{1}{5}$ hay en 2 enteros?



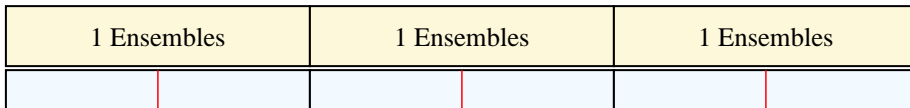
2. 10

3) $2 \div \frac{1}{2} =$ Esto es lo mismo que decir: ¿Cuántas $\frac{1}{2}$ hay en 2 enteros?



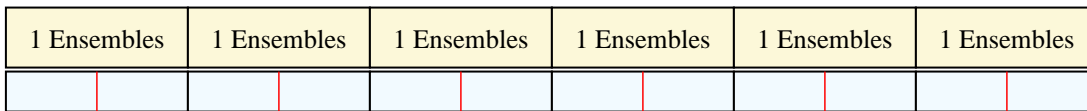
3. 4

4) $3 \div \frac{1}{2} =$ Esto es lo mismo que decir: ¿Cuántas $\frac{1}{2}$ hay en 3 enteros?




4. 6

5) $6 \div \frac{1}{2} =$ Esto es lo mismo que decir: ¿Cuántas $\frac{1}{2}$ hay en 6 enteros?



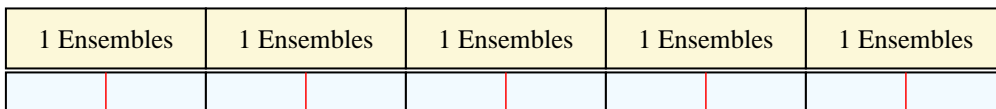
5. 12

6) $2 \div \frac{1}{6} =$ Esto es lo mismo que decir: ¿Cuántas $\frac{1}{6}$ hay en 2 enteros?



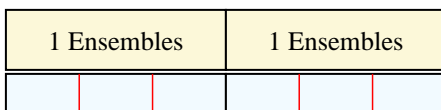
6. 12

7) $5 \div \frac{1}{2} =$ Esto es lo mismo que decir: ¿Cuántas $\frac{1}{2}$ hay en 5 enteros?



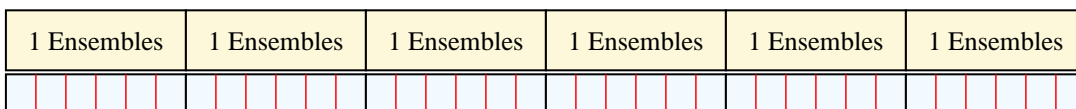
7. 10

8) $2 \div \frac{1}{3} =$ Esto es lo mismo que decir: ¿Cuántas $\frac{1}{3}$ hay en 2 enteros?



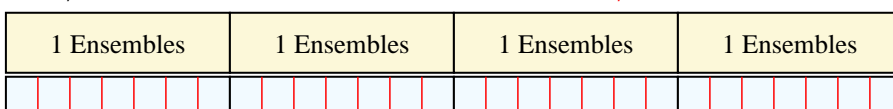
8. 6

9) $6 \div \frac{1}{6} =$ Esto es lo mismo que decir: ¿Cuántas $\frac{1}{6}$ hay en 6 enteros?



9. 36

10) $4 \div \frac{1}{7} =$ Esto es lo mismo que decir: ¿Cuántas $\frac{1}{7}$ hay en 4 enteros?



10. 28