



Resuelve cada problema al fraccionar. El primer ejercicio ha sido resuelto como ejemplo.

Respuestas

1) $4 \div \frac{1}{7} = ?$ Esto es lo mismo que decir: ¿Cuántas $\frac{1}{7}$ hay en 4 enteros?

1 Ensembles	1 Ensembles	1 Ensembles	1 Ensembles

1. _____

2) $4 \div \frac{1}{2} =$

1 Ensembles	1 Ensembles	1 Ensembles	1 Ensembles

2. _____

3) $2 \div \frac{1}{4} =$

1 Ensembles	1 Ensembles

3. _____

4) $2 \div \frac{1}{3} =$

1 Ensembles	1 Ensembles

4. _____

5) $4 \div \frac{1}{6} =$

1 Ensembles	1 Ensembles	1 Ensembles	1 Ensembles

5. _____

6) $6 \div \frac{1}{5} =$

1 Ensembles	1 Ensembles	1 Ensembles	1 Ensembles	1 Ensembles	1 Ensembles

6. _____

7) $3 \div \frac{1}{7} =$

1 Ensembles	1 Ensembles	1 Ensembles

7. _____

8) $5 \div \frac{1}{2} =$

1 Ensembles	1 Ensembles	1 Ensembles	1 Ensembles	1 Ensembles

8. _____

9) $5 \div \frac{1}{7} =$

1 Ensembles	1 Ensembles	1 Ensembles	1 Ensembles	1 Ensembles

9. _____

10) $2 \div \frac{1}{5} =$

1 Ensembles	1 Ensembles

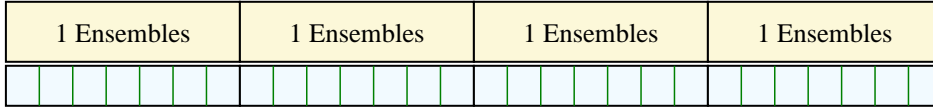
10. _____



Resuelve cada problema al fraccionar. El primer ejercicio ha sido resuelto como ejemplo.

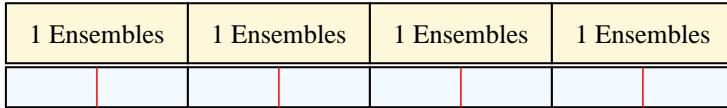
Respuestas

1) $4 \div \frac{1}{7} = ?$ Esto es lo mismo que decir: ¿Cuántas $\frac{1}{7}$ hay en 4 enteros?



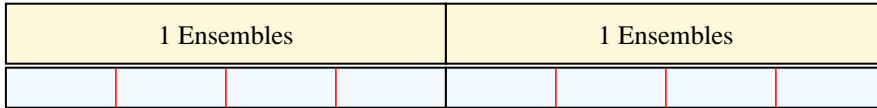
1. 28

2) $4 \div \frac{1}{2} =$ Esto es lo mismo que decir: ¿Cuántas $\frac{1}{2}$ hay en 4 enteros?




2. 8

3) $2 \div \frac{1}{4} =$ Esto es lo mismo que decir: ¿Cuántas $\frac{1}{4}$ hay en 2 enteros?



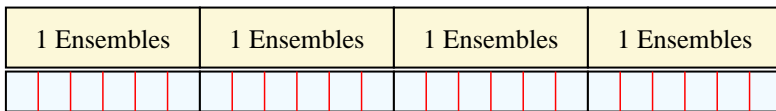
3. 8

4) $2 \div \frac{1}{3} =$ Esto es lo mismo que decir: ¿Cuántas $\frac{1}{3}$ hay en 2 enteros?



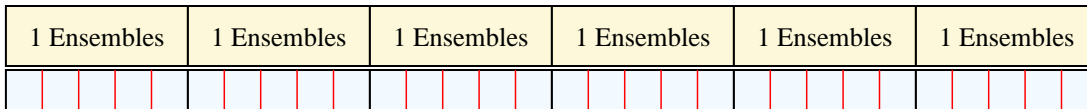
4. 6

5) $4 \div \frac{1}{6} =$ Esto es lo mismo que decir: ¿Cuántas $\frac{1}{6}$ hay en 4 enteros?



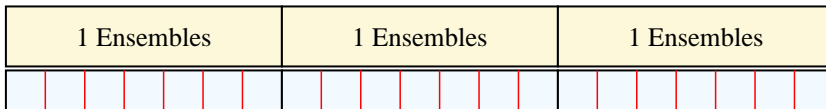
5. 24

6) $6 \div \frac{1}{5} =$ Esto es lo mismo que decir: ¿Cuántas $\frac{1}{5}$ hay en 6 enteros?



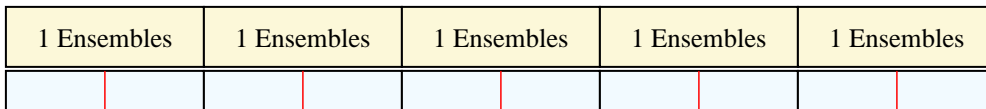
6. 30

7) $3 \div \frac{1}{7} =$ Esto es lo mismo que decir: ¿Cuántas $\frac{1}{7}$ hay en 3 enteros?



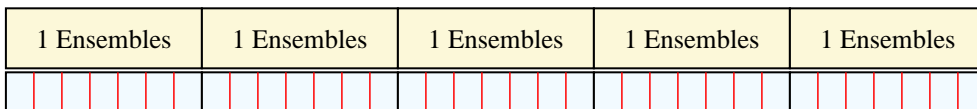
7. 21

8) $5 \div \frac{1}{2} =$ Esto es lo mismo que decir: ¿Cuántas $\frac{1}{2}$ hay en 5 enteros?




8. 10

9) $5 \div \frac{1}{7} =$ Esto es lo mismo que decir: ¿Cuántas $\frac{1}{7}$ hay en 5 enteros?



9. 35

10) $2 \div \frac{1}{5} =$ Esto es lo mismo que decir: ¿Cuántas $\frac{1}{5}$ hay en 2 enteros?



10. 10