



Resuelve cada problema al fraccionar. El primer ejercicio ha sido resuelto como ejemplo.

**Respuestas**

1)  $3 \div \frac{1}{4} = ?$  Esto es lo mismo que decir: ¿Cuántas  $\frac{1}{4}$  hay en 3 enteros?

1 Ensembles				1 Ensembles				1 Ensembles			

2)  $4 \div \frac{1}{2} =$

1 Ensembles		1 Ensembles		1 Ensembles		1 Ensembles	

3)  $4 \div \frac{1}{3} =$

1 Ensembles		1 Ensembles		1 Ensembles		1 Ensembles	

4)  $2 \div \frac{1}{6} =$

1 Ensembles			1 Ensembles		

5)  $3 \div \frac{1}{7} =$

1 Ensembles			1 Ensembles			1 Ensembles		

6)  $6 \div \frac{1}{6} =$

1 Ensembles	1 Ensembles	1 Ensembles	1 Ensembles	1 Ensembles	1 Ensembles

7)  $3 \div \frac{1}{5} =$

1 Ensembles		1 Ensembles		1 Ensembles	

8)  $5 \div \frac{1}{2} =$

1 Ensembles	1 Ensembles	1 Ensembles	1 Ensembles	1 Ensembles

9)  $3 \div \frac{1}{6} =$

1 Ensembles	1 Ensembles	1 Ensembles

10)  $5 \div \frac{1}{6} =$

1 Ensembles	1 Ensembles	1 Ensembles	1 Ensembles	1 Ensembles

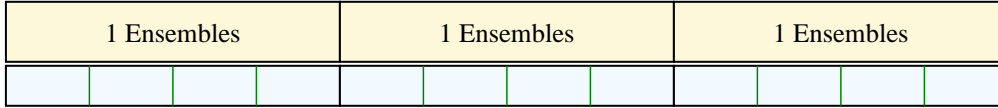
1. \_\_\_\_\_
2. \_\_\_\_\_
3. \_\_\_\_\_
4. \_\_\_\_\_
5. \_\_\_\_\_
6. \_\_\_\_\_
7. \_\_\_\_\_
8. \_\_\_\_\_
9. \_\_\_\_\_
10. \_\_\_\_\_



Resuelve cada problema al fraccionar. El primer ejercicio ha sido resuelto como ejemplo.

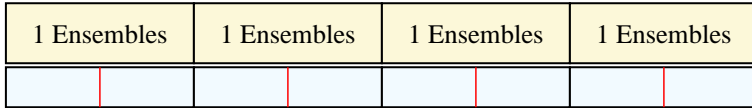
**Respuestas**

1)  $3 \div \frac{1}{4} = ?$  Esto es lo mismo que decir: ¿Cuántas  $\frac{1}{4}$  hay en 3 enteros?



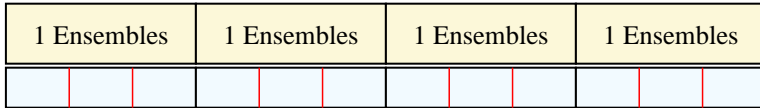
1. 12

2)  $4 \div \frac{1}{2} =$  Esto es lo mismo que decir: ¿Cuántas  $\frac{1}{2}$  hay en 4 enteros?




2. 8

3)  $4 \div \frac{1}{3} =$  Esto es lo mismo que decir: ¿Cuántas  $\frac{1}{3}$  hay en 4 enteros?



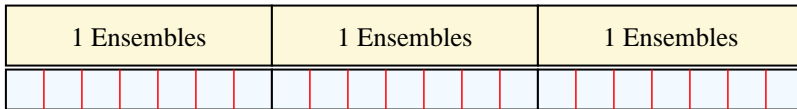
3. 12

4)  $2 \div \frac{1}{6} =$  Esto es lo mismo que decir: ¿Cuántas  $\frac{1}{6}$  hay en 2 enteros?



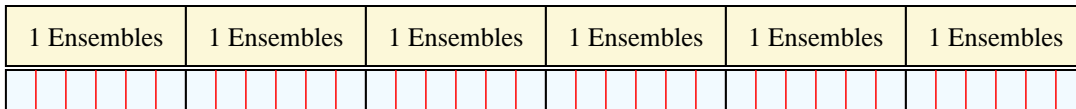
4. 12

5)  $3 \div \frac{1}{7} =$  Esto es lo mismo que decir: ¿Cuántas  $\frac{1}{7}$  hay en 3 enteros?



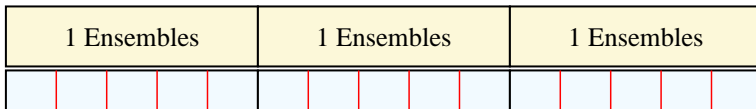
5. 21

6)  $6 \div \frac{1}{6} =$  Esto es lo mismo que decir: ¿Cuántas  $\frac{1}{6}$  hay en 6 enteros?



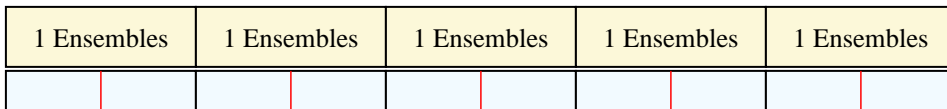
6. 36

7)  $3 \div \frac{1}{5} =$  Esto es lo mismo que decir: ¿Cuántas  $\frac{1}{5}$  hay en 3 enteros?



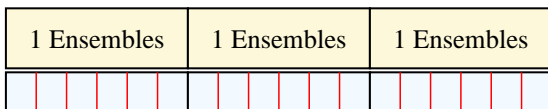
7. 15

8)  $5 \div \frac{1}{2} =$  Esto es lo mismo que decir: ¿Cuántas  $\frac{1}{2}$  hay en 5 enteros?




8. 10

9)  $3 \div \frac{1}{6} =$  Esto es lo mismo que decir: ¿Cuántas  $\frac{1}{6}$  hay en 3 enteros?



9. 18

10)  $5 \div \frac{1}{6} =$  Esto es lo mismo que decir: ¿Cuántas  $\frac{1}{6}$  hay en 5 enteros?



10. 30