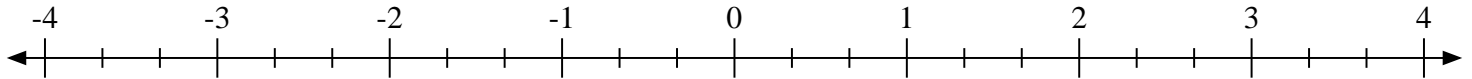


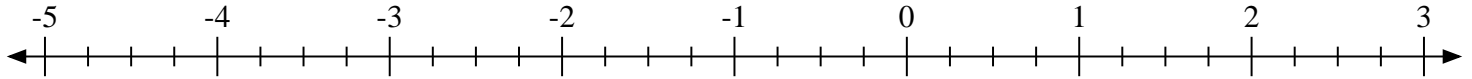


Marca cada ubicación descrita. Negativo

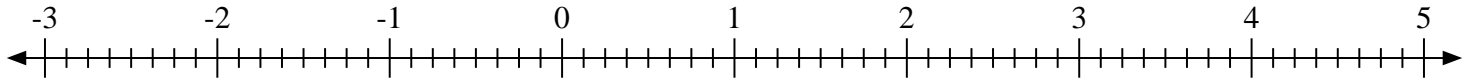
1) Marque la ubicación de $-3\frac{2}{3}$



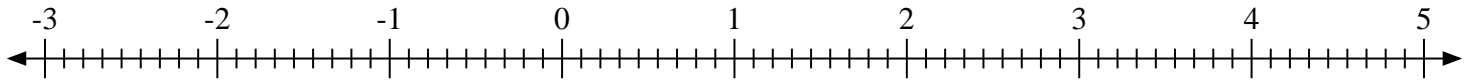
2) Marque la ubicación de $-4\frac{1}{4}$



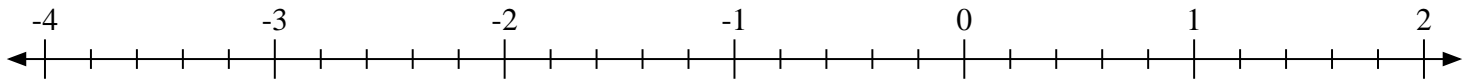
3) Marque la ubicación de $2\frac{5}{8}$



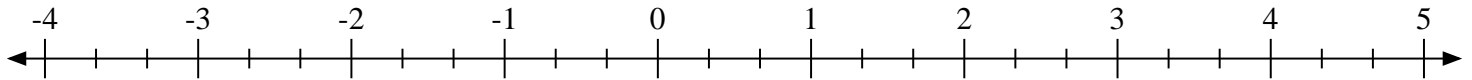
4) Marque la ubicación de $0\frac{2}{9}$



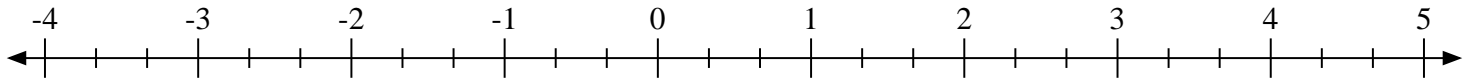
5) Marque la ubicación de $-1\frac{3}{5}$



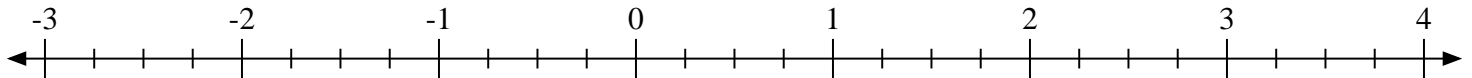
6) Marque la ubicación de $1\frac{2}{3}$



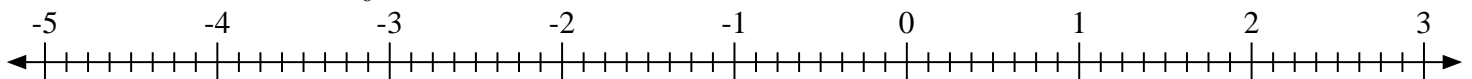
7) Marque la ubicación de $-1\frac{1}{3}$



8) Marque la ubicación de $1\frac{3}{4}$

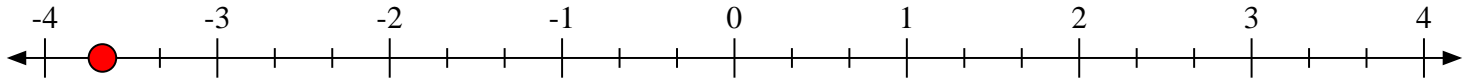
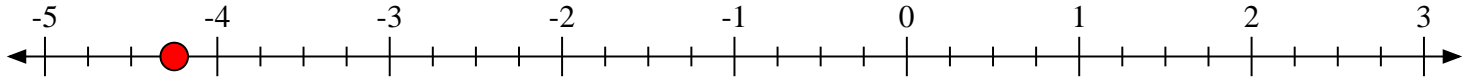
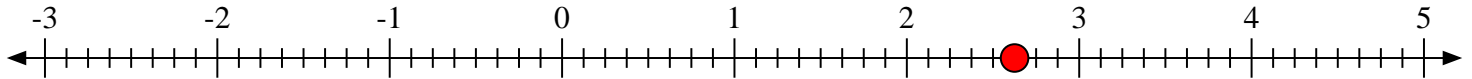
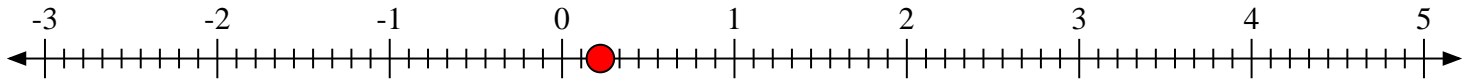
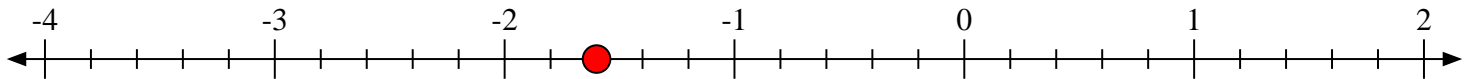
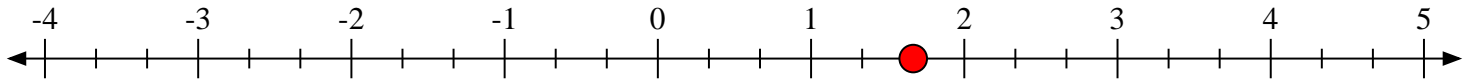
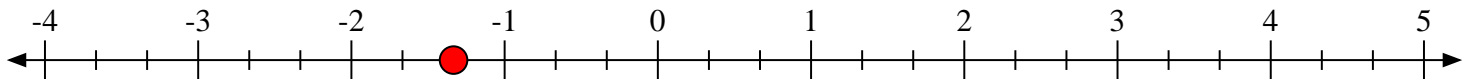
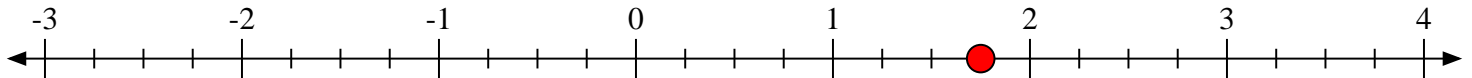


9) Marque la ubicación de $-3\frac{5}{8}$





Marca cada ubicación descrita. Negativo

1) Marque la ubicación de $-3\frac{2}{3}$ 2) Marque la ubicación de $-4\frac{1}{4}$ 3) Marque la ubicación de $2\frac{5}{8}$ 4) Marque la ubicación de $0\frac{2}{9}$ 5) Marque la ubicación de $-1\frac{3}{5}$ 6) Marque la ubicación de $1\frac{2}{3}$ 7) Marque la ubicación de $-1\frac{1}{3}$ 8) Marque la ubicación de $1\frac{3}{4}$ 9) Marque la ubicación de $-3\frac{5}{8}$ 