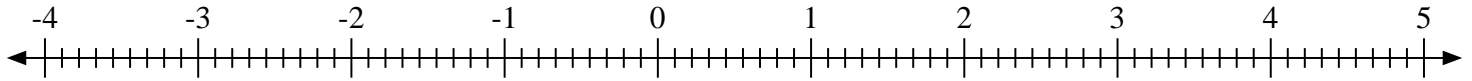


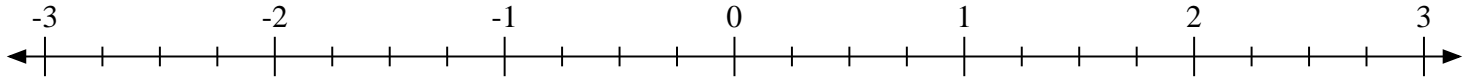


Marca cada ubicación descrita. Negativo

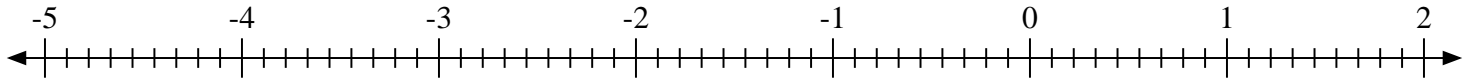
1) Marque la ubicación de $3\frac{5}{9}$



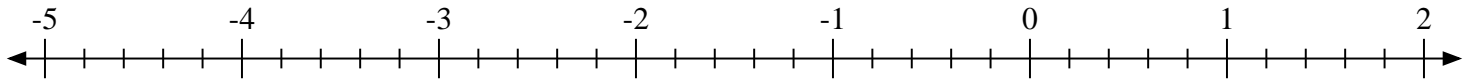
2) Marque la ubicación de $0\frac{3}{4}$



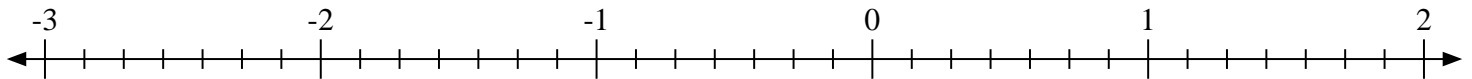
3) Marque la ubicación de $-2\frac{5}{9}$



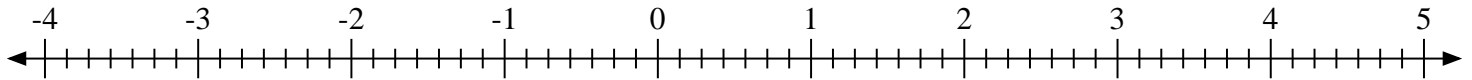
4) Marque la ubicación de $-1\frac{1}{5}$



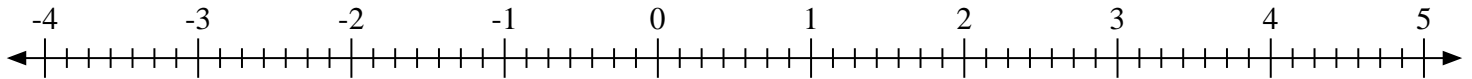
5) Marque la ubicación de $-2\frac{6}{7}$



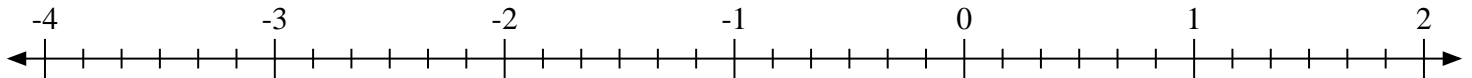
6) Marque la ubicación de $1\frac{6}{7}$



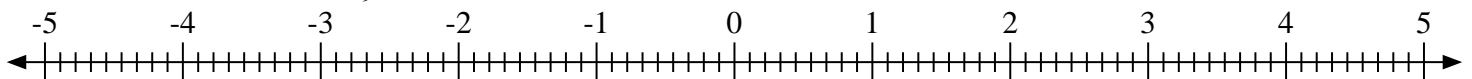
7) Marque la ubicación de $-2\frac{5}{7}$



8) Marque la ubicación de $1\frac{3}{6}$

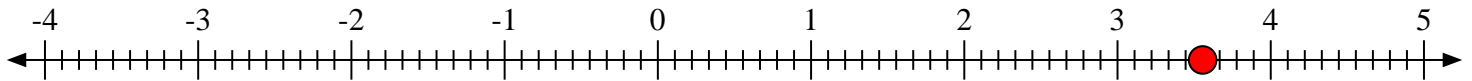
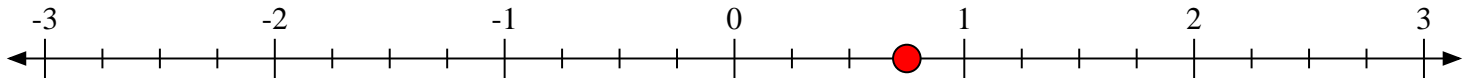
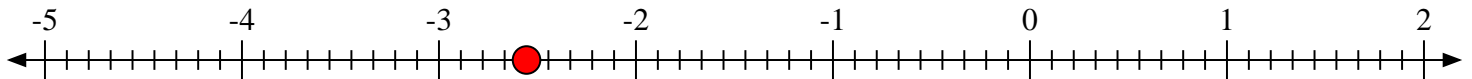
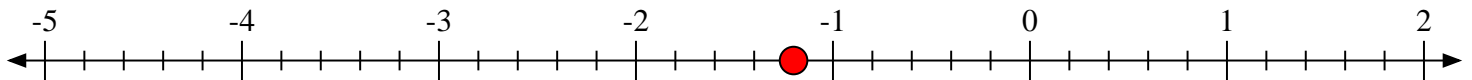
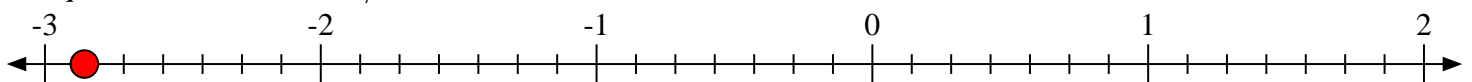
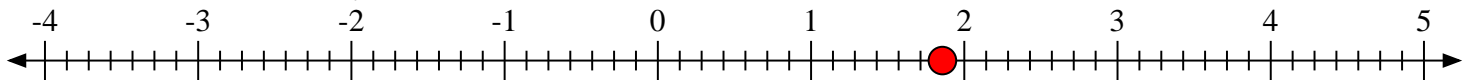
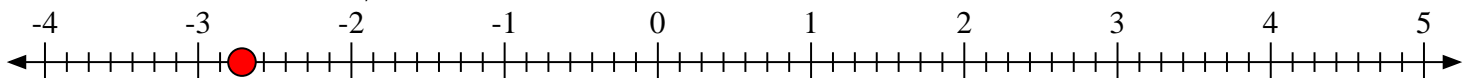
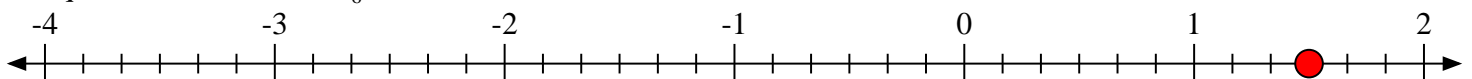


9) Marque la ubicación de $-1\frac{3}{9}$





Marca cada ubicación descrita. Negativo

1) Marque la ubicación de $3\frac{5}{9}$ 2) Marque la ubicación de $0\frac{3}{4}$ 3) Marque la ubicación de $-2\frac{5}{9}$ 4) Marque la ubicación de $-1\frac{1}{5}$ 5) Marque la ubicación de $-2\frac{6}{7}$ 6) Marque la ubicación de $1\frac{6}{7}$ 7) Marque la ubicación de $-2\frac{5}{7}$ 8) Marque la ubicación de $1\frac{3}{6}$ 9) Marque la ubicación de $-1\frac{3}{9}$ 