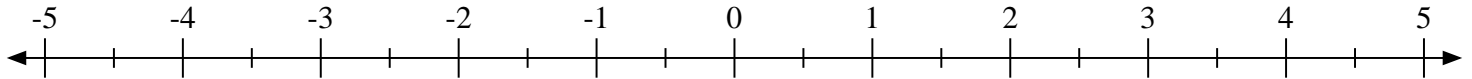


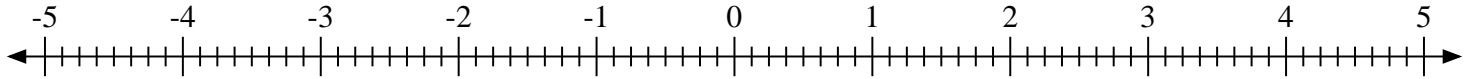


Marca cada ubicación descrita. Negativo

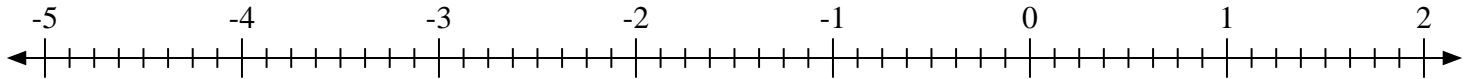
1) Marque la ubicación de  $4\frac{1}{2}$



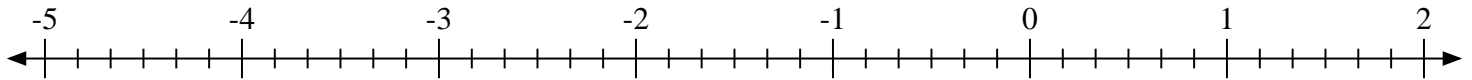
2) Marque la ubicación de  $-4\frac{1}{8}$



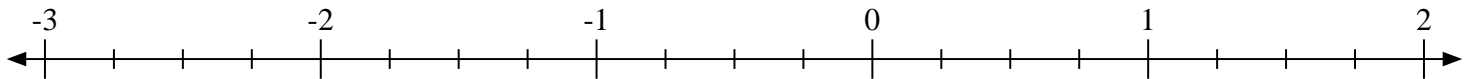
3) Marque la ubicación de  $1\frac{2}{8}$



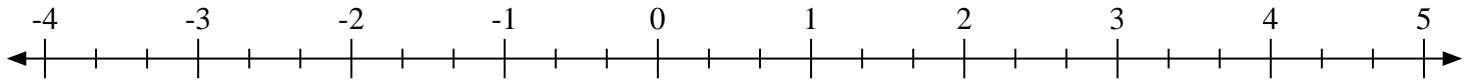
4) Marque la ubicación de  $1\frac{4}{6}$



5) Marque la ubicación de  $-1\frac{3}{4}$



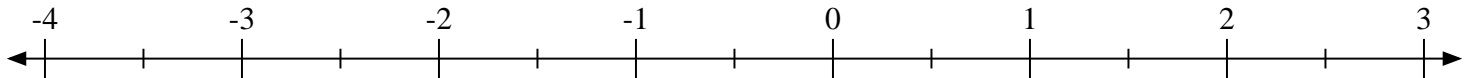
6) Marque la ubicación de  $-2\frac{2}{3}$




7) Marque la ubicación de  $-1\frac{2}{3}$



8) Marque la ubicación de  $-2\frac{1}{2}$

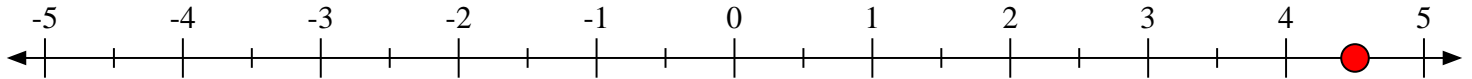
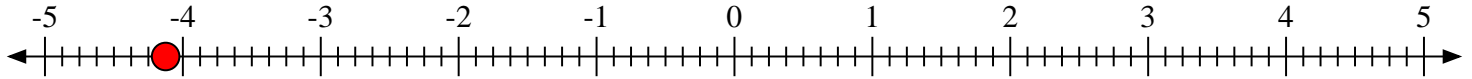
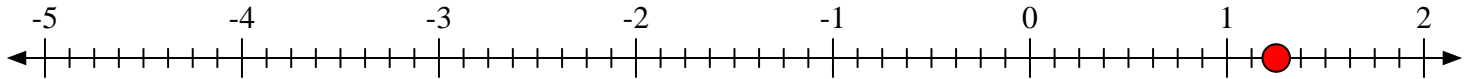
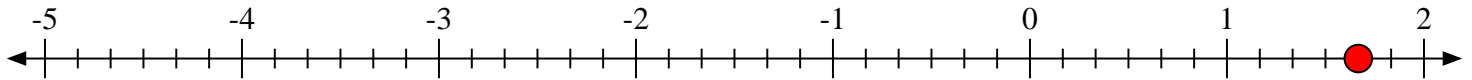
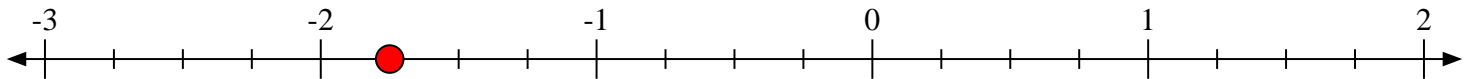
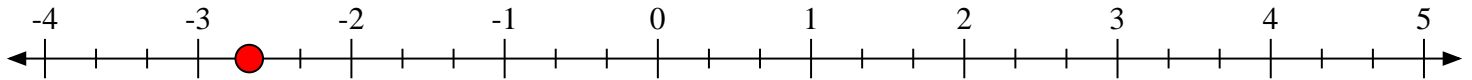
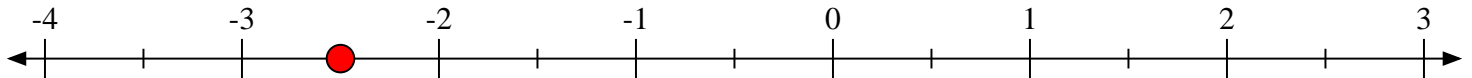


9) Marque la ubicación de  $-2\frac{1}{3}$





Marca cada ubicación descrita. Negativo

1) Marque la ubicación de  $4\frac{1}{2}$ 2) Marque la ubicación de  $-4\frac{1}{8}$ 3) Marque la ubicación de  $1\frac{2}{8}$ 4) Marque la ubicación de  $1\frac{4}{6}$ 5) Marque la ubicación de  $-1\frac{3}{4}$ 6) Marque la ubicación de  $-2\frac{2}{3}$ 7) Marque la ubicación de  $-1\frac{2}{3}$ 8) Marque la ubicación de  $-2\frac{1}{2}$ 9) Marque la ubicación de  $-2\frac{1}{3}$ 