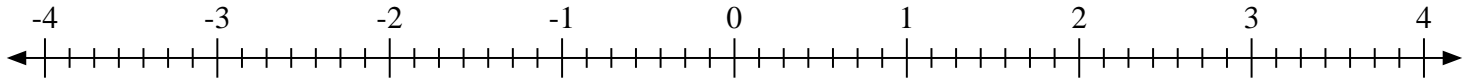


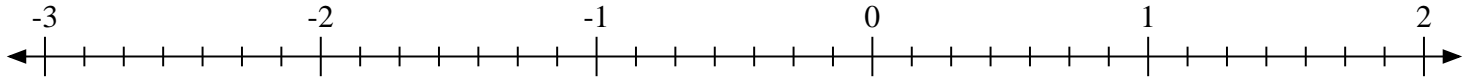


Marca cada ubicación descrita. Negativo

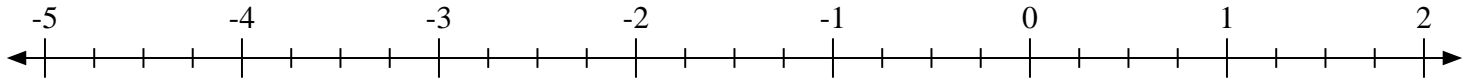
1) Marque la ubicación de $1\frac{5}{7}$



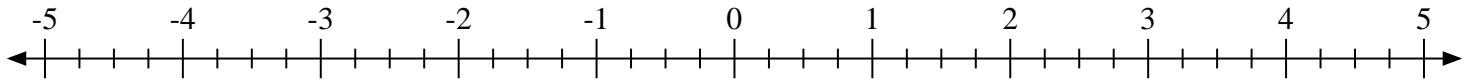
2) Marque la ubicación de $0\frac{5}{7}$



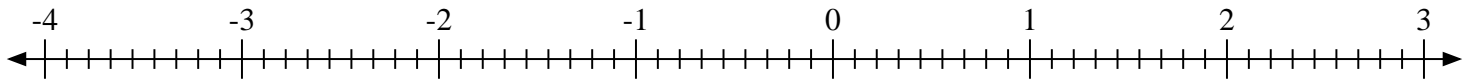
3) Marque la ubicación de $-3\frac{2}{4}$



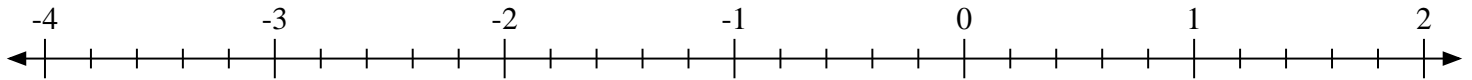
4) Marque la ubicación de $1\frac{2}{4}$



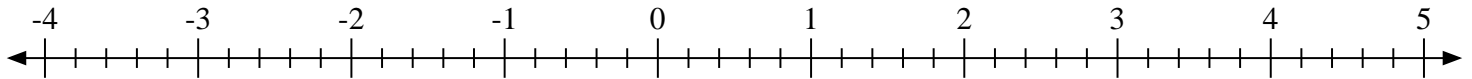
5) Marque la ubicación de $-1\frac{2}{9}$



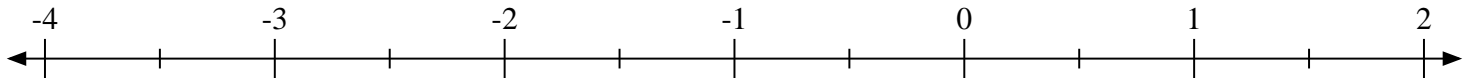
6) Marque la ubicación de $-2\frac{3}{5}$



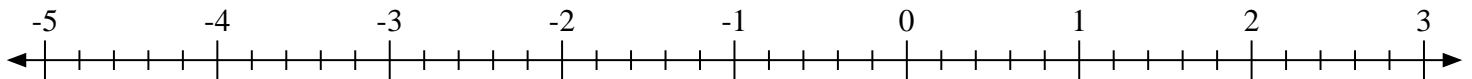
7) Marque la ubicación de $0\frac{3}{5}$



8) Marque la ubicación de $-2\frac{1}{2}$

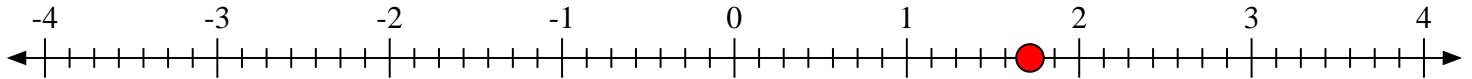
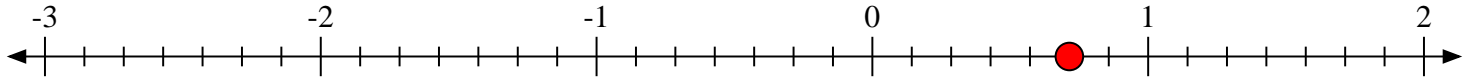
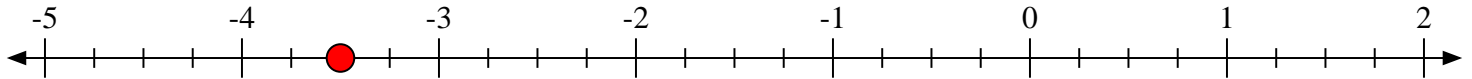
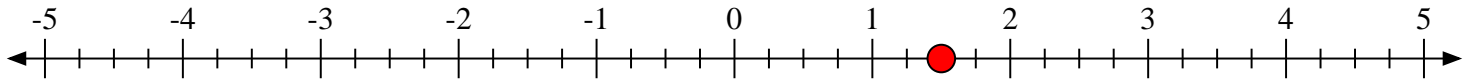
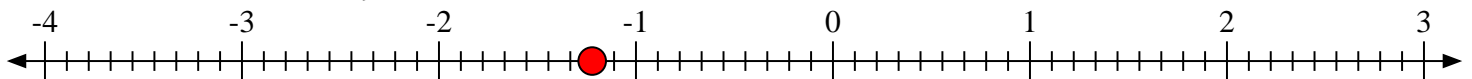
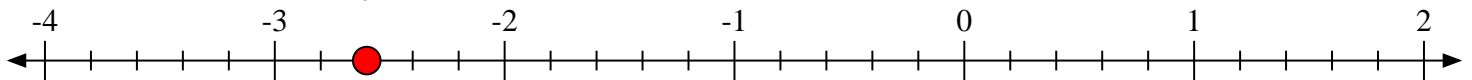
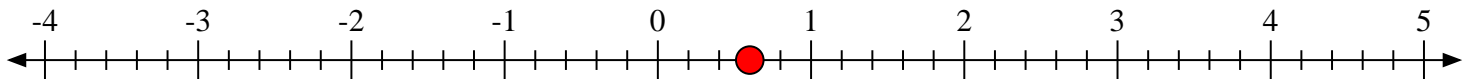
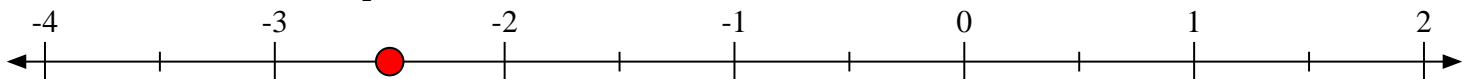


9) Marque la ubicación de $2\frac{1}{5}$





Marca cada ubicación descrita. Negativo

1) Marque la ubicación de $1\frac{5}{7}$ 2) Marque la ubicación de $0\frac{5}{7}$ 3) Marque la ubicación de $-3\frac{2}{4}$ 4) Marque la ubicación de $1\frac{2}{4}$ 5) Marque la ubicación de $-1\frac{2}{9}$ 6) Marque la ubicación de $-2\frac{3}{5}$ 7) Marque la ubicación de $0\frac{3}{5}$ 8) Marque la ubicación de $-2\frac{1}{2}$ 9) Marque la ubicación de $2\frac{1}{5}$ 