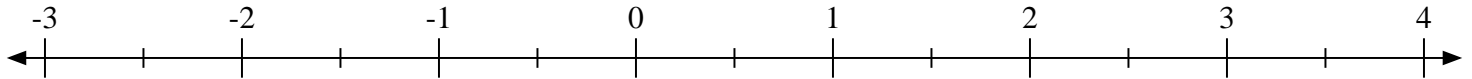


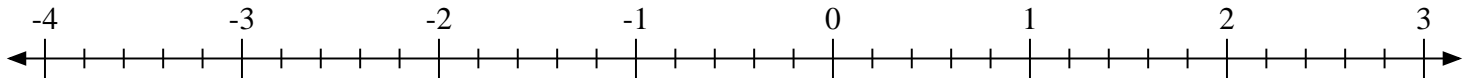


Marca cada ubicación descrita. Negativo

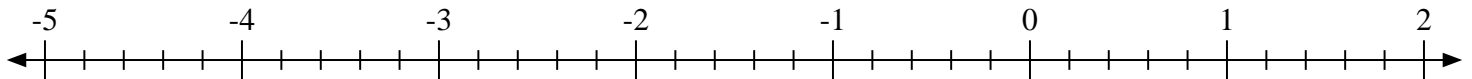
1) Marque la ubicación de $-2\frac{1}{2}$



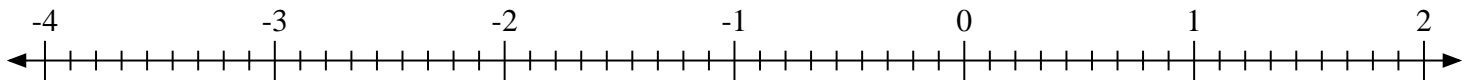
2) Marque la ubicación de $-1\frac{2}{5}$



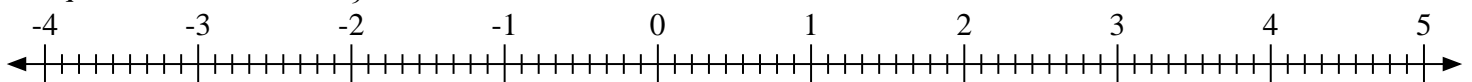
3) Marque la ubicación de $-4\frac{2}{5}$



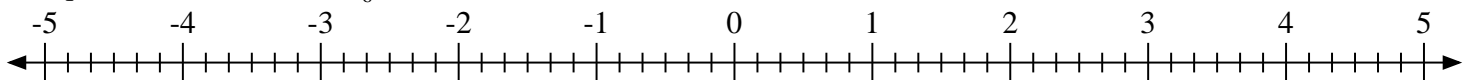
4) Marque la ubicación de $-2\frac{8}{9}$



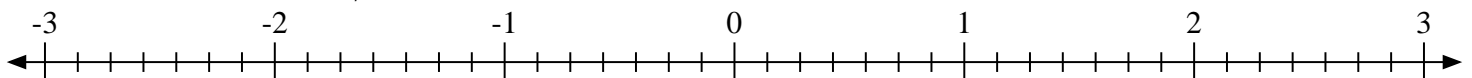
5) Marque la ubicación de $4\frac{5}{9}$



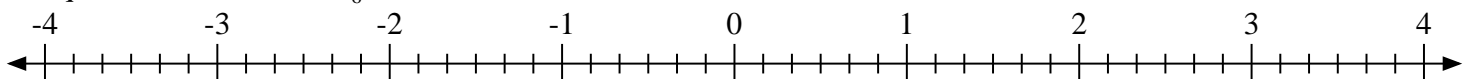
6) Marque la ubicación de $-1\frac{5}{6}$



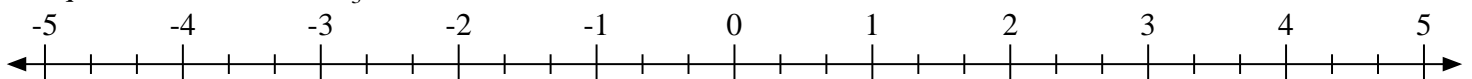
7) Marque la ubicación de $2\frac{4}{7}$



8) Marque la ubicación de $2\frac{3}{6}$

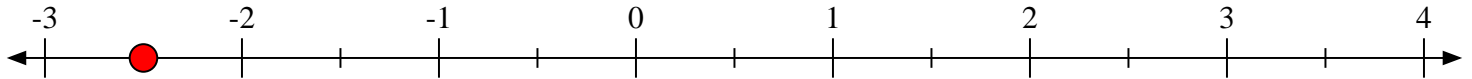
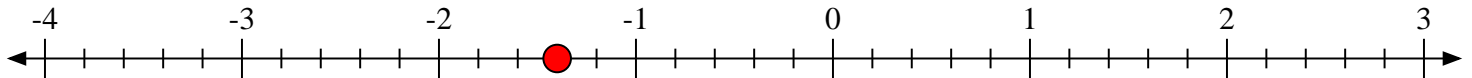
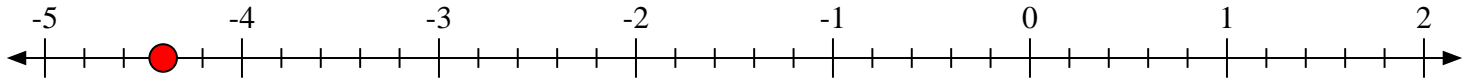
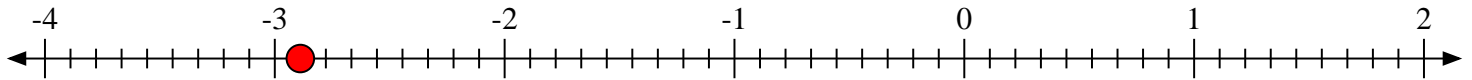
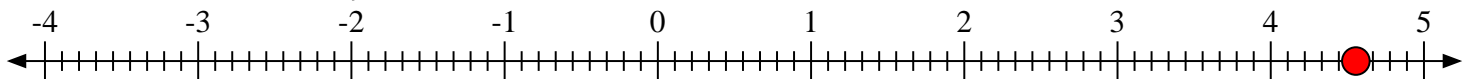
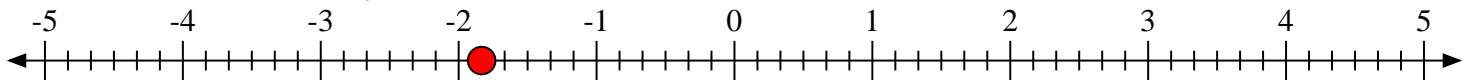
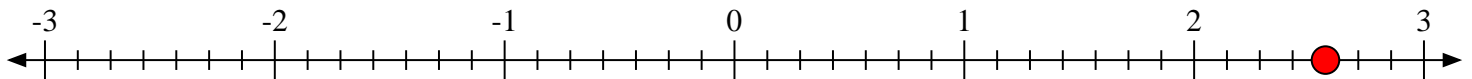
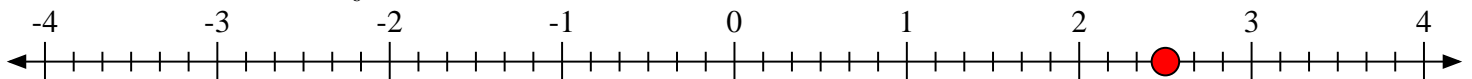


9) Marque la ubicación de $0\frac{1}{3}$





Marca cada ubicación descrita. Negativo

1) Marque la ubicación de $-2\frac{1}{2}$ 2) Marque la ubicación de $-1\frac{2}{5}$ 3) Marque la ubicación de $-4\frac{2}{5}$ 4) Marque la ubicación de $-2\frac{8}{9}$ 5) Marque la ubicación de $4\frac{5}{9}$ 6) Marque la ubicación de $-1\frac{5}{6}$ 7) Marque la ubicación de $2\frac{4}{7}$ 8) Marque la ubicación de $2\frac{3}{6}$ 9) Marque la ubicación de $0\frac{1}{3}$ 