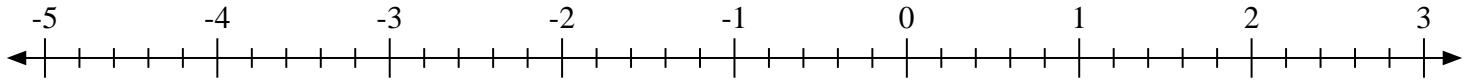


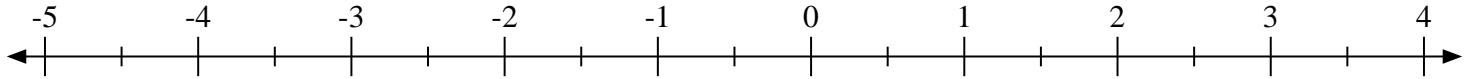


Marca cada ubicación descrita. Negativo

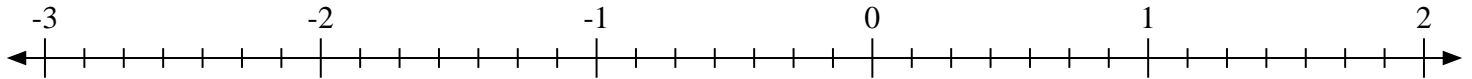
1) Marque la ubicación de $-3\frac{2}{5}$



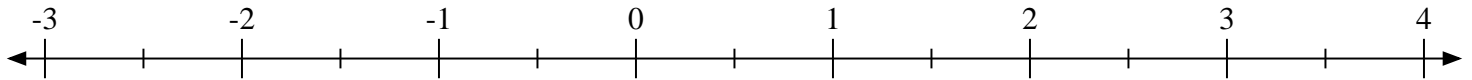
2) Marque la ubicación de $-3\frac{1}{2}$



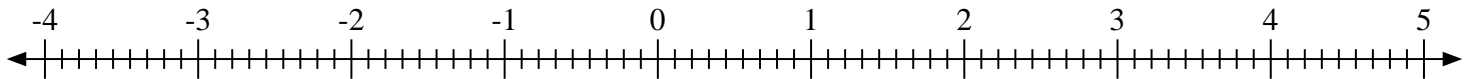
3) Marque la ubicación de $-2\frac{3}{7}$



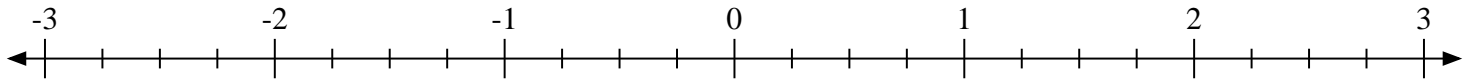
4) Marque la ubicación de $3\frac{1}{2}$



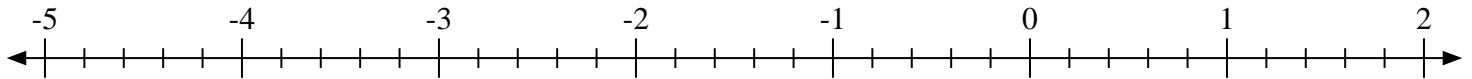
5) Marque la ubicación de $-2\frac{6}{9}$



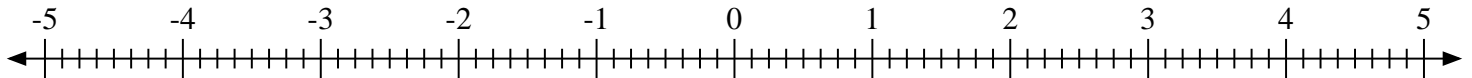
6) Marque la ubicación de $1\frac{2}{4}$



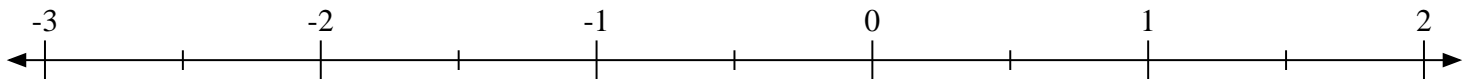
7) Marque la ubicación de $-3\frac{4}{5}$



8) Marque la ubicación de $-4\frac{2}{8}$

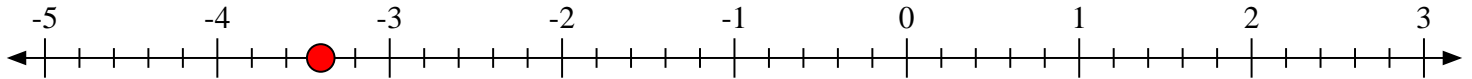
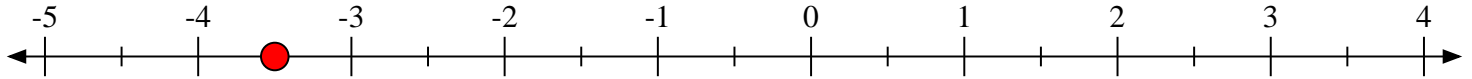
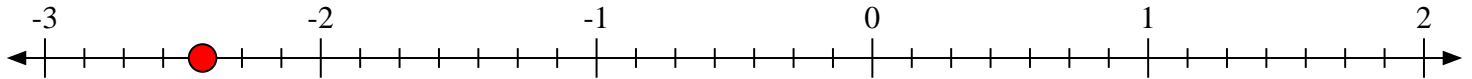
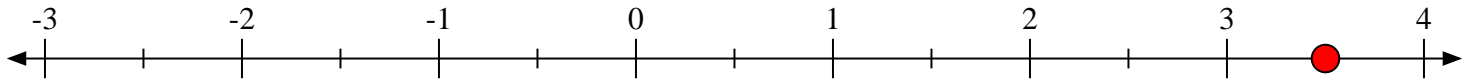
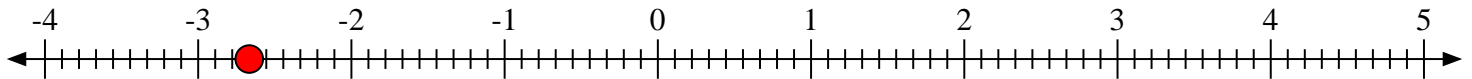
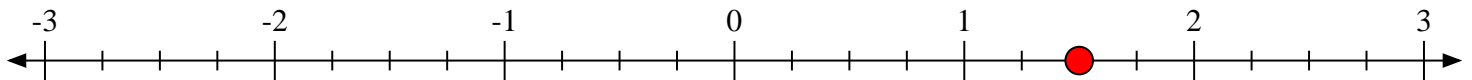
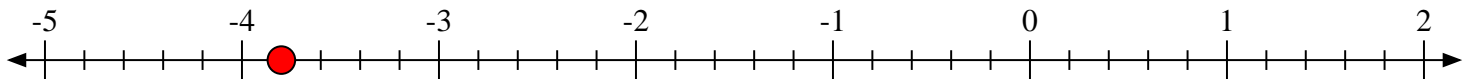
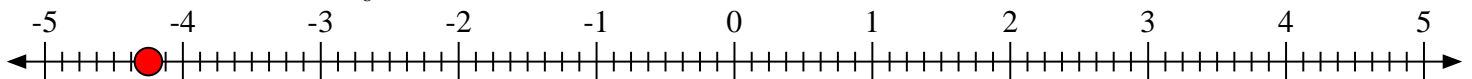


9) Marque la ubicación de $-2\frac{1}{2}$





Marca cada ubicación descrita. Negativo

1) Marque la ubicación de $-3\frac{2}{5}$ 2) Marque la ubicación de $-3\frac{1}{2}$ 3) Marque la ubicación de $-2\frac{3}{7}$ 4) Marque la ubicación de $3\frac{1}{2}$ 5) Marque la ubicación de $-2\frac{6}{9}$ 6) Marque la ubicación de $1\frac{2}{4}$ 7) Marque la ubicación de $-3\frac{4}{5}$ 8) Marque la ubicación de $-4\frac{2}{8}$ 9) Marque la ubicación de $-2\frac{1}{2}$ 