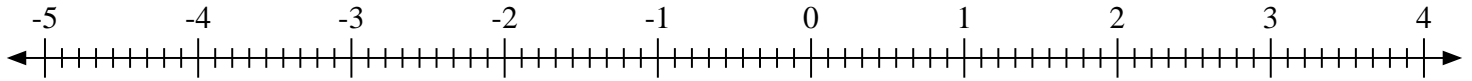


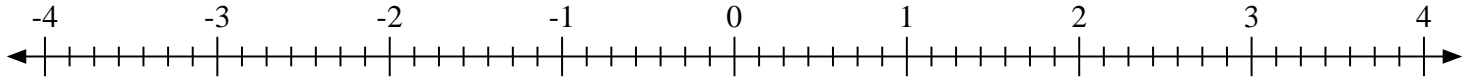


Marca cada ubicación descrita. Negativo

1) Marque la ubicación de $0 \frac{8}{9}$



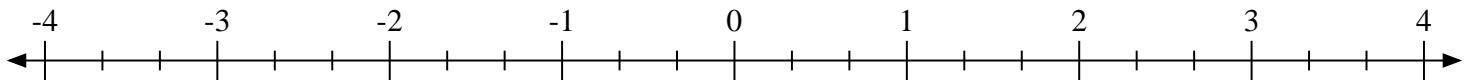
2) Marque la ubicación de $2 \frac{1}{7}$



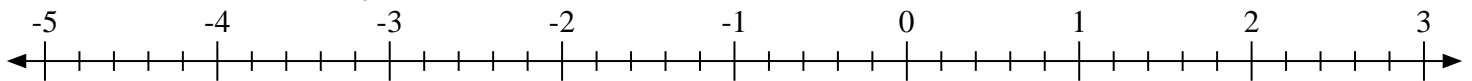
3) Marque la ubicación de $0 \frac{1}{2}$



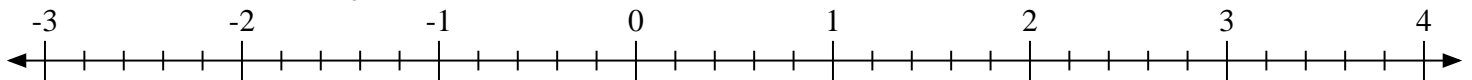
4) Marque la ubicación de $0 \frac{2}{3}$



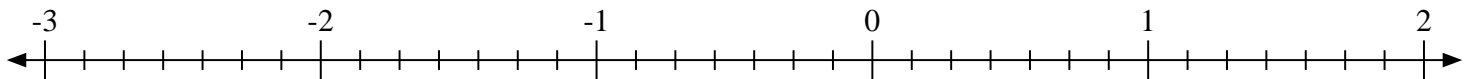
5) Marque la ubicación de $-3 \frac{2}{5}$



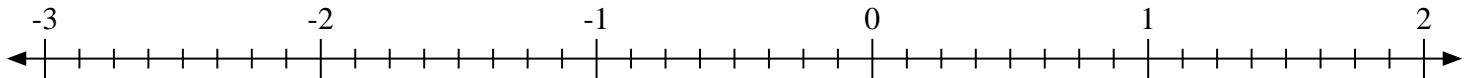
6) Marque la ubicación de $3 \frac{4}{5}$



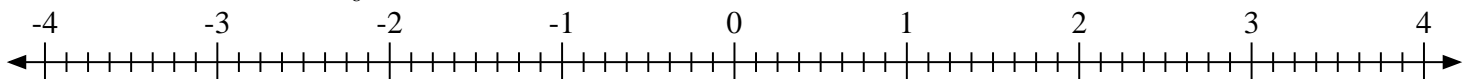
7) Marque la ubicación de $0 \frac{3}{7}$



8) Marque la ubicación de $-2 \frac{1}{8}$

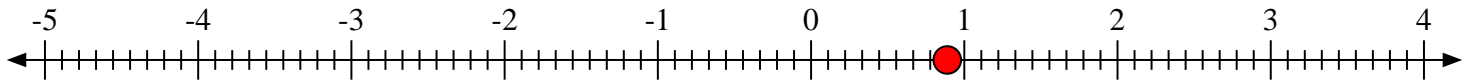
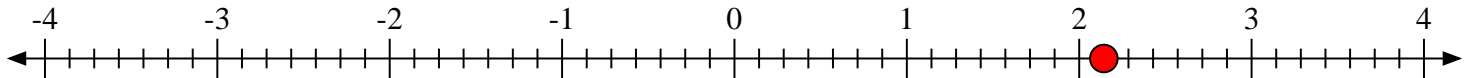
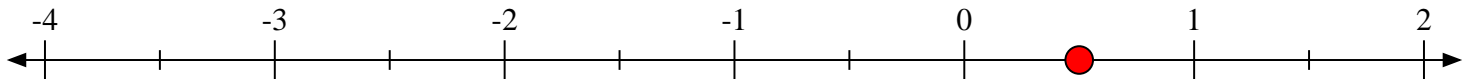
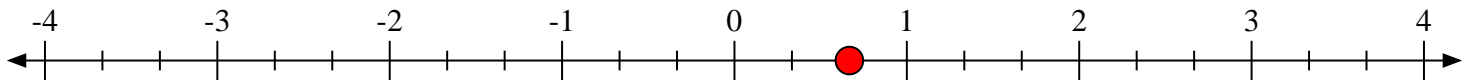
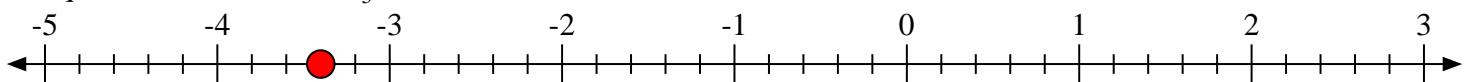
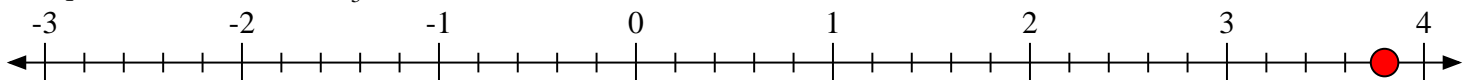
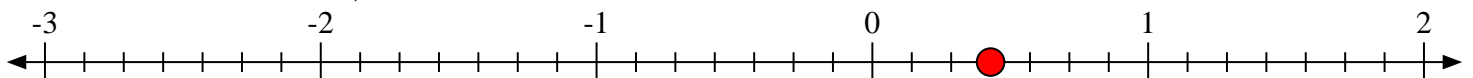
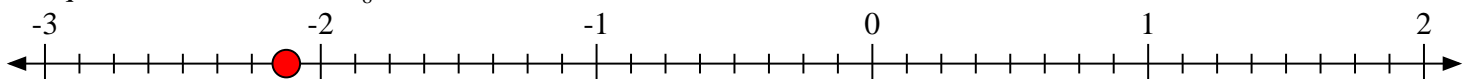


9) Marque la ubicación de $1 \frac{6}{8}$





Marca cada ubicación descrita. Negativo

1) Marque la ubicación de $0 \frac{8}{9}$ 2) Marque la ubicación de $2 \frac{1}{7}$ 3) Marque la ubicación de $0 \frac{1}{2}$ 4) Marque la ubicación de $0 \frac{2}{3}$ 5) Marque la ubicación de $-3 \frac{2}{5}$ 6) Marque la ubicación de $3 \frac{4}{5}$ 7) Marque la ubicación de $0 \frac{3}{7}$ 8) Marque la ubicación de $-2 \frac{1}{8}$ 9) Marque la ubicación de $1 \frac{6}{8}$ 