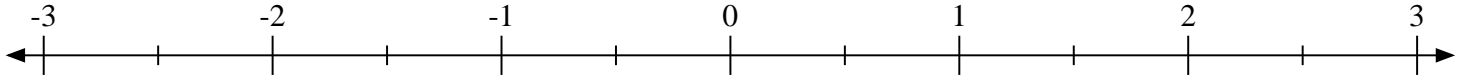
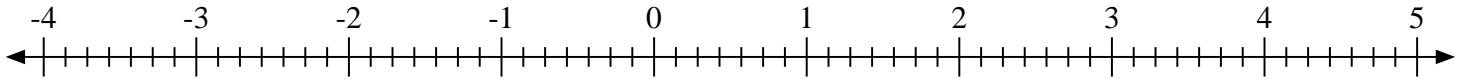
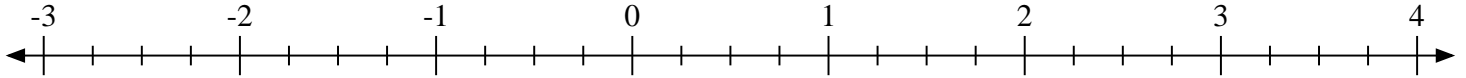
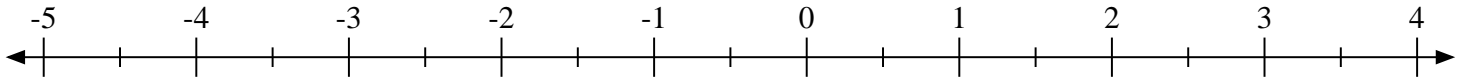
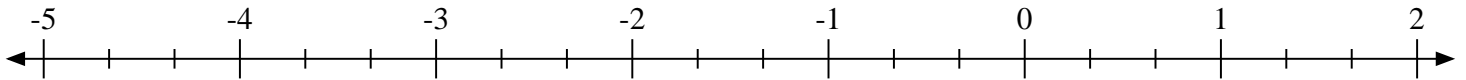
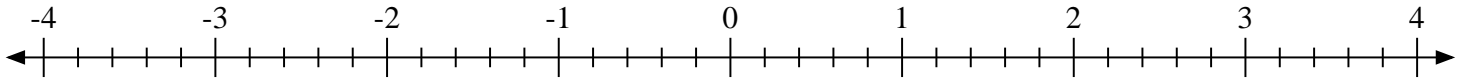
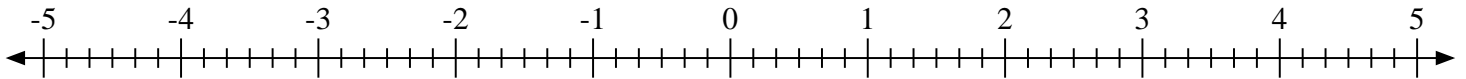
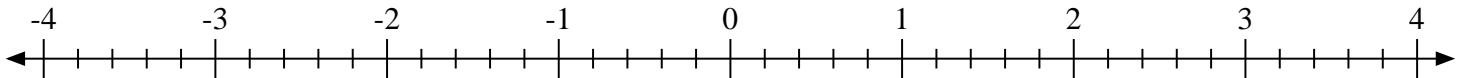
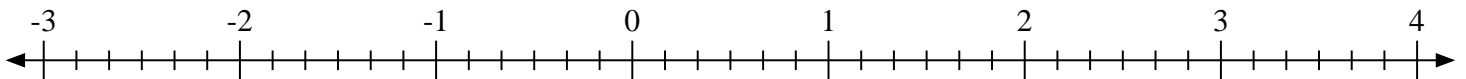
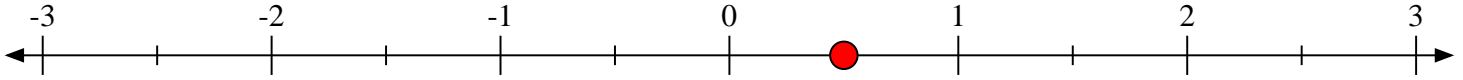
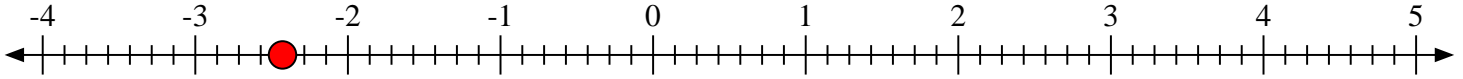
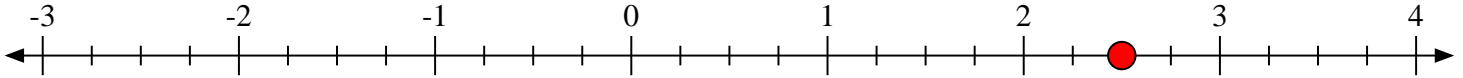
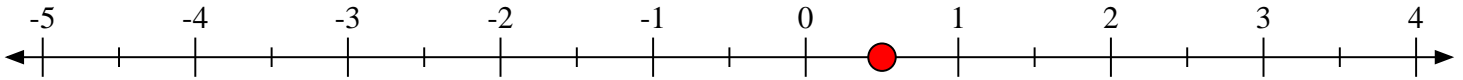
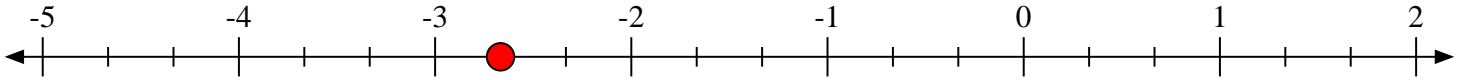
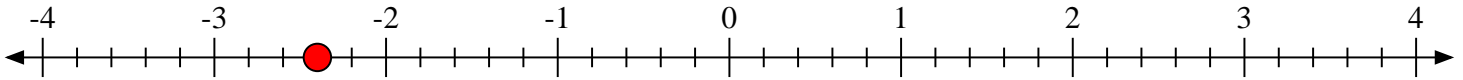
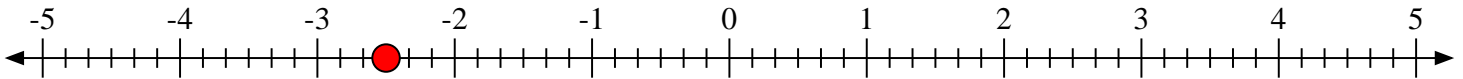
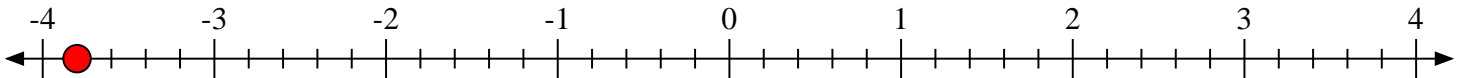


**Marca cada ubicación descrita.**1) Marque la ubicación de $0 \frac{1}{2}$ 2) Marque la ubicación de $-2 \frac{3}{7}$ 3) Marque la ubicación de $2 \frac{2}{4}$ 4) Marque la ubicación de $0 \frac{1}{2}$ 5) Marque la ubicación de $-2 \frac{2}{3}$ 6) Marque la ubicación de $-2 \frac{2}{5}$ 7) Marque la ubicación de $-2 \frac{3}{6}$ 8) Marque la ubicación de $-3 \frac{4}{5}$ 9) Marque la ubicación de $-2 \frac{3}{6}$ 



Marca cada ubicación descrita.

1) Marque la ubicación de $0\frac{1}{2}$ 2) Marque la ubicación de $-2\frac{3}{7}$ 3) Marque la ubicación de $2\frac{2}{4}$ 4) Marque la ubicación de $0\frac{1}{2}$ 5) Marque la ubicación de $-2\frac{2}{3}$ 6) Marque la ubicación de $-2\frac{2}{5}$ 7) Marque la ubicación de $-2\frac{3}{6}$ 8) Marque la ubicación de $-3\frac{4}{5}$ 9) Marque la ubicación de $-2\frac{3}{6}$ 