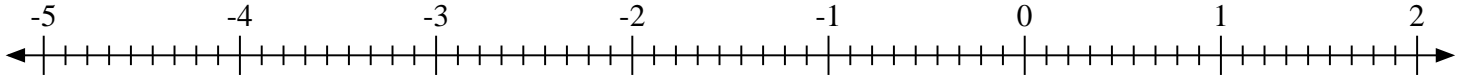
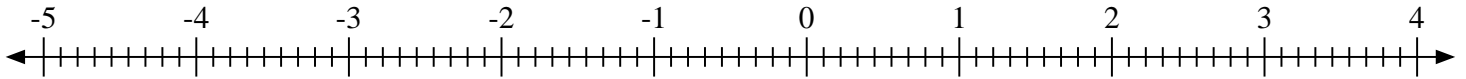
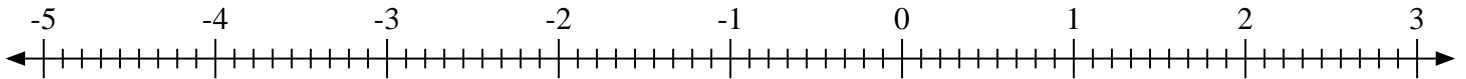
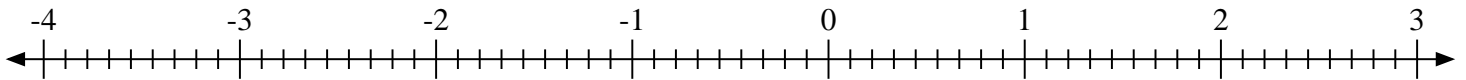
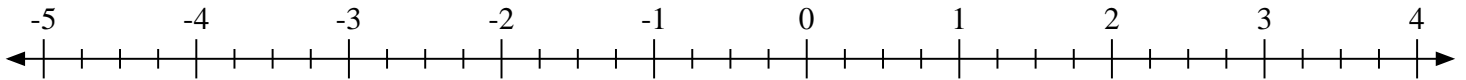
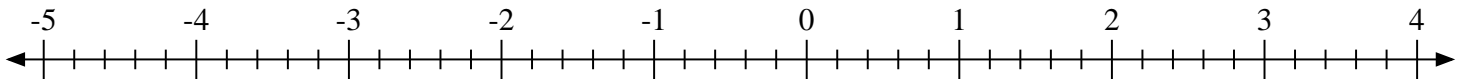
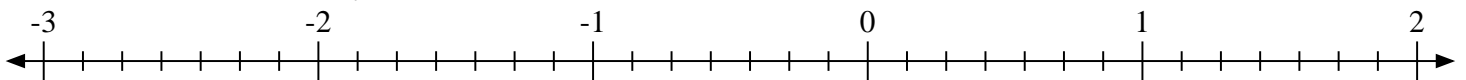
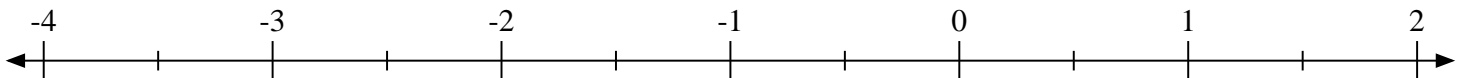
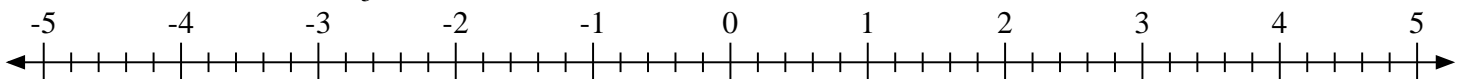
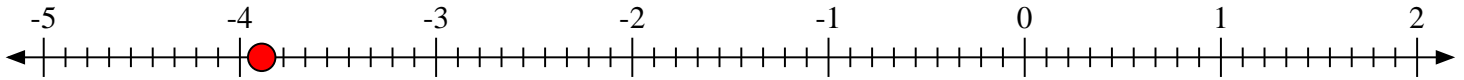
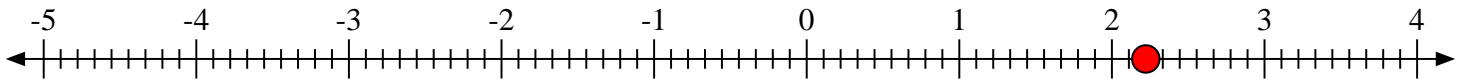
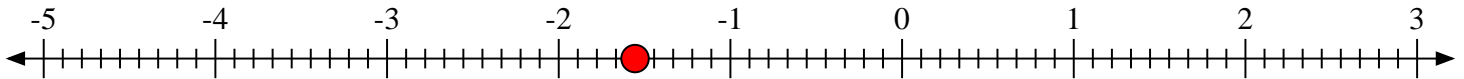
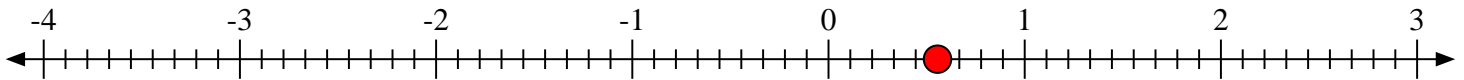
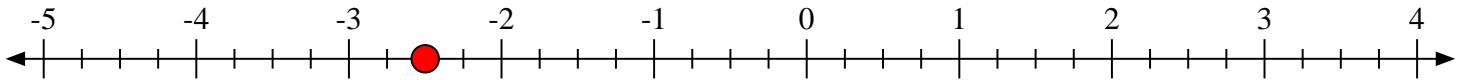
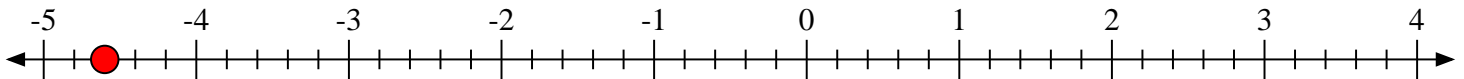
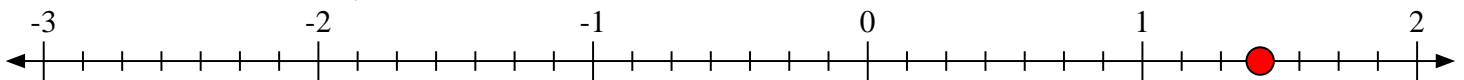
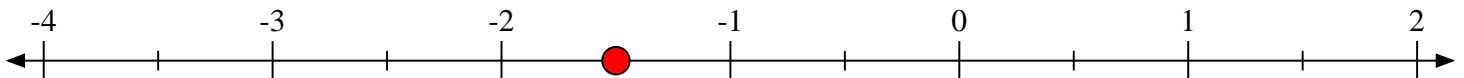


**Marca cada ubicación descrita.**1) Marque la ubicación de $-3\frac{8}{9}$ 2) Marque la ubicación de $2\frac{2}{9}$ 3) Marque la ubicación de $-1\frac{5}{9}$ 4) Marque la ubicación de $0\frac{5}{9}$ 5) Marque la ubicación de $-2\frac{2}{4}$ 6) Marque la ubicación de $-4\frac{3}{5}$ 7) Marque la ubicación de $1\frac{3}{7}$ 8) Marque la ubicación de $-1\frac{1}{2}$ 9) Marque la ubicación de $-2\frac{2}{5}$ 



Marca cada ubicación descrita.

1) Marque la ubicación de $-3\frac{8}{9}$ 2) Marque la ubicación de $2\frac{2}{9}$ 3) Marque la ubicación de $-1\frac{5}{9}$ 4) Marque la ubicación de $0\frac{5}{9}$ 5) Marque la ubicación de $-2\frac{2}{4}$ 6) Marque la ubicación de $-4\frac{3}{5}$ 7) Marque la ubicación de $1\frac{3}{7}$ 8) Marque la ubicación de $-1\frac{1}{2}$ 9) Marque la ubicación de $-2\frac{2}{5}$ 